



Question Paper Preview

Notations :

- Options shown in green color and with  icon are correct.
- Options shown in red color and with  icon are incorrect.

Question Paper Name:	ASSISTANT TEACHER PRIMARY 7th Oct 2018 Shift 3
Subject Name:	ASSISTANT TEACHER PRIMARY
Creation Date:	2018-10-07 19:28:25
Duration:	120
Total Marks:	200
Display Marks:	Yes
Share Answer Key With Delivery Engine:	Yes
Actual Answer Key:	Yes
Calculator:	None
Magnifying Glass Required?:	No
Ruler Required?:	No
Eraser Required?:	No
Scratch Pad Required?:	No
Rough Sketch/Notepad Required?:	No
Protractor Required?:	No
Show Watermark on Console?:	No
Highlighter:	No
Auto Save on Console?:	No

Mental Ability

Group Number :	1
Group Id :	167943694
Group Maximum Duration :	0
Group Minimum Duration :	0
Revisit allowed for view? :	No
Revisit allowed for edit? :	No
Break time:	0
Group Marks:	20
Revisit allowed for group Instructions? :	Yes
Maximum Instruction Time:	0
Minimum Instruction Time:	0

Mental Ability

Section Id :	167943759
Section Number :	1
Section type :	Online
Mandatory or Optional:	Mandatory
Number of Questions:	20
Number of Questions to be attempted:	20
Section Marks:	20

Display Number Panel:

Yes

Group All Questions:

No

Sub-Section Number:

1

Sub-Section Id:

1679431179

Question Shuffling Allowed :

Yes

Question Number : 1 Question Id : 16794318573 Question Type : MCQ Option Shuffling : Yes Display Question Number : Yes
Single Line Question Option : No Option Orientation : Vertical

Correct Marks : 1 Wrong Marks : 0.25

Read the following information carefully and answer the question given below:


' α ' stands for '=';


' β ' stands for '>';


' δ ' stands for '<';


If $6m \alpha 5n$ and $2n \beta 3p$, then:

Options :

1.  $4m \beta 3p$

2.  $2m \delta p$

3.  $4m \alpha 3p$

4.  $2m \beta 3p$

Question Number : 1 Question Id : 16794318573 Question Type : MCQ Option Shuffling : Yes Display Question Number : Yes
Single Line Question Option : No Option Orientation : Vertical

Correct Marks : 1 Wrong Marks : 0.25

निम्नलिखित जानकारी ध्यानपूर्वक पढ़ें और नीचे दिए गए प्रश्न का उत्तर दें।


' α ' का अर्थ '=' है;

' β ' का अर्थ '>' है;

' δ ' का अर्थ '<' है;

यदि $6m \alpha 5n$ और $2n \beta 3p$, तो:

Options :

1.  $4m \beta 3p$

2.  $2m \delta p$

3. ✖ $4m \propto 3p$

4. ✖ $2m \propto 3p$

Question Number : 2 Question Id : 16794318574 Question Type : MCQ Option Shuffling : Yes Display Question Number : Yes
Single Line Question Option : No Option Orientation : Vertical

Correct Marks : 1 Wrong Marks : 0.25

Choose the similar pair for the following.

$7 : 24.5 :: \underline{\hspace{2cm}} : \underline{\hspace{2cm}}$

Options :

1. ✖ $8 : 34$

2. ✔ $9 : 40.5$

3. ✖ $11 : 61$

4. ✖ $12 : 71.5$

Question Number : 2 Question Id : 16794318574 Question Type : MCQ Option Shuffling : Yes Display Question Number : Yes
Single Line Question Option : No Option Orientation : Vertical

Correct Marks : 1 Wrong Marks : 0.25

निम्नलिखित के लिए एकसमान युग्म का चयन करें।

$7 : 24.5 :: \underline{\hspace{2cm}} : \underline{\hspace{2cm}}$

Options :

1. ✖ $8 : 34$

2. ✔ $9 : 40.5$

3. ✖ $11 : 61$

4. ✖ $12 : 71.5$

Question Number : 3 Question Id : 16794318575 Question Type : MCQ Option Shuffling : Yes Display Question Number : Yes
Single Line Question Option : No Option Orientation : Vertical

Correct Marks : 1 Wrong Marks : 0.25

In a class, there are 18 girls who are over 150 cm tall. If these constitute three fourths of the girls and the total number of girls is two-thirds of the total number of students in the class, what is the number of boys in the class?

Options :

1. ✖ 8

2. ✖ 10

3. ✔ 12

4. ✖ 15

Question Number : 3 Question Id : 16794318575 Question Type : MCQ Option Shuffling : Yes Display Question Number : Yes
Single Line Question Option : No Option Orientation : Vertical

Correct Marks : 1 Wrong Marks : 0.25

एक कक्षा में, 18 लड़कियां हैं जिनकी लम्बाई 150 cm से अधिक है। यदि ये कुल लड़कियों का तीन चौथाई हिस्सा हैं और लड़कियों की कुल संख्या कक्षा में छात्रों की कुल संख्या का दो तिहाई है, तो कक्षा में लड़कों की संख्या कितनी है?

Options :

1. ✖ 8

2. ✖ 10

3. ✔ 12

4. ✖ 15

Question Number : 4 Question Id : 16794318576 Question Type : MCQ Option Shuffling : Yes Display Question Number : Yes
Single Line Question Option : No Option Orientation : Vertical

Correct Marks : 1 Wrong Marks : 0.25

Reaching the place of meeting 20 minutes before 9.50 hours Kamal found himself 30 minutes earlier than the man who came 40 minutes late. What was the scheduled time of the meeting?

Options :

1. ✖ 9.10

2. ✔ 9.20

3. ✖ 9.30

4. ✖ 9.45

Question Number : 4 Question Id : 16794318576 Question Type : MCQ Option Shuffling : Yes Display Question Number : Yes
Single Line Question Option : No Option Orientation : Vertical

Correct Marks : 1 Wrong Marks : 0.25

बैठक की जगह पर 9.50 बजे से 20 मिनट पहले पहुंचे कमल ने पाया कि वह 40 मिनट की देरी से पहुँचने वाले आदमी से 30 मिनट पहले पहुँच गया था। बैठक का निर्धारित समय क्या था?

Options :

1. ✖ 9.10

2. ✓ 9.20

3. ✗ 9.30

4. ✗ 9.45

Question Number : 5 Question Id : 16794318577 Question Type : MCQ Option Shuffling : Yes Display Question Number : Yes
Single Line Question Option : No Option Orientation : Vertical

Correct Marks : 1 Wrong Marks : 0.25

Pointing towards Nithin, Sathya said, "He is the son of only son of my grandfather". How is the boy related to Sathya?

Options :

1. ✓ Brother

2. ✗ Father

3. ✗ Son

4. ✗ Uncle

Question Number : 5 Question Id : 16794318577 Question Type : MCQ Option Shuffling : Yes Display Question Number : Yes
Single Line Question Option : No Option Orientation : Vertical

Correct Marks : 1 Wrong Marks : 0.25

नितिन की ओर इशारा करते हुए, सत्या ने कहा, "वह मेरे दादा के इकलौते पुत्र के पुत्र हैं"। लड़के का सत्या से क्या रिश्ता है?

Options :

1. ✓ भाई

2. ✗ पिता

3. ✗ पुत्र

4. ✗ चाचा

Question Number : 6 Question Id : 16794318578 Question Type : MCQ Option Shuffling : Yes Display Question Number : Yes
Single Line Question Option : No Option Orientation : Vertical

Correct Marks : 1 Wrong Marks : 0.25

A cube is coloured red on all faces. It is cut into 64 smaller cubes of equal size. How many cubes have no face coloured?

Options :

1. ✗ 4

2. ✓ 8

3. ✗ 10

4. ✗ 16

Question Number : 6 Question Id : 16794318578 Question Type : MCQ Option Shuffling : Yes Display Question Number : Yes
Single Line Question Option : No Option Orientation : Vertical

Correct Marks : 1 Wrong Marks : 0.25

एक घन के सभी फलकों पर लाल रंग लगा है। इसे बराबर आकार के 64 छोटे घनों में काट दिया जाता है। कितने घनों के किसी भी फलक पर रंग नहीं लगा है?

Options :

1. ✗ 4

2. ✓ 8

3. ✗ 10

4. ✗ 16

Question Number : 7 Question Id : 16794318579 Question Type : MCQ Option Shuffling : Yes Display Question Number : Yes
Single Line Question Option : No Option Orientation : Vertical

Correct Marks : 1 Wrong Marks : 0.25

You are given a statement and four Arguments. Choose the comment about Argument from the given options below.

Statement:

Should there be compulsory military training for each adult in our country?

Argument:

- I. Yes. This is the only way to build a strong and powerful nation.
- II. Yes. This is the only way to impart discipline to the young generation.
- III. No. Compulsion always leads to repulsion.
- IV. No. This goes against the basic democratic right of an individual to choose his/her own programme.

Options :

1. ✗ Only Arguments I and II are strong

2. ✗ Only Arguments II and III are strong

3. ✓ Only Arguments III and IV are strong

4. ✗ All are strong

Question Number : 7 Question Id : 16794318579 Question Type : MCQ Option Shuffling : Yes Display Question Number : Yes
Single Line Question Option : No Option Orientation : Vertical

Correct Marks : 1 Wrong Marks : 0.25

आपको एक कथन और चार धारणाएं दी गई हैं। नीचे दिए गए विकल्पों में से धारणा के बारे में टिप्पणी चुनें।

कथन:

क्या हमारे देश में प्रत्येक वयस्क व्यक्ति के लिए अनिवार्य सैन्य प्रशिक्षण होना चाहिए?

धारणाएं:

- I. हाँ। एक मजबूत और शक्तिशाली राष्ट्र बनाने का यही एकमात्र तरीका है।
- II. हाँ। युवा पीढ़ी को अनुशासित करने का यही एकमात्र तरीका है।
- III. नहीं। अनिवार्यता हमेशा अरुचि पैदा करती है।
- IV. नहीं। यह व्यक्ति के अपने स्वयं के कार्यक्रम का चयन करने के मूल लोकतांत्रिक अधिकार के खिलाफ है।

Options :

- 1. ✖ केवल धारणाएं I और II मजबूत हैं।
- 2. ✖ केवल धारणाएं II और III मजबूत हैं।
- 3. ✔ केवल धारणाएं III और IV मजबूत हैं।
- 4. ✖ सभी मजबूत हैं।

Question Number : 8 Question Id : 16794318580 Question Type : MCQ Option Shuffling : Yes Display Question Number : Yes
Single Line Question Option : No Option Orientation : Vertical

Correct Marks : 1 Wrong Marks : 0.25

In a certain language, COUNTRY is written as DQXRYXF. How is MINISTER written in that code?

Options :

- 1. ✖ NKQMXYLZ
- 2. ✖ NKQMXZLY
- 3. ✖ NKQMXLYL
- 4. ✔ NKQMXZLZ

Question Number : 8 Question Id : 16794318580 Question Type : MCQ Option Shuffling : Yes Display Question Number : Yes
Single Line Question Option : No Option Orientation : Vertical

Correct Marks : 1 Wrong Marks : 0.25

एक कोड भाषा में, COUNTRY को DQXRYXF को लिखा जाता है। उस कोड में MINISTER को कैसे लिखा जाएगा?

Options :

1. ✖ NKQMXYLZ
2. ✖ NKQMXZLY
3. ✖ NKQMXLYL
4. ✔ NKQMXZLZ

Question Number : 9 Question Id : 16794318581 Question Type : MCQ Option Shuffling : Yes Display Question Number : Yes
Single Line Question Option : No Option Orientation : Vertical

Correct Marks : 1 Wrong Marks : 0.25

You have made some silly mistakes which have been pointed out to you. You will _____.

Options :

1. ✖ feel miserable
2. ✔ feel thankful
3. ✖ get angry
4. ✖ laugh it away

Question Number : 9 Question Id : 16794318581 Question Type : MCQ Option Shuffling : Yes Display Question Number : Yes
Single Line Question Option : No Option Orientation : Vertical

Correct Marks : 1 Wrong Marks : 0.25

आपने कुछ छोटी गलतियां की हैं जिन्हें आपको बताया जाता है। आप क्या करेंगे?

Options :

1. ✖ दुखी महसूस करना
2. ✔ आभारी महसूस करना
3. ✖ क्रोधित होना
4. ✖ इस पर हंसकर निपटना

Question Number : 10 Question Id : 16794318582 Question Type : MCQ Option Shuffling : Yes Display Question Number : Yes
Single Line Question Option : No Option Orientation : Vertical

Correct Marks : 1 Wrong Marks : 0.25

Read the following information carefully and answer the question given below.

Vikram, Barani, Sakthi and David are to be seated in a row. But Sakthi and David cannot be together. Also, Barani cannot be at the third place. If Vikram and Barani are together, then which of the following must be necessarily true?

Options :

1. ✖ Sakthi is at the first place
2. ✖ Sakthi is not at the first place
3. ✔ Vikram is at the third place
4. ✖ David is at the first place

Question Number : 10 Question Id : 16794318582 Question Type : MCQ Option Shuffling : Yes Display Question Number : Yes
Single Line Question Option : No Option Orientation : Vertical

Correct Marks : 1 Wrong Marks : 0.25

निम्नलिखित जानकारी को ध्यानपूर्वक पढ़ें और नीचे दिए गए प्रश्न का उत्तर दें।

विक्रम, बरानी, शक्ति और डेविड को एक पंक्ति में बैठना है। लेकिन शक्ति और डेविड एक साथ नहीं बैठ सकते हैं। इसके अलावा, बरानी तीसरे स्थान पर नहीं बैठ सकती है। अगर विक्रम और बरानी एक साथ हैं, तो निम्नलिखित में से कौन सा अवश्य सच होना चाहिए?

Options :

1. ✖ शक्ति पहले स्थान पर है
2. ✖ शक्ति पहले स्थान पर नहीं है
3. ✔ विक्रम तीसरे स्थान पर है
4. ✖ डेविड पहले स्थान पर है

Question Number : 11 Question Id : 16794318583 Question Type : MCQ Option Shuffling : Yes Display Question Number : Yes
Single Line Question Option : No Option Orientation : Vertical

Correct Marks : 1 Wrong Marks : 0.25

Choose the alternative which is closely resembles the mirror-image of the given combination.

YOUTH

Options :

1. ✖ HTUOY
2. ✖ YOUTH

3. ✖ HTNOY

4. ✔ HTUOY

Question Number : 11 Question Id : 16794318583 Question Type : MCQ Option Shuffling : Yes Display Question Number : Yes
Single Line Question Option : No Option Orientation : Vertical

Correct Marks : 1 Wrong Marks : 0.25

वह विकल्प चुनें जो दिए गए संयोजन की घनिष्ठ रूप से दर्पण-छवि के सदृश है।

YOUTH

Options :

1. ✖ HTNOY

2. ✖ YOUTH

3. ✖ HTNOY

4. ✔ HTUOY

Question Number : 12 Question Id : 16794318584 Question Type : MCQ Option Shuffling : Yes Display Question Number : Yes
Single Line Question Option : No Option Orientation : Vertical

Correct Marks : 1 Wrong Marks : 0.25

How many meaningful English words can be formed from the 1st, 5th, 7th and 9th letters of the word PUNCTUATE using them in different sequence only once?

Options :

1. ✖ 2

2. ✔ 3

3. ✖ 4

4. ✖ 5

Question Number : 12 Question Id : 16794318584 Question Type : MCQ Option Shuffling : Yes Display Question Number : Yes
Single Line Question Option : No Option Orientation : Vertical

Correct Marks : 1 Wrong Marks : 0.25

PUNCTUATE शब्द के पहले, 5^{वें}, 7^{वें} और 9^{वें} अक्षरों का विभिन्न अनुक्रमों में केवल एक बार उपयोग करके अंग्रेजी के कितने सार्थक शब्द बनाए जा सकते हैं?

Options :

1. ✖ 2

2. ✓ 3

3. ✗ 4

4. ✗ 5

Question Number : 13 Question Id : 16794318585 Question Type : MCQ Option Shuffling : Yes Display Question Number : Yes
Single Line Question Option : No Option Orientation : Vertical

Correct Marks : 1 Wrong Marks : 0.25

Find the odd one from the following.

Options :

1. ✗ Incense

2. ✗ Aura

3. ✓ Small

4. ✗ Aroma

Question Number : 13 Question Id : 16794318585 Question Type : MCQ Option Shuffling : Yes Display Question Number : Yes
Single Line Question Option : No Option Orientation : Vertical

Correct Marks : 1 Wrong Marks : 0.25

नीचे दिए गए में से विषम का पता लगाएं।

Options :

1. ✗ हवन सामग्री

2. ✗ प्रभामंडल

3. ✓ छोटा

4. ✗ सुगंध

Question Number : 14 Question Id : 16794318586 Question Type : MCQ Option Shuffling : Yes Display Question Number : Yes
Single Line Question Option : No Option Orientation : Vertical

Correct Marks : 1 Wrong Marks : 0.25

You are given three statements and four conclusions. Choose the comment about conclusion from the given options below.

Statement:

- I. No office is school.
- II. No school is house.
- III. All colleges are offices.

Conclusions:

- I. Some offices are colleges.
- II. No house is office.
- III. No school is college.
- IV. All offices are colleges.

Options :

- 1. ✖ Only conclusion I follows
- 2. ✖ Only conclusions II and IV follows
- 3. ✔ Only conclusions I and III follow
- 4. ✖ All follow

Question Number : 14 Question Id : 16794318586 Question Type : MCQ Option Shuffling : Yes Display Question Number : Yes
Single Line Question Option : No Option Orientation : Vertical

Correct Marks : 1 Wrong Marks : 0.25

आपको तीन कथन और चार निष्कर्ष दिए गए हैं। नीचे दिए गए विकल्पों में से निष्कर्ष के बारे में टिप्पणी चुनें।

कथन:

- I. कोई कार्यालय स्कूल नहीं है।
- II. कोई स्कूल घर नहीं है।
- III. सभी कॉलेज कार्यालय हैं।

निष्कर्ष:

- I. कुछ कार्यालय कॉलेज हैं।
- II. कोई घर कार्यालय नहीं है।
- III. कोई स्कूल कॉलेज नहीं है।
- IV. सभी कार्यालय कॉलेज हैं।

Options :

- 1. ✖ केवल निष्कर्ष I अनुसरण करता है
- 2. ✖ केवल निष्कर्ष II और IV अनुसरण करते हैं

3. ✓ केवल निष्कर्ष I और III अनुसरण करते हैं

4. ✗ सभी अनुसरण करते हैं

Question Number : 15 Question Id : 16794318587 Question Type : MCQ Option Shuffling : Yes Display Question Number : Yes
Single Line Question Option : No Option Orientation : Vertical

Correct Marks : 1 Wrong Marks : 0.25

You are given a question and three statements I, II and III. You have to decide whether the data provided in the statements are sufficient to answer the question.

In which year was Keshav born?

Statement:

I. Kesav is 6 years older than Kumar.

II. Kumar's brother was born in 1992.

III. Kesav's brother is two years younger than Kumar's brother who was 8 years younger than Kumar.

Options :

1. ✗ Data in statement I alone is sufficient to answer the question

2. ✗ Data in statement II alone is sufficient to answer the question

3. ✗ Both the statements I and II are necessary to answer the question

4. ✓ All the statements I, II and III are necessary to answer the question

Question Number : 15 Question Id : 16794318587 Question Type : MCQ Option Shuffling : Yes Display Question Number : Yes
Single Line Question Option : No Option Orientation : Vertical

Correct Marks : 1 Wrong Marks : 0.25

आपको एक प्रश्न और तीन कथन I, II और III दिए गए हैं। आपको सुनिश्चित करना है कि कथनों में प्रदान किया गया डेटा प्रश्न का उत्तर देने के लिए पर्याप्त है या नहीं।

केशव किस वर्ष में पैदा हुआ था?

कथन:

I. केशव कुमार से 6 साल बड़ा है।

II. कुमार का भाई 1992 में पैदा हुआ था।

III. केशव का भाई कुमार के भाई से दो साल छोटा है जो कुमार से 8 साल छोटा था।

Options :

1. ✗ प्रश्न का उत्तर देने के लिए अकेले कथन I में डेटा पर्याप्त है

2. ✖ प्रश्न का उत्तर देने के लिए अकेले कथन II में डेटा पर्याप्त है
3. ✖ प्रश्न का उत्तर देने के लिए कथन I और II दोनों आवश्यक हैं
4. ✔ प्रश्न का उत्तर देने के लिए सभी कथन I और II और III आवश्यक हैं

Question Number : 16 Question Id : 16794318588 Question Type : MCQ Option Shuffling : Yes Display Question Number : Yes
Single Line Question Option : No Option Orientation : Vertical

Correct Marks : 1 Wrong Marks : 0.25

Anu is facing towards west and turns through 50° clockwise direction, again 180° clockwise direction and then turns through 260° anti-clockwise direction. In which direction is she facing now?

Options :

1. ✔ South-west
2. ✖ North-west
3. ✖ South
4. ✖ North

Question Number : 16 Question Id : 16794318588 Question Type : MCQ Option Shuffling : Yes Display Question Number : Yes
Single Line Question Option : No Option Orientation : Vertical

Correct Marks : 1 Wrong Marks : 0.25

अनु का चेहरा पश्चिम दिशा की ओर है और वह दक्षिणावर्तदिशा में 50° घूम जाती है, फिर वह दक्षिणावर्त दिशा में 180° और फिर दक्षिणावर्त दिशा में 260° घूम जाती है। अब उसका चेहरा किस दिशा की ओर है?

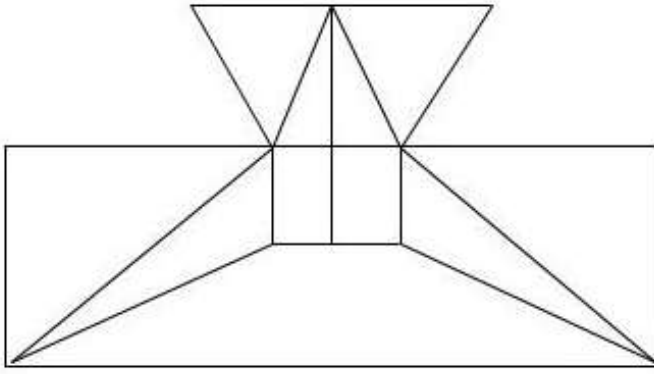
Options :

1. ✔ दक्षिण-पश्चिम
2. ✖ उत्तर-पश्चिम
3. ✖ दक्षिण
4. ✖ उत्तर

Question Number : 17 Question Id : 16794318589 Question Type : MCQ Option Shuffling : Yes Display Question Number : Yes
Single Line Question Option : No Option Orientation : Vertical

Correct Marks : 1 Wrong Marks : 0.25

Find the minimum number of straight lines required to make the following figure.

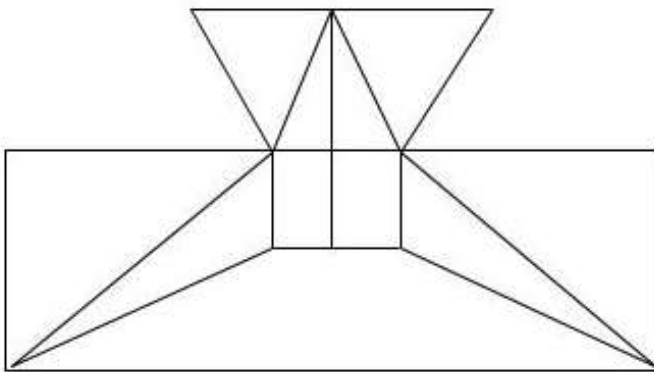


Options :

1. ✖ 12
2. ✖ 16
3. ✔ 17
4. ✖ 19

Question Number : 17 Question Id : 16794318589 Question Type : MCQ Option Shuffling : Yes Display Question Number : Yes
Single Line Question Option : No Option Orientation : Vertical
Correct Marks : 1 Wrong Marks : 0.25

निम्नलिखित आकृति को बनाने के लिए आवश्यक सीधी रेखाओं की न्यूनतम संख्या कितनी है?



Options :

1. ✖ 12
2. ✖ 16
3. ✔ 17
4. ✖ 19

Question Number : 18 Question Id : 16794318590 Question Type : MCQ Option Shuffling : Yes Display Question Number : Yes
Single Line Question Option : No Option Orientation : Vertical

Correct Marks : 1 Wrong Marks : 0.25

Find the missing number for the following.

1, 9, 25, 49, 81, ?

Options :

1. ✖ 100

2. ✔ 121

3. ✖ 112

4. ✖ 144

Question Number : 18 Question Id : 16794318590 Question Type : MCQ Option Shuffling : Yes Display Question Number : Yes
Single Line Question Option : No Option Orientation : Vertical

Correct Marks : 1 Wrong Marks : 0.25

निम्नलिखित श्रृंखला में लुप्त हुई संख्या ज्ञात करें।

1, 9, 25, 49, 81, ?

Options :

1. ✖ 100

2. ✔ 121

3. ✖ 112

4. ✖ 144

Question Number : 19 Question Id : 16794318591 Question Type : MCQ Option Shuffling : Yes Display Question Number : Yes
Single Line Question Option : No Option Orientation : Vertical

Correct Marks : 1 Wrong Marks : 0.25

A is twice as old as B. Three years ago, A was three times as old as B. How old is A now?

Options :

1. ✖ 5 years

2. ✖ 7 years

3. ✖ 10 years

4. ✓ 12 years

Question Number : 19 Question Id : 16794318591 Question Type : MCQ Option Shuffling : Yes Display Question Number : Yes
Single Line Question Option : No Option Orientation : Vertical

Correct Marks : 1 Wrong Marks : 0.25

A की उम्र B से दोगुनी है। तीन साल पहले, A की उम्र B से तीन गुनी थी। अब A की उम्र कितनी है?

Options :

1. ✗ 5 वर्ष

2. ✗ 7 वर्ष

3. ✗ 10 वर्ष

4. ✓ 12 वर्ष

Question Number : 20 Question Id : 16794318592 Question Type : MCQ Option Shuffling : Yes Display Question Number : Yes
Single Line Question Option : No Option Orientation : Vertical

Correct Marks : 1 Wrong Marks : 0.25

If $A \alpha B$ means 'A is the daughter of B'; $A \beta B$ means 'A is the father of B'; $A \gamma B$ means 'A is the mother of B'; $A \delta B$ means 'A is the brother of B'; Then in the expression $K \gamma L \beta M \delta N \alpha P$, how is K related to P?

Options :

1. ✗ Mother

2. ✓ Mother-in-law

3. ✗ Sister

4. ✗ Sister-in-law

Question Number : 20 Question Id : 16794318592 Question Type : MCQ Option Shuffling : Yes Display Question Number : Yes
Single Line Question Option : No Option Orientation : Vertical

Correct Marks : 1 Wrong Marks : 0.25

यदि $A \alpha B$ का अर्थ है 'A, B की बेटी है'; $A \beta B$ का मतलब है 'A, B का पिता है';

$A \gamma B$ का मतलब है 'A, B की माँ है';

$A \delta B$ का मतलब है 'A, B का भाई है';

तब व्यंजक $K \gamma L \beta M \delta N \alpha P$ में, K और P के बीच क्या संबंध है?

Options :

1. ✗ माँ

2. ✓ सास

3. ✖ बहन

4. ✖ भाभी

General Awareness

Group Number :	2
Group Id :	167943695
Group Maximum Duration :	0
Group Minimum Duration :	0
Revisit allowed for view? :	No
Revisit allowed for edit? :	No
Break time:	0
Group Marks:	20
Revisit allowed for group Instructions? :	Yes
Maximum Instruction Time:	0
Minimum Instruction Time:	0

General Awareness

Section Id :	167943760
Section Number :	1
Section type :	Online
Mandatory or Optional:	Mandatory
Number of Questions:	20
Number of Questions to be attempted:	20
Section Marks:	20
Display Number Panel:	Yes
Group All Questions:	No

Sub-Section Number:	1
Sub-Section Id:	1679431180
Question Shuffling Allowed :	Yes

Question Number : 21 Question Id : 16794318593 Question Type : MCQ Option Shuffling : Yes Display Question Number : Yes
Single Line Question Option : No Option Orientation : Vertical

Correct Marks : 1 Wrong Marks : 0.25

Which of the followings is called as Lower House?

Options :

1. ✖ Rajya Sabha

2. ✖ Legislative Assembly

3. ✖ Legislative Council

4. ✓ Lok Sabha

Question Number : 21 Question Id : 16794318593 Question Type : MCQ Option Shuffling : Yes Display Question Number : Yes
Single Line Question Option : No Option Orientation : Vertical

Correct Marks : 1 Wrong Marks : 0.25

निम्नलिखित में से किस विकल्प को निचला सदन कहा जाता है?

Options :

1. ✗ राज्य सभा

2. ✗ विधान सभा

3. ✗ विधान परिषद

4. ✓ लोक सभा

Question Number : 22 Question Id : 16794318594 Question Type : MCQ Option Shuffling : Yes Display Question Number : Yes
Single Line Question Option : No Option Orientation : Vertical

Correct Marks : 1 Wrong Marks : 0.25

From which of the following Amendments Municipalities have been established?

Options :

1. ✗ 72nd

2. ✗ 73rd

3. ✓ 74th

4. ✗ 75th

Question Number : 22 Question Id : 16794318594 Question Type : MCQ Option Shuffling : Yes Display Question Number : Yes
Single Line Question Option : No Option Orientation : Vertical

Correct Marks : 1 Wrong Marks : 0.25

निम्नलिखित में से किन संशोधनों के जरिए नगरपालिकाओं की स्थापना की गई?

Options :

1. ✗ 72वां

2. ✗ 73वां

3. ✓ 74वां

4. ✖ 75वां

Question Number : 23 Question Id : 16794318595 Question Type : MCQ Option Shuffling : Yes Display Question Number : Yes
Single Line Question Option : No Option Orientation : Vertical

Correct Marks : 1 Wrong Marks : 0.25

Number of seats in Legislative Council in Uttar Pradesh is:

Options :

1. ✖ 75

2. ✖ 36

3. ✖ 78

4. ✔ 100

Question Number : 23 Question Id : 16794318595 Question Type : MCQ Option Shuffling : Yes Display Question Number : Yes
Single Line Question Option : No Option Orientation : Vertical

Correct Marks : 1 Wrong Marks : 0.25

उत्तरप्रदेश की विधान परिषद में कुल सीटों की संख्या _____ है।

Options :

1. ✖ 75

2. ✖ 36

3. ✖ 78

4. ✔ 100

Question Number : 24 Question Id : 16794318596 Question Type : MCQ Option Shuffling : Yes Display Question Number : Yes
Single Line Question Option : No Option Orientation : Vertical

Correct Marks : 1 Wrong Marks : 0.25

Who was the President of the Fourth Buddhist Council held at Vaishali?

Options :

1. ✖ Bhadrabahu

2. ✖ Sabakami

3. ✔ Vasumitra

4. ✖ Mahendra

Question Number : 24 Question Id : 16794318596 Question Type : MCQ Option Shuffling : Yes Display Question Number : Yes
Single Line Question Option : No Option Orientation : Vertical

Correct Marks : 1 Wrong Marks : 0.25

वैशाली में आयोजित चौथी बौद्ध परिषद के अध्यक्ष कौन थे?

Options :

1. ✖ भद्रबाहु

2. ✖ सबाकमी

3. ✔ वसुमित्र

4. ✖ महेन्द्र

Question Number : 25 Question Id : 16794318597 Question Type : MCQ Option Shuffling : Yes Display Question Number : Yes
Single Line Question Option : No Option Orientation : Vertical

Correct Marks : 1 Wrong Marks : 0.25

What was the ruling period of Raziya Sultana?

Options :

1. ✖ 1230 – 1232

2. ✖ 1236 – 1240

3. ✔ 1236 – 1239

4. ✖ 1230 – 1236

Question Number : 25 Question Id : 16794318597 Question Type : MCQ Option Shuffling : Yes Display Question Number : Yes
Single Line Question Option : No Option Orientation : Vertical

Correct Marks : 1 Wrong Marks : 0.25

रज़िया सुल्तान का प्रशासन काल कब से कब था?

Options :

1. ✖ 1230 - 1232

2. ✖ 1236 - 1240

3. ✔ 1236 - 1239

4. ✖ 1230 - 1236

Question Number : 26 Question Id : 16794318598 Question Type : MCQ Option Shuffling : Yes Display Question Number : Yes
Single Line Question Option : No Option Orientation : Vertical

Correct Marks : 1 Wrong Marks : 0.25

Who was the author of Sarvajanic Satya Dharma?

Options :

1. ✖ Dadoba Pandurang
2. ✖ Gopalhari Deshmukh
3. ✖ Ishwar Chandra Vidyasagar
4. ✔ Jyotiba Phule

Question Number : 26 Question Id : 16794318598 Question Type : MCQ Option Shuffling : Yes Display Question Number : Yes
Single Line Question Option : No Option Orientation : Vertical

Correct Marks : 1 Wrong Marks : 0.25

सार्वजनिक सत्य धर्म के लेखक कौन हैं?

Options :

1. ✖ दादोबा पांडुरंग
2. ✖ गोपालहरी देशमुख
3. ✖ ईश्वर चन्द्र विद्यासागर
4. ✔ ज्योतिबा फुले

Question Number : 27 Question Id : 16794318599 Question Type : MCQ Option Shuffling : Yes Display Question Number : Yes
Single Line Question Option : No Option Orientation : Vertical

Correct Marks : 1 Wrong Marks : 0.25

As per the literacy rate 2011, what is the literacy rate of Arunachal Pradesh?

Options :

1. ✖ 66.4%
2. ✖ 67.0%
3. ✔ 65.4%
4. ✖ 66.1%

Question Number : 27 Question Id : 16794318599 Question Type : MCQ Option Shuffling : Yes Display Question Number : Yes
Single Line Question Option : No Option Orientation : Vertical

Correct Marks : 1 Wrong Marks : 0.25

वर्ष 2011 की साक्षरता दर के अनुसार, अरुणाचल प्रदेश की साक्षरता दर क्या है?

Options :

1. ✖ 66.4%
2. ✖ 67.0%
3. ✔ 65.4%
4. ✖ 66.1%

Question Number : 28 Question Id : 16794318600 Question Type : MCQ Option Shuffling : Yes Display Question Number : Yes
Single Line Question Option : No Option Orientation : Vertical

Correct Marks : 1 Wrong Marks : 0.25

Which one of the given options is the only right bank tributary of Godavari River?

Options :

1. ✖ Purna
2. ✖ Maner
3. ✔ Manjira
4. ✖ Sabri

Question Number : 28 Question Id : 16794318600 Question Type : MCQ Option Shuffling : Yes Display Question Number : Yes
Single Line Question Option : No Option Orientation : Vertical

Correct Marks : 1 Wrong Marks : 0.25

निम्नलिखित में से कौन सा विकल्प, गोदावरी नदी की सही सहायक नदी है?

Options :

1. ✖ पूर्णा
2. ✖ मानेर
3. ✔ मन्जीरा
4. ✖ सबरी

Question Number : 29 Question Id : 16794318601 Question Type : MCQ Option Shuffling : Yes Display Question Number : Yes
Single Line Question Option : No Option Orientation : Vertical

Correct Marks : 1 Wrong Marks : 0.25

El-Nino is a which type of Ocean current?

Options :

1. ❌ Cold ocean current
2. ✅ Warm ocean current
3. ❌ Strong equatorial current
4. ❌ Weak equatorial current

Question Number : 29 Question Id : 16794318601 Question Type : MCQ Option Shuffling : Yes Display Question Number : Yes
Single Line Question Option : No Option Orientation : Vertical

Correct Marks : 1 Wrong Marks : 0.25

एल-नीनो, किस प्रकार की महासागरीय धारा (ओशन करंट) है?

Options :

1. ❌ ठंडी महासागरीय धारा
2. ✅ गरम महासागरीय धारा
3. ❌ सशक्त भूमध्यरेखीय धारा
4. ❌ कमजोर भूमध्यरेखीय धारा

Question Number : 30 Question Id : 16794318602 Question Type : MCQ Option Shuffling : Yes Display Question Number : Yes
Single Line Question Option : No Option Orientation : Vertical

Correct Marks : 1 Wrong Marks : 0.25

When a ray of light travels from air to glass slab and strikes the surface of separation at 90° , then it _____.

Options :

1. ❌ Bends towards the normal
2. ❌ Bends away from the normal
3. ✅ Passes unbent
4. ❌ Passes in zigzag way

Question Number : 30 Question Id : 16794318602 Question Type : MCQ Option Shuffling : Yes Display Question Number : Yes
Single Line Question Option : No Option Orientation : Vertical

Correct Marks : 1 Wrong Marks : 0.25

जब रोशनी की एक किरण हवा से कांच के स्लैब की ओर यात्रा करते हुए 90° पर पृथक्करण की सतह पर गिरती है, तो वह _____।

Options :

1. ✖ सामान्य की ओर मुड़ती है
2. ✖ सामान्य से दूर मुड़ती है
3. ✔ बिना मुड़े चली जाती है
4. ✖ टेढ़े-मेढ़े रास्ते में गुज़रती है

Question Number : 31 Question Id : 16794318603 Question Type : MCQ Option Shuffling : Yes Display Question Number : Yes
Single Line Question Option : No Option Orientation : Vertical

Correct Marks : 1 Wrong Marks : 0.25

The law of Octaves was given by _____.

Options :

1. ✖ Dobereiner
2. ✔ Newlands
3. ✖ Medelew
4. ✖ Moseley

Question Number : 31 Question Id : 16794318603 Question Type : MCQ Option Shuffling : Yes Display Question Number : Yes
Single Line Question Option : No Option Orientation : Vertical

Correct Marks : 1 Wrong Marks : 0.25

लॉ ऑफ ऑक्टेव्स, के रचयिता _____ हैं।

Options :

1. ✖ डोबरनियर
2. ✔ न्यूलैंड्स
3. ✖ मेडेल्यू
4. ✖ मोसले

Question Number : 32 Question Id : 16794318604 Question Type : MCQ Option Shuffling : Yes Display Question Number : Yes
Single Line Question Option : No Option Orientation : Vertical

Correct Marks : 1 Wrong Marks : 0.25

_____ is an ore of aluminium.

Options :

1. ✖ Cyrolite
2. ✔ Bauxite
3. ✖ Haematite
4. ✖ Barium

Question Number : 32 Question Id : 16794318604 Question Type : MCQ Option Shuffling : Yes Display Question Number : Yes
Single Line Question Option : No Option Orientation : Vertical

Correct Marks : 1 Wrong Marks : 0.25

_____ एल्युमिनियम की कच्ची धातु (ओर) है।

Options :

1. ✖ साइरोलाइट
2. ✔ बॉक्साइट
3. ✖ हेमटाइट
4. ✖ बेरियम

Question Number : 33 Question Id : 16794318605 Question Type : MCQ Option Shuffling : Yes Display Question Number : Yes
Single Line Question Option : No Option Orientation : Vertical

Correct Marks : 1 Wrong Marks : 0.25

With regard to Cash Reserve Ratio (CRR) which of the following statements is correct?

1. CRR is the ratio (fixed by RBI) of the total deposits of a bank in India which is kept with the RBI in the form of Cash.
2. At Present (March 2018) it is 4%.

Options :

1. ✖ 1 only
2. ✖ 2 only
3. ✔ 1 and 2 both
4. ✖ None of the given options

Question Number : 33 Question Id : 16794318605 Question Type : MCQ Option Shuffling : Yes Display Question Number : Yes
Single Line Question Option : No Option Orientation : Vertical

Correct Marks : 1 Wrong Marks : 0.25

नकदी आरक्षित अनुपात (सी.आर.आर.) के संबंध में, निम्नलिखित में से कौन सा कथन सही है?

1. सीआरआर, भारत में बैंक में उपलब्ध कुल जमा राशि (आरबीआई द्वारा निश्चित) जिसे आरबीआई के पास नकद रूप में रखा जाता है, का अनुपात होता है।
2. वर्तमान में यह (यथा मार्च 2018), 4% है।

Options :

1. ✖ केवल 1
2. ✖ केवल 2
3. ✔ 1 और 2 दोनों
4. ✖ दिए गए विकल्पों में से कोई नहीं

Question Number : 34 Question Id : 16794318606 Question Type : MCQ Option Shuffling : Yes Display Question Number : Yes
Single Line Question Option : No Option Orientation : Vertical

Correct Marks : 1 Wrong Marks : 0.25

What does REER stands for?

Options :

1. ✔ Real Effective Exchange Rate
2. ✖ Regional Effective Exchange Rate
3. ✖ Required Effective Exchange Rate
4. ✖ Re-effective Exchange Rate

Question Number : 34 Question Id : 16794318606 Question Type : MCQ Option Shuffling : Yes Display Question Number : Yes
Single Line Question Option : No Option Orientation : Vertical

Correct Marks : 1 Wrong Marks : 0.25

आर.ई.ई.आर (REER) का पूरा नाम क्या है?

Options :

1. ✔ रियल एफेक्टिव एक्सचेंज रेट
2. ✖ रीजनल एफेक्टिव एक्सचेंज रेट
3. ✖ रिक्वायर्ड एफेक्टिव एक्सचेंज रेट

4. ✖ री-एफेक्टिव एक्स्चेंज रेट

Question Number : 35 Question Id : 16794318607 Question Type : MCQ Option Shuffling : Yes Display Question Number : Yes
Single Line Question Option : No Option Orientation : Vertical

Correct Marks : 1 Wrong Marks : 0.25

What is the Minimum support price of Tur (Arhar) in 2018-2019 season?

Options :

1. ✖ ₹ 5610

2. ✖ ₹ 5625

3. ✖ ₹ 5650

4. ✔ ₹ 5675

Question Number : 35 Question Id : 16794318607 Question Type : MCQ Option Shuffling : Yes Display Question Number : Yes
Single Line Question Option : No Option Orientation : Vertical

Correct Marks : 1 Wrong Marks : 0.25

2018-19 अवधि हेतु तूर (अरहर) का न्यूनतम समर्थन मूल्य क्या है?

Options :

1. ✖ ₹ 5610

2. ✖ ₹ 5625

3. ✖ ₹ 5650

4. ✔ ₹ 5675

Question Number : 36 Question Id : 16794318608 Question Type : MCQ Option Shuffling : Yes Display Question Number : Yes
Single Line Question Option : No Option Orientation : Vertical

Correct Marks : 1 Wrong Marks : 0.25

In which of the following countries the inaugural summit meeting of BRIC (at present BRICS) was held?

Options :

1. ✖ India

2. ✖ China

3. ✔ Russia

4. ✖ Brazil

Question Number : 36 Question Id : 16794318608 Question Type : MCQ Option Shuffling : Yes Display Question Number : Yes
Single Line Question Option : No Option Orientation : Vertical

Correct Marks : 1 Wrong Marks : 0.25

निम्नलिखित में से किन देशों में, BRIC (वर्तमान में BRICS) की शुरुआती सम्मेलन बैठक आयोजित की गई थी?

Options :

1. ✖ भारत
2. ✖ चीन
3. ✔ रूस
4. ✖ ब्राज़ील

Question Number : 37 Question Id : 16794318609 Question Type : MCQ Option Shuffling : Yes Display Question Number : Yes
Single Line Question Option : No Option Orientation : Vertical

Correct Marks : 1 Wrong Marks : 0.25

“Macha” is regional dance of which of the following states?

Options :

1. ✖ Himanchal Pradesh
2. ✖ Maharashtra
3. ✖ Andhra Pradesh
4. ✔ Madhya Pradesh

Question Number : 37 Question Id : 16794318609 Question Type : MCQ Option Shuffling : Yes Display Question Number : Yes
Single Line Question Option : No Option Orientation : Vertical

Correct Marks : 1 Wrong Marks : 0.25

“माचा” निम्नलिखित में से किस राज्य का क्षेत्रीय नृत्य है?

Options :

1. ✖ हिमाचल प्रदेश
2. ✖ महाराष्ट्र
3. ✖ आंध्र प्रदेश
4. ✔ मध्यप्रदेश

Question Number : 38 Question Id : 16794318610 Question Type : MCQ Option Shuffling : Yes Display Question Number : Yes
Single Line Question Option : No Option Orientation : Vertical

Correct Marks : 1 Wrong Marks : 0.25

The 3rd Asian Para Games will be held in which of the following cities of Indonesia?

Options :

1. ✓ Jakarta
2. ✗ Palembang
3. ✗ Bandung
4. ✗ Medan

Question Number : 38 Question Id : 16794318610 Question Type : MCQ Option Shuffling : Yes Display Question Number : Yes
Single Line Question Option : No Option Orientation : Vertical

Correct Marks : 1 Wrong Marks : 0.25

तीसरे एशियाई पैरा खेल, इंडोनेशिया की निम्नलिखित में से किस शहर में आयोजित की जाएगी?

Options :

1. ✓ जकार्ता
2. ✗ पालम्बैंग
3. ✗ बंदुंग
4. ✗ मेदन

Question Number : 39 Question Id : 16794318611 Question Type : MCQ Option Shuffling : Yes Display Question Number : Yes
Single Line Question Option : No Option Orientation : Vertical

Correct Marks : 1 Wrong Marks : 0.25

P.V Sindhu is associated with which of the following Sports?

Options :

1. ✗ Tennis
2. ✗ Table tennis
3. ✓ Badminton
4. ✗ Shooting

Question Number : 39 Question Id : 16794318611 Question Type : MCQ Option Shuffling : Yes Display Question Number : Yes
Single Line Question Option : No Option Orientation : Vertical

Correct Marks : 1 Wrong Marks : 0.25

पी.वी. सिंधु निम्नलिखित में से किस खेल से संबंधित हैं?

Options :

1. ✖ टेनिस
2. ✖ टेबल टेनिस
3. ✔ बैडमिन्टन
4. ✖ तीरंदाजी

Question Number : 40 Question Id : 16794318612 Question Type : MCQ Option Shuffling : Yes Display Question Number : Yes
Single Line Question Option : No Option Orientation : Vertical

Correct Marks : 1 Wrong Marks : 0.25

Who has been recently elected as the next President of Mexico?

Options :

1. ✔ Andres Manuel Lopez Obrador
2. ✖ Jose Eladio Alcain
3. ✖ Angelica Rivera
4. ✖ Felipe Calderon

Question Number : 40 Question Id : 16794318612 Question Type : MCQ Option Shuffling : Yes Display Question Number : Yes
Single Line Question Option : No Option Orientation : Vertical

Correct Marks : 1 Wrong Marks : 0.25

हाल ही में किसे मेक्सिको के अगले राष्ट्रपति के रूप में चयनित किया गया है?

Options :

1. ✔ एंड्रेस मैनुअल लोपेज़ ओब्रडोर
2. ✖ जोस इलेडियो एल्केन
3. ✖ एन्जलिका रिवेरा
4. ✖ फेलिप काल्डेरॉन

Arithmetic Ability

Group Number :

3

Group Id :

167943696

Group Maximum Duration :	0
Group Minimum Duration :	0
Revisit allowed for view? :	No
Revisit allowed for edit? :	No
Break time:	0
Group Marks:	20
Revisit allowed for group Instructions? :	Yes
Maximum Instruction Time:	0
Minimum Instruction Time:	0

Arithmetic Ability

Section Id :	167943761
Section Number :	1
Section type :	Online
Mandatory or Optional:	Mandatory
Number of Questions:	19
Number of Questions to be attempted:	19
Section Marks:	20
Display Number Panel:	Yes
Group All Questions:	No


Sub-Section Number:	1
Sub-Section Id:	1679431181
Question Shuffling Allowed :	Yes

Question Number : 41 Question Id : 16794318613 Question Type : MCQ Option Shuffling : Yes Display Question Number : Yes
Single Line Question Option : No Option Orientation : Vertical

Correct Marks : 1 Wrong Marks : 0.25

The value of $\frac{94.3 \times 94.3 - 94.3 \times 5.7 + 5.7 \times 5.7}{9.43 \times 9.43 \times 9.43 + 0.57 \times 0.57 \times 0.57}$ is equal to:

Options :

1.  10
2.  100
3.  1000
4.  10,000

Question Number : 41 Question Id : 16794318613 Question Type : MCQ Option Shuffling : Yes Display Question Number : Yes
Single Line Question Option : No Option Orientation : Vertical

Correct Marks : 1 Wrong Marks : 0.25

$\frac{94.3 \times 94.3 - 94.3 \times 5.7 + 5.7 \times 5.7}{9.43 \times 9.43 \times 9.43 + 0.57 \times 0.57 \times 0.57}$ का मान इसके बराबर है:

Options :

1.  10

2. ✖ 100

3. ✖ 1000

4. ✖ 10,000

Question Number : 42 Question Id : 16794318614 Question Type : MCQ Option Shuffling : Yes Display Question Number : Yes
Single Line Question Option : No Option Orientation : Vertical

Correct Marks : 1 Wrong Marks : 0.25

The unit digit in $(23)^{61} - (24)^{32} + (37)^{19}$ is:

Options :

1. ✔ 0

2. ✖ 1

3. ✖ 2

4. ✖ 4

Question Number : 42 Question Id : 16794318614 Question Type : MCQ Option Shuffling : Yes Display Question Number : Yes
Single Line Question Option : No Option Orientation : Vertical

Correct Marks : 1 Wrong Marks : 0.25

$(23)^{61} - (24)^{32} + (37)^{19}$ में इकाई अंक है:

Options :

1. ✔ 0

2. ✖ 1

3. ✖ 2

4. ✖ 4

Question Number : 43 Question Id : 16794318615 Question Type : MCQ Option Shuffling : Yes Display Question Number : Yes
Single Line Question Option : No Option Orientation : Vertical

Correct Marks : 1 Wrong Marks : 0.25

What is the sum of the digits of the least whole number which should be added to 52364 to make it perfect square number?

Options :

1. ✖ 8

2. ✖ 10

3. ✖ 12

4. ✔ 14

Question Number : 43 Question Id : 16794318615 Question Type : MCQ Option Shuffling : Yes Display Question Number : Yes
Single Line Question Option : No Option Orientation : Vertical

Correct Marks : 1 Wrong Marks : 0.25

उस न्यूनतम पूर्ण संख्या के अंकों का योग क्या है जिसे पूर्ण वर्ग संख्या बनाने के लिए 52364 में जोड़ा जाना चाहिए?

Options :

1. ✖ 8

2. ✖ 10

3. ✖ 12

4. ✔ 14

Question Number : 44 Question Id : 16794318616 Question Type : MCQ Option Shuffling : Yes Display Question Number : Yes
Single Line Question Option : No Option Orientation : Vertical

Correct Marks : 1 Wrong Marks : 0.25

The value of $0.8\overline{54} + 0.\overline{23} - 0.6\overline{8}$ is:

Options :

1. ✖ $0.4\overline{03}$

2. ✖ $0.4\overline{18}$

3. ✔ $0.3\overline{97}$

4. ✖ $0.3\overline{87}$

Question Number : 44 Question Id : 16794318616 Question Type : MCQ Option Shuffling : Yes Display Question Number : Yes
Single Line Question Option : No Option Orientation : Vertical

Correct Marks : 1 Wrong Marks : 0.25

$0.8\overline{54} + 0.\overline{23} - 0.6\overline{8}$ का मान इसके बराबर है:

Options :

1. ✖ $0.4\overline{03}$

2. ✖ $0.4\overline{18}$

3. ✔ $0.3\overline{97}$

4. ✖ 0.387

Question Number : 45 Question Id : 16794318617 Question Type : MCQ Option Shuffling : Yes Display Question Number : Yes
Single Line Question Option : No Option Orientation : Vertical

Correct Marks : 1 Wrong Marks : 0.25

The two numbers are in the ratio 5 : 7 and the product of their HCF and LCM is 4235. What is the sum of the numbers?

Options :

1. ✖ 108

2. ✔ 132

3. ✖ 144

4. ✖ 156

Question Number : 45 Question Id : 16794318617 Question Type : MCQ Option Shuffling : Yes Display Question Number : Yes
Single Line Question Option : No Option Orientation : Vertical

Correct Marks : 1 Wrong Marks : 0.25

दो संख्याएं 5 : 7 के अनुपात में हैं और उनके महत्तम समापवर्तक और लघुत्तम समावर्त्य का गुणनफल 4235 है। संख्याओं का योग क्या है?

Options :

1. ✖ 108

2. ✔ 132

3. ✖ 144

4. ✖ 156

Question Number : 46 Question Id : 16794318618 Question Type : MCQ Option Shuffling : Yes Display Question Number : Yes
Single Line Question Option : No Option Orientation : Vertical

Correct Marks : 1 Wrong Marks : 0.25

The average marks of students in a class is 69.2. The average marks of boys is 65 and that of girls is 72. What is the ratio of boys and girls?

Options :

1. ✔ 2 : 3

2. ✖ 3 : 2

3. ✖ 3 : 4

4. ✖ 4 : 3

Question Number : 46 Question Id : 16794318618 Question Type : MCQ Option Shuffling : Yes Display Question Number : Yes
Single Line Question Option : No Option Orientation : Vertical

Correct Marks : 1 Wrong Marks : 0.25

एक कक्षा में छात्रों का औसत प्राप्तांक 69.2 है। लड़कों का औसत प्राप्तांक 65 है और लड़कियों का औसत प्राप्तांक 72 है। लड़कों और लड़कियों का अनुपात क्या है?

Options :

1. ✓ 2 : 3

2. ✗ 3 : 2

3. ✗ 3 : 4

4. ✗ 4 : 3

Question Number : 47 Question Id : 16794318619 Question Type : MCQ Option Shuffling : Yes Display Question Number : Yes
Single Line Question Option : No Option Orientation : Vertical

Correct Marks : 1 Wrong Marks : 0.25

Two vessels A and B contains spirit and water in the ratio 3 : 5 and 3 : 2. Their contents are mixed in the ratio 5 : 4. What is the ratio of spirit and water in the new mixture?

Options :

1. ✗ 13 : 15

2. ✗ 15 : 17

3. ✗ 17 : 19

4. ✓ 19 : 21

Question Number : 47 Question Id : 16794318619 Question Type : MCQ Option Shuffling : Yes Display Question Number : Yes
Single Line Question Option : No Option Orientation : Vertical

Correct Marks : 1 Wrong Marks : 0.25

दो पात्रों A और B में 3 : 5 और 3 : 2 के अनुपात में स्पिरिट और पानी है। उनकी सामग्रियों को 5 : 4 के अनुपात में मिश्रित किया जाता है। नए मिश्रण में स्पिरिट और पानी का अनुपात क्या है?

Options :

1. ✗ 13 : 15

2. ✗ 15 : 17

3. ✗ 17 : 19

4. ✓ 19 : 21

Question Number : 48 Question Id : 16794318620 Question Type : MCQ Option Shuffling : Yes Display Question Number : Yes
Single Line Question Option : No Option Orientation : Vertical

Correct Marks : 1 Wrong Marks : 0.25

A sum of ₹ 1,49,420 is divided among A, B and C such that 5 times share of A is equal to 3 times share of B which is equal to 2 times share of C. What is share of A?

Options :

1. ✓ ₹ 28,920

2. ✗ ₹ 48,200

3. ✗ ₹ 48,600

4. ✗ ₹ 57,840

Question Number : 48 Question Id : 16794318620 Question Type : MCQ Option Shuffling : Yes Display Question Number : Yes
Single Line Question Option : No Option Orientation : Vertical

Correct Marks : 1 Wrong Marks : 0.25

₹ 1,49,420 की राशि A, B और C में इस तरह से बांटी जाती है कि A का 5 गुना हिस्सा B के 3 गुने हिस्से के बराबर है और C के भी 2 गुने हिस्से के बराबर है। A का हिस्सा कितना है?

Options :

1. ✓ ₹ 28,920

2. ✗ ₹ 48,200

3. ✗ ₹ 48,600

4. ✗ ₹ 57,840

Question Number : 49 Question Id : 16794318621 Question Type : MCQ Option Shuffling : Yes Display Question Number : Yes
Single Line Question Option : No Option Orientation : Vertical

Correct Marks : 1 Wrong Marks : 0.25

The numerator of a fraction is increased by 150% and denominator is decreased by 20%, then fraction becomes $\frac{15}{14}$.
What is the original fraction?

Options :

1. ✗ $\frac{8}{25}$

2. ✗ $\frac{12}{25}$

3. ✓ $\frac{12}{35}$

4. ✗ $\frac{16}{45}$

Question Number : 49 Question Id : 16794318621 Question Type : MCQ Option Shuffling : Yes Display Question Number : Yes
Single Line Question Option : No Option Orientation : Vertical
Correct Marks : 1 Wrong Marks : 0.25

एक भिन्न का अंश 150% बढ़ा दिया जाता है और हर 20% कम कर दिया जाता है तो भिन्न $\frac{15}{14}$ हो जाता है। मूल भिन्न क्या है?

Options :

1. ✗ $\frac{8}{25}$

2. ✗ $\frac{12}{25}$

3. ✓ $\frac{12}{35}$

4. ✗ $\frac{16}{45}$

Question Number : 50 Question Id : 16794318622 Question Type : MCQ Option Shuffling : Yes Display Question Number : Yes
Single Line Question Option : No Option Orientation : Vertical
Correct Marks : 1 Wrong Marks : 0.25

By selling 25 articles a person gains selling price of 5 articles. What is his gain percent?

Options :

1. ✗ $\frac{50}{3}\%$

2. ✗ 18%

3. ✗ 20%

4. ✓ 25%

Question Number : 50 Question Id : 16794318622 Question Type : MCQ Option Shuffling : Yes Display Question Number : Yes
Single Line Question Option : No Option Orientation : Vertical
Correct Marks : 1 Wrong Marks : 0.25

25 वस्तुएं बेचने पर एक व्यक्ति को 5 वस्तुओं के बिक्री मूल्य का लाभ होता है। उसका लाभ प्रतिशत क्या है?

Options :

1. ✖ $\frac{50}{3}\%$
2. ✖ 18%
3. ✖ 20%
4. ✔ 25%

Question Number : 51 Question Id : 16794318623 Question Type : MCQ Option Shuffling : Yes Display Question Number : Yes
Single Line Question Option : No Option Orientation : Vertical

Correct Marks : 1 Wrong Marks : 0.25

An article is sold at a certain price. By selling it at $\frac{5}{6}$ of that price, one loses 10%. What is his gain percent at the original price?

Options :

1. ✔ 8%
2. ✖ 9%
3. ✖ 10%
4. ✖ 12%

Question Number : 51 Question Id : 16794318623 Question Type : MCQ Option Shuffling : Yes Display Question Number : Yes
Single Line Question Option : No Option Orientation : Vertical

Correct Marks : 1 Wrong Marks : 0.25

एक वस्तु को एक निश्चित मूल्य पर बेचा जाता है। उसे उस मूल्य के $\frac{5}{6}$ पर बेचने पर 10% हानि होती है। मूल मूल्य पर उसका लाभ प्रतिशत क्या है?

Options :

1. ✔ 8%
2. ✖ 9%
3. ✖ 10%
4. ✖ 12%

Question Number : 52 Question Id : 16794318624 Question Type : MCQ Option Shuffling : Yes Display Question Number : Yes
Single Line Question Option : No Option Orientation : Vertical

Correct Marks : 1 Wrong Marks : 0.25

The value of a machine depreciates every year at the rate of 10% per annum. If present value of machine is ₹ 8,000, what is percent decrease in its value in three years?

Options :

- 1. ✓ 27.1%
- 2. ✗ 27.6%
- 3. ✗ 28.8%
- 4. ✗ 30%

Question Number : 52 Question Id : 16794318624 Question Type : MCQ Option Shuffling : Yes Display Question Number : Yes
Single Line Question Option : No Option Orientation : Vertical

Correct Marks : 1 Wrong Marks : 0.25

एक मशीन का मूल्य 10% प्रति वर्ष की दर से प्रत्येक वर्ष मूल्यहासित होता है। यदि मशीन का वर्तमान मूल्य ₹ 8,000 है तो उसके मूल्य में गिरावट का प्रतिशत कितना है?

Options :

- 1. ✓ 27.1%
- 2. ✗ 27.6%
- 3. ✗ 28.8%
- 4. ✗ 30%

Question Number : 53 Question Id : 16794318625 Question Type : MCQ Option Shuffling : Yes Display Question Number : Yes
Single Line Question Option : No Option Orientation : Vertical

Correct Marks : 1 Wrong Marks : 0.25

If diagonal of a rectangle is 25 cm and its perimeter is 62 cm, what is its area in cm^2 ?

Options :

- 1. ✗ 150
- 2. ✓ 168
- 3. ✗ 175
- 4. ✗ 300

Question Number : 53 Question Id : 16794318625 Question Type : MCQ Option Shuffling : Yes Display Question Number : Yes
Single Line Question Option : No Option Orientation : Vertical

Correct Marks : 1 Wrong Marks : 0.25

यदि एक आयत का विकर्ण 25 cm है और उसकी परिधि 62 cm है, तो उसका क्षेत्रफल cm^2 में क्या है?

Options :

1. ✖ 150

2. ✔ 168

3. ✖ 175

4. ✖ 300

Question Number : 54 Question Id : 16794318626 Question Type : MCQ Option Shuffling : Yes Display Question Number : Yes
Single Line Question Option : No Option Orientation : Vertical

Correct Marks : 1 Wrong Marks : 0.25

If each edge of a cube is increased by 50%, what is percent increase in its surface area?

Options :

1. ✖ 250%

2. ✖ 150%

3. ✔ 125%

4. ✖ 100%

Question Number : 54 Question Id : 16794318626 Question Type : MCQ Option Shuffling : Yes Display Question Number : Yes
Single Line Question Option : No Option Orientation : Vertical

Correct Marks : 1 Wrong Marks : 0.25

यदि एक घन के प्रत्येक किनारे (एज) को 50% तक बढ़ा दिया जाता है, तो उसके सतह क्षेत्रफल में प्रतिशत वृद्धि क्या है?

Options :

1. ✖ 250%

2. ✖ 150%

3. ✔ 125%

4. ✖ 100%

Question Number : 55 Question Id : 16794318627 Question Type : MCQ Option Shuffling : Yes Display Question Number : Yes
Single Line Question Option : No Option Orientation : Vertical

Correct Marks : 1 Wrong Marks : 0.25

A, B and C alone can do a piece of work in 10 days, 15 days and 12 days respectively. They together started the work but after 3 days, A and B both left. In how many days, C alone will complete the remaining work?

Options :

1. ✖ 2

2. ✓ 3

3. ✗ 3.5

4. ✗ 4

Question Number : 55 Question Id : 16794318627 Question Type : MCQ Option Shuffling : Yes Display Question Number : Yes
Single Line Question Option : No Option Orientation : Vertical

Correct Marks : 1 Wrong Marks : 0.25

A, B और C अकेले एक काम को क्रमशः 10 दिन, 15 दिन और 12 दिन में कर सकते हैं। उन्होंने एक साथ काम शुरू किया लेकिन 3 दिन बाद A और B दोनों काम छोड़ देते हैं। अकेले C शेष काम को कितने दिन में पूरा करेगा?

Options :

1. ✗ 2

2. ✓ 3

3. ✗ 3.5

4. ✗ 4

Question Number : 56 Question Id : 16794318628 Question Type : MCQ Option Shuffling : Yes Display Question Number : Yes
Single Line Question Option : No Option Orientation : Vertical

Correct Marks : 1 Wrong Marks : 0.25

If 6 persons working 8 hours a day earn ₹ 8,400 in 5 days, then 9 persons working 6 hours a day for 8 days will earn how much money?

Options :

1. ✗ ₹ 14,560

2. ✗ ₹ 14,840

3. ✓ ₹ 15,120

4. ✗ ₹ 16,240

Question Number : 56 Question Id : 16794318628 Question Type : MCQ Option Shuffling : Yes Display Question Number : Yes
Single Line Question Option : No Option Orientation : Vertical

Correct Marks : 1 Wrong Marks : 0.25

यदि दिन में 8 घंटे काम करने वाले 6 व्यक्ति 5 दिन में ₹ 8,400 कमाते हैं तो दिन में 6 घंटे काम करने वाले 9 व्यक्ति 8 दिन में कितना पैसा कमाएंगे?

Options :

1. ✗ ₹ 14,560

2. ✖ ₹ 14,840

3. ✔ ₹ 15,120

4. ✖ ₹ 16,240

Question Number : 57 Question Id : 16794318629 Question Type : MCQ Option Shuffling : Yes Display Question Number : Yes
Single Line Question Option : No Option Orientation : Vertical

Correct Marks : 1 Wrong Marks : 0.25

The speed of a boat in still water is 10 km/h. It can go 30 km upstream and return downstream to original point in 8 hours. What is speed of stream in km/h?

Options :

1. ✖ 2

2. ✖ 3

3. ✖ 4

4. ✔ 5

Question Number : 57 Question Id : 16794318629 Question Type : MCQ Option Shuffling : Yes Display Question Number : Yes
Single Line Question Option : No Option Orientation : Vertical

Correct Marks : 1 Wrong Marks : 0.25

स्थिर पानी में एक नाव की गति 10 km/h है। यह 8 घंटे में 30 किमी अपस्ट्रीम जा सकती है और डाउनस्ट्रीम मूल स्थान पर लौट सकती है। धारा की गति km/h में क्या है?

Options :

1. ✖ 2

2. ✖ 3

3. ✖ 4

4. ✔ 5

Question Number : 58 Question Id : 16794318630 Question Type : MCQ Option Shuffling : Yes Display Question Number : Yes
Single Line Question Option : No Option Orientation : Vertical

Correct Marks : 1 Wrong Marks : 0.25

A train without stoppage travels at the speed of 100 km/h and with stoppage it travels with a speed of 70 km/h. How many minutes does the train stop on an average per hour?

Options :

1. ✖ 20

2. ✓ 18

3. ✗ 16

4. ✗ 15

Question Number : 58 Question Id : 16794318630 Question Type : MCQ Option Shuffling : Yes Display Question Number : Yes
Single Line Question Option : No Option Orientation : Vertical

Correct Marks : 1 Wrong Marks : 0.25

एक ट्रेन ठहराव के बिना 100 किमी प्रति घंटे की गति से और ठहराव के साथ 70 किमी प्रति घंटे की गति से चलती है। ट्रेन प्रति घंटे औसतन कितने मिनट रुकती है?

Options :

1. ✗ 20

2. ✓ 18

3. ✗ 16

4. ✗ 15

Sub-Section Number: 2
Sub-Section Id: 1679431182
Question Shuffling Allowed : Yes

Question Id : 16794318631 Question Type : COMPREHENSION Sub Question Shuffling Allowed : Yes Group Comprehension
Questions : No

Question Numbers : (59 to 60)

Question Label : Comprehension

The following table give the height of students in centimeters in a primary school. Read the table and answer the following questions.

Class Interval	80-90	90-100	100-110	110-120	120-130	130-140
No. of students	50	66	68	76	100	140

Sub questions

Question Number : 59 Question Id : 16794318632 Question Type : MCQ Option Shuffling : Yes Display Question Number : Yes
Single Line Question Option : No Option Orientation : Vertical

Correct Marks : 1 Wrong Marks : 0.25

What is the average (mean) height of students in cm?

Options :

1. ✓ 115.6

2. ✗ 112.8

3. ✗ 108.2

4. ✗ 102.8

Question Number : 60 Question Id : 16794318633 Question Type : MCQ Option Shuffling : Yes Display Question Number : Yes
Single Line Question Option : No Option Orientation : Vertical

Correct Marks : 1 Wrong Marks : 0.25

If the data given in the table is represented as Pie-chart, what is the central angle of the sector in which median lies to nearest whole degree?

Options :

1. ✗ 49°

2. ✗ 52°

3. ✓ 55°

4. ✗ 58°

Question Id : 16794318631 Question Type : COMPREHENSION Sub Question Shuffling Allowed : Yes Group Comprehension Questions : No

Question Numbers : (59 to 60)

Question Label : Comprehension

निम्नलिखित तालिका एक प्राथमिक स्कूल में छात्रों की ऊंचाई सेंटीमीटर में देती है। तालिका पढ़कर निम्नलिखित प्रश्नों के उत्तर दें।

वर्ग अंतराल	80-90	90-100	100-110	110-120	120-130	130-140
छात्रों की संख्या	50	66	68	76	100	140

Sub questions

Question Number : 59 Question Id : 16794318632 Question Type : MCQ Option Shuffling : Yes Display Question Number : Yes
Single Line Question Option : No Option Orientation : Vertical

Correct Marks : 1 Wrong Marks : 0.25

छात्रों की औसत (माध्य) ऊंचाई सेंटीमीटर में क्या है?

Options :

1. ✓ 115.6

2. ✖ 112.8

3. ✖ 108.2

4. ✖ 102.8

Question Number : 60 Question Id : 16794318633 Question Type : MCQ Option Shuffling : Yes Display Question Number : Yes
Single Line Question Option : No Option Orientation : Vertical

Correct Marks : 1 Wrong Marks : 0.25

यदि तालिका में दिए गए डेटा को पाई-चार्ट के रूप में दर्शाया जाता है तो माधिका वाले क्षेत्र का केन्द्रीय कोण निकटतम पूर्ण डिग्री में क्या है?

Options :

1. ✖ 49°

2. ✖ 52°

3. ✔ 55°

4. ✖ 58°

General English

Group Number :	4
Group Id :	167943697
Group Maximum Duration :	0
Group Minimum Duration :	0
Revisit allowed for view? :	No
Revisit allowed for edit? :	No
Break time:	0
Group Marks:	20
Revisit allowed for group Instructions? :	Yes
Maximum Instruction Time:	0
Minimum Instruction Time:	0

General English

Section Id :	167943762
Section Number :	1
Section type :	Online
Mandatory or Optional:	Mandatory
Number of Questions:	16
Number of Questions to be attempted:	16
Section Marks:	20
Display Number Panel:	Yes
Group All Questions:	No

Sub-Section Number: 1
Sub-Section Id: 1679431183
Question Shuffling Allowed : Yes

Question Number : 61 Question Id : 16794318634 Question Type : MCQ Option Shuffling : Yes Display Question Number : Yes
Single Line Question Option : No Option Orientation : Vertical
Correct Marks : 1 Wrong Marks : 0.25

Identify it.

One of the options is a complete sentence.

Options :

1. ✖ Race and Creed.
2. ✖ A wolf in sheep's clothing.
3. ✖ The Niagara Falls.
4. ✔ Plants also have feelings.

Question Number : 61 Question Id : 16794318634 Question Type : MCQ Option Shuffling : Yes Display Question Number : Yes
Single Line Question Option : No Option Orientation : Vertical
Correct Marks : 1 Wrong Marks : 0.25

Identify it.

One of the options is a complete sentence.

Options :

1. ✖ Race and Creed.
2. ✖ A wolf in sheep's clothing.
3. ✖ The Niagara Falls.
4. ✔ Plants also have feelings.

Question Number : 62 Question Id : 16794318635 Question Type : MCQ Option Shuffling : Yes Display Question Number : Yes
Single Line Question Option : No Option Orientation : Vertical
Correct Marks : 1 Wrong Marks : 0.25

Choose a suitable clause to complete the sentence.

Corruption must go, _____.

Options :

1. ☒ although it has deep roots in the society

2. ☐ and it has deep roots in the society

3. ☐ so it has deep roots in the society

4. ☐ nor it has deep roots in the society

Question Number : 62 Question Id : 16794318635 Question Type : MCQ Option Shuffling : Yes Display Question Number : Yes
Single Line Question Option : No Option Orientation : Vertical

Correct Marks : 1 Wrong Marks : 0.25

Choose a suitable clause to complete the sentence.

Corruption must go, _____.

Options :

1. ☒ although it has deep roots in the society

2. ☐ and it has deep roots in the society

3. ☐ so it has deep roots in the society

4. ☐ nor it has deep roots in the society

Question Number : 63 Question Id : 16794318636 Question Type : MCQ Option Shuffling : Yes Display Question Number : Yes
Single Line Question Option : No Option Orientation : Vertical

Correct Marks : 1 Wrong Marks : 0.25

Which sentence makes most sense?

Options :

1. ☒ Etiquettes can be taught, but one's culture will still have a huge influence.

2. ☐ Etiquettes can be taught, and one's culture will still have a huge influence.

3. ☐ Etiquettes can be taught, despite one's culture will still have a huge influence.

4. ☐ Etiquettes can be taught, so one's culture will still have a huge influence.

Question Number : 63 Question Id : 16794318636 Question Type : MCQ Option Shuffling : Yes Display Question Number : Yes
Single Line Question Option : No Option Orientation : Vertical

Correct Marks : 1 Wrong Marks : 0.25

Which sentence makes most sense?

Options :

1. ☒ Etiquettes can be taught, but one's culture will still have a huge influence.
2. ☐ Etiquettes can be taught, and one's culture will still have a huge influence.
3. ☐ Etiquettes can be taught, despite one's culture will still have a huge influence.
4. ☐ Etiquettes can be taught, so one's culture will still have a huge influence.

Question Number : 64 Question Id : 16794318637 Question Type : MCQ Option Shuffling : Yes Display Question Number : Yes
Single Line Question Option : No Option Orientation : Vertical

Correct Marks : 1 Wrong Marks : 0.25

Nowadays, my friend _____ for IKEA.

Options :

1. ☐ has worked
2. ☐ has been working
3. ☐ worked
4. ☒ is working

Question Number : 64 Question Id : 16794318637 Question Type : MCQ Option Shuffling : Yes Display Question Number : Yes
Single Line Question Option : No Option Orientation : Vertical

Correct Marks : 1 Wrong Marks : 0.25

Nowadays, my friend _____ for IKEA.

Options :

1. ☐ has worked
2. ☐ has been working
3. ☐ worked
4. ☒ is working

Question Number : 65 Question Id : 16794318638 Question Type : MCQ Option Shuffling : Yes Display Question Number : Yes
Single Line Question Option : No Option Orientation : Vertical

Correct Marks : 1 Wrong Marks : 0.25

People are asking him _____ a beard.

Options :

1. ☐ sports

2. ✓ to sport

3. ✗ sporting

4. ✗ to sporting

Question Number : 65 Question Id : 16794318638 Question Type : MCQ Option Shuffling : Yes Display Question Number : Yes
Single Line Question Option : No Option Orientation : Vertical

Correct Marks : 1 Wrong Marks : 0.25

People are asking him _____ a beard.

Options :

1. ✗ sports

2. ✓ to sport

3. ✗ sporting

4. ✗ to sporting

Question Number : 66 Question Id : 16794318639 Question Type : MCQ Option Shuffling : Yes Display Question Number : Yes
Single Line Question Option : No Option Orientation : Vertical

Correct Marks : 1 Wrong Marks : 0.25

‘We will win the tournament?’, the captain said. The Reported Speech form would be _____

Options :

1. ✗ the captain said that they had won the tournament.

2. ✗ the captain said that they will win the tournament.

3. ✗ the captain said that they are winning the tournament.

4. ✓ the captain said that they would win the tournament.

Question Number : 66 Question Id : 16794318639 Question Type : MCQ Option Shuffling : Yes Display Question Number : Yes
Single Line Question Option : No Option Orientation : Vertical

Correct Marks : 1 Wrong Marks : 0.25

‘We will win the tournament?’, the captain said. The Reported Speech form would be _____

Options :

1. ✗ the captain said that they had won the tournament.

2. ✗ the captain said that they will win the tournament.

3. ✖ the captain said that they are winning the tournament.

4. ✔ the captain said that they would win the tournament.

Question Number : 67 Question Id : 16794318640 Question Type : MCQ Option Shuffling : Yes Display Question Number : Yes
Single Line Question Option : No Option Orientation : Vertical

Correct Marks : 1 Wrong Marks : 0.25

Provide the appropriate question tag.

He would inform the Manager, _____

Options :

1. ✖ won't he?

2. ✖ doesn't he?

3. ✔ wouldn't he?

4. ✖ shouldn't he?

Question Number : 67 Question Id : 16794318640 Question Type : MCQ Option Shuffling : Yes Display Question Number : Yes
Single Line Question Option : No Option Orientation : Vertical

Correct Marks : 1 Wrong Marks : 0.25

Provide the appropriate question tag.

He would inform the Manager, _____

Options :

1. ✖ won't he?

2. ✖ doesn't he?

3. ✔ wouldn't he?

4. ✖ shouldn't he?

Question Number : 68 Question Id : 16794318641 Question Type : MCQ Option Shuffling : Yes Display Question Number : Yes
Single Line Question Option : No Option Orientation : Vertical

Correct Marks : 1 Wrong Marks : 0.25

Provide the appropriate synonym for the underlined word.

The coach was in a predicament to pick the best player for the next game.

Options :

1. ✖ plan

2. ✖ situation

3. ✖ confident

4. ✔ quandary

Question Number : 68 Question Id : 16794318641 Question Type : MCQ Option Shuffling : Yes Display Question Number : Yes
Single Line Question Option : No Option Orientation : Vertical

Correct Marks : 1 Wrong Marks : 0.25

Provide the appropriate synonym for the underlined word.

The coach was in a predicament to pick the best player for the next game.

Options :

1. ✖ plan

2. ✖ situation

3. ✖ confident

4. ✔ quandary

Question Number : 69 Question Id : 16794318642 Question Type : MCQ Option Shuffling : Yes Display Question Number : Yes
Single Line Question Option : No Option Orientation : Vertical

Correct Marks : 1 Wrong Marks : 0.25

Provide the appropriate synonym for the underlined word.

The student is prankish by nature.

Options :

1. ✖ Bullish

2. ✔ Mischievous

3. ✖ Dapper

4. ✖ Short-tempered

Question Number : 69 Question Id : 16794318642 Question Type : MCQ Option Shuffling : Yes Display Question Number : Yes
Single Line Question Option : No Option Orientation : Vertical

Correct Marks : 1 Wrong Marks : 0.25

Provide the appropriate synonym for the underlined word.

The student is prankish by nature.

Options :

1. ✖ Bullish
2. ✔ Mischievous
3. ✖ Dapper
4. ✖ Short-tempered

Question Number : 70 Question Id : 16794318643 Question Type : MCQ Option Shuffling : Yes Display Question Number : Yes
Single Line Question Option : No Option Orientation : Vertical

Correct Marks : 1 Wrong Marks : 0.25

Arrange the following sentence in meaningful and grammatically correct order.

- A. Unfortunately there are few of them with these qualities around.
- B. Is he/she the one who is an expert at his/her subject or is there any other criteria?
- C. Who is a good teacher?
- D. Good teachers are the ones who have a lifelong impact on students.
- E. They are called 'superstar teachers'.

Options :

1. ✖ BACDE
2. ✔ CBDAE
3. ✖ ACDBE
4. ✖ CDABC

Question Number : 70 Question Id : 16794318643 Question Type : MCQ Option Shuffling : Yes Display Question Number : Yes
Single Line Question Option : No Option Orientation : Vertical

Correct Marks : 1 Wrong Marks : 0.25

Arrange the following sentence in meaningful and grammatically correct order.

- A. Unfortunately there are few of them with these qualities around.
- B. Is he/she the one who is an expert at his/her subject or is there any other criteria?
- C. Who is a good teacher?
- D. Good teachers are the ones who have a lifelong impact on students.
- E. They are called 'superstar teachers'.

Options :

1. ✖ BACDE
2. ✔ CBDAE
3. ✖ ACDBE

4. ✖ CDABC

Question Number : 71 Question Id : 16794318644 Question Type : MCQ Option Shuffling : Yes Display Question Number : Yes
Single Line Question Option : No Option Orientation : Vertical

Correct Marks : 1 Wrong Marks : 0.25

Provide the appropriate antonym for the underlined word.

This metal is a vital component in the production of the machine.

Options :

1. ✔ Dispensable
2. ✖ Contaminant
3. ✖ Subsistent
4. ✖ Indispensable

Question Number : 71 Question Id : 16794318644 Question Type : MCQ Option Shuffling : Yes Display Question Number : Yes
Single Line Question Option : No Option Orientation : Vertical

Correct Marks : 1 Wrong Marks : 0.25

Provide the appropriate antonym for the underlined word.

This metal is a vital component in the production of the machine.

Options :

1. ✔ Dispensable
2. ✖ Contaminant
3. ✖ Subsistent
4. ✖ Indispensable

Question Number : 72 Question Id : 16794318645 Question Type : MCQ Option Shuffling : Yes Display Question Number : Yes
Single Line Question Option : No Option Orientation : Vertical

Correct Marks : 1 Wrong Marks : 0.25

Provide the appropriate antonym for the underlined word.

He is pessimistic about the success of the experiment.

Options :

1. ✖ Doubtful
2. ✔ Optimistic

3. ✖ Candid

4. ✖ Mystic

Question Number : 72 Question Id : 16794318645 Question Type : MCQ Option Shuffling : Yes Display Question Number : Yes
Single Line Question Option : No Option Orientation : Vertical

Correct Marks : 1 Wrong Marks : 0.25

Provide the appropriate antonym for the underlined word.

He is pessimistic about the success of the experiment.

Options :

1. ✖ Doubtful

2. ✔ Optimistic

3. ✖ Candid

4. ✖ Mystic

Question Number : 73 Question Id : 16794318646 Question Type : MCQ Option Shuffling : Yes Display Question Number : Yes
Single Line Question Option : No Option Orientation : Vertical

Correct Marks : 1 Wrong Marks : 0.25

Choose the correct preposition.

_____ the stern exterior, lies a very emotional person.

Options :

1. ✖ About

2. ✔ Beneath

3. ✖ Across

4. ✖ Within

Question Number : 73 Question Id : 16794318646 Question Type : MCQ Option Shuffling : Yes Display Question Number : Yes
Single Line Question Option : No Option Orientation : Vertical

Correct Marks : 1 Wrong Marks : 0.25

Choose the correct preposition.

_____ the stern exterior, lies a very emotional person.

Options :

1. ✖ About

2. ✓ Beneath

3. ✗ Across

4. ✗ Within

Question Number : 74 Question Id : 16794318647 Question Type : MCQ Option Shuffling : Yes Display Question Number : Yes
Single Line Question Option : No Option Orientation : Vertical

Correct Marks : 1 Wrong Marks : 0.25

Choose the correct preposition.

_____ you choose the university, speak to your professor.

Options :

1. ✗ From

2. ✗ Below

3. ✓ Before

4. ✗ Beyond

Question Number : 74 Question Id : 16794318647 Question Type : MCQ Option Shuffling : Yes Display Question Number : Yes
Single Line Question Option : No Option Orientation : Vertical

Correct Marks : 1 Wrong Marks : 0.25

Choose the correct preposition.

_____ you choose the university, speak to your professor.

Options :

1. ✗ From

2. ✗ Below

3. ✓ Before

4. ✗ Beyond

Question Number : 75 Question Id : 16794318648 Question Type : MCQ Option Shuffling : Yes Display Question Number : Yes
Single Line Question Option : No Option Orientation : Vertical

Correct Marks : 1 Wrong Marks : 0.25

Provide the appropriate conjunction.

_____ the end of the year, the performance of the company dipped.

Options :

1. ✖ And
2. ✖ Otherwise
3. ✖ Despite
4. ✔ Towards

Question Number : 75 Question Id : 16794318648 Question Type : MCQ Option Shuffling : Yes Display Question Number : Yes
Single Line Question Option : No Option Orientation : Vertical

Correct Marks : 1 Wrong Marks : 0.25

Provide the appropriate conjunction.

_____ the end of the year, the performance of the company dipped.

Options :

1. ✖ And
2. ✖ Otherwise
3. ✖ Despite
4. ✔ Towards

Sub-Section Number:	2
Sub-Section Id:	1679431184
Question Shuffling Allowed :	Yes

Question Id : 16794318649 Question Type : COMPREHENSION Sub Question Shuffling Allowed : Yes Group Comprehension Questions : No

Question Numbers : (76 to 80)

Question Label : Comprehension

Read the following passage and answer the questions that follow.

Probably the most frustrating workplace irony for many of us is how we relentlessly pursue success but never seem to arrive at being successful. Of course, there are millions of successful people--Nobel Prize winners, college graduates, loving parents. But for a variety of reasons, so many of us do not *feel* successful even when we achieve much of what we are striving for. Particularly at work, we can find ourselves searching for wealth, recognition, and accomplishment, yet year in and year out, no matter how much we achieve, there's still something that seems to elude our grasp. The famed Greek fabulist Aesop shed some light on this dilemma more than twenty-six hundred years ago in a short tale entitled, "A Farmer and His Children":

A farmer, at death's door, wishing to impart to his children an important secret, called them to his deathbed and said, "My children, I am about to die. I would have you know, therefore, that our vineyard contains a hidden treasure--a treasure I have cherished all my life. Dig and you, too, will find it."

When their father died, the children took spade and pitchfork and turned the soil of the vineyard over and over again in their search for the treasure, which they were told lay hidden in the vineyard.

For weeks and weeks, they toiled, breathlessly searching every inch of the land. Finally, the children ended their search in frustration, for they had found no treasure. But to their surprise, the vines, after so much thorough digging, produced a bountiful, lush crop of grapes such as had never been seen before.

Like the farmer's children, we are all, in one way or another, looking for treasure at work: the promotion, new assignment, salary increase, recognition, big bonus. At times, it's as if we sense that work holds the winning number to life's lottery, and each day we toil in hopes of hitting the jackpot.

Yet like the farmer's children, most of us come up empty-handed. At times, work's disappointments can feel like a cruel joke. No matter how hard we work, no matter how much success we achieve, no matter how secure or celebrated we feel, it never seems enough. But Aesop's tale reveals a profound spiritual irony to our frustration: in mistakenly searching for a treasure that does not exist, we overlook the good fortune being cultivated right within our grasp.

Sub questions

Question Number : 76 Question Id : 16794318650 Question Type : MCQ Option Shuffling : Yes Display Question Number : Yes
Single Line Question Option : No Option Orientation : Vertical

Correct Marks : 1 Wrong Marks : 0.25

'Dilemma' means:

Options :

1. ✖ Happy situation
2. ✔ Tricky situation
3. ✖ Pleasant situation
4. ✖ Troubled situation

Question Number : 77 Question Id : 16794318651 Question Type : MCQ Option Shuffling : Yes Display Question Number : Yes
Single Line Question Option : No Option Orientation : Vertical

Correct Marks : 1 Wrong Marks : 0.25

The children produced a bountiful, lush crop of grapes such as had never been seen before as:

Options :

1. ✖ They sought the advice of expert farmers.
2. ✖ They used lot of fertilizers.
3. ✖ The father gave them some useful tips.

4. ✔ They turned the soil of the vineyard over and over again which produced the crop.

Question Number : 78 Question Id : 16794318652 Question Type : MCQ Option Shuffling : Yes Display Question Number : Yes
Single Line Question Option : No Option Orientation : Vertical

Correct Marks : 1 Wrong Marks : 0.25

When the writer says 'each day we toil in hopes of hitting the jackpot' he means _____

Options :

1. ✖ the work hard as we all like to win a tournament.
2. ✖ everyone wants to accumulate lot of money in a bank.
3. ✖ everyone aspires to store silver.
4. ✔ we work hard hoping to win a large amount of money, especially in a lottery.

Question Number : 79 Question Id : 16794318653 Question Type : MCQ Option Shuffling : Yes Display Question Number : Yes
Single Line Question Option : No Option Orientation : Vertical

Correct Marks : 1 Wrong Marks : 0.25

What never seems enough according to the author?

Options :

1. ☒ Hard work, success, security and fame.
2. ☐ Jobs, success, fame and managerial position.
3. ☐ Hard work, victory, happiness and bliss
4. ☐ Success, security, insecurity and position.

Question Number : 80 Question Id : 16794318654 Question Type : MCQ Option Shuffling : Yes Display Question Number : Yes
Single Line Question Option : No Option Orientation : Vertical

Correct Marks : 1 Wrong Marks : 0.25

The word profound means:

Options :

1. ☐ fundamental
2. ☒ extreme
3. ☐ funded
4. ☐ unfounded

Question Id : 16794318649 Question Type : COMPREHENSION Sub Question Shuffling Allowed : Yes Group Comprehension
Questions : No

Question Numbers : (76 to 80)

Question Label : Comprehension

Read the following passage and answer the questions that follow.

Probably the most frustrating workplace irony for many of us is how we relentlessly pursue success but never seem to arrive at being successful. Of course, there are millions of successful people--Nobel Prize winners, college graduates, loving parents. But for a variety of reasons, so many of us do not *feel* successful even when we achieve much of what we are striving for. Particularly at work, we can find ourselves searching for wealth, recognition, and accomplishment, yet year in and year out, no matter how much we achieve, there's still something that seems to elude our grasp. The famed Greek fabulist Aesop shed some light on this dilemma more than twenty-six hundred years ago in a short tale entitled, "A Farmer and His Children":

A farmer, at death's door, wishing to impart to his children an important secret, called them to his deathbed and said, "My children, I am about to die. I would have you know, therefore, that our vineyard contains a hidden treasure--a treasure I have cherished all my life. Dig and you, too, will find it."

When their father died, the children took spade and pitchfork and turned the soil of the vineyard over and over again in their search for the treasure, which they were told lay hidden in the vineyard.

For weeks and weeks, they toiled, breathlessly searching every inch of the land. Finally, the children ended their search in frustration, for they had found no treasure. But to their surprise, the vines, after so much thorough digging, produced a bountiful, lush crop of grapes such as had never been seen before.

Like the farmer's children, we are all, in one way or another, looking for treasure at work: the promotion, new assignment, salary increase, recognition, big bonus. At times, it's as if we sense that work holds the winning number to life's lottery, and each day we toil in hopes of hitting the jackpot.

Yet like the farmer's children, most of us come up empty-handed. At times, work's disappointments can feel like a cruel joke. No matter how hard we work, no matter how much success we achieve, no matter how secure or celebrated we feel, it never seems enough. But Aesop's tale reveals a profound spiritual irony to our frustration: in mistakenly searching for a treasure that does not exist, we overlook the good fortune being cultivated right within our grasp.

Sub questions

Question Number : 76 Question Id : 16794318650 Question Type : MCQ Option Shuffling : Yes Display Question Number : Yes
Single Line Question Option : No Option Orientation : Vertical

Correct Marks : 1 Wrong Marks : 0.25

'Dilemma' means:

Options :

1. ✖ Happy situation
2. ✔ Tricky situation
3. ✖ Pleasant situation
4. ✖ Troubled situation

Question Number : 77 Question Id : 16794318651 Question Type : MCQ Option Shuffling : Yes Display Question Number : Yes
Single Line Question Option : No Option Orientation : Vertical

Correct Marks : 1 Wrong Marks : 0.25

The children produced a bountiful, lush crop of grapes such as had never been seen before as:

Options :

1. ✖ They sought the advice of expert farmers.
2. ✖ They used lot of fertilizers.
3. ✖ The father gave them some useful tips.

4. ✔ They turned the soil of the vineyard over and over again which produced the crop.

Question Number : 78 Question Id : 16794318652 Question Type : MCQ Option Shuffling : Yes Display Question Number : Yes
Single Line Question Option : No Option Orientation : Vertical

Correct Marks : 1 Wrong Marks : 0.25

When the writer says 'each day we toil in hopes of hitting the jackpot' he means _____

Options :

1. ✖ the work hard as we all like to win a tournament.
2. ✖ everyone wants to accumulate lot of money in a bank.
3. ✖ everyone aspires to store silver.
4. ✔ we work hard hoping to win a large amount of money, especially in a lottery.

Question Number : 79 Question Id : 16794318653 Question Type : MCQ Option Shuffling : Yes Display Question Number : Yes
Single Line Question Option : No Option Orientation : Vertical

Correct Marks : 1 Wrong Marks : 0.25

What never seems enough according to the author?

Options :

1. ☒ Hard work, success, security and fame.
2. ☐ Jobs, success, fame and managerial position.
3. ☐ Hard work, victory, happiness and bliss
4. ☐ Success, security, insecurity and position.

Question Number : 80 Question Id : 16794318654 Question Type : MCQ Option Shuffling : Yes Display Question Number : Yes
Single Line Question Option : No Option Orientation : Vertical

Correct Marks : 1 Wrong Marks : 0.25

The word profound means:

Options :

1. ☐ fundamental
2. ☒ extreme
3. ☐ funded
4. ☐ unfounded

General Hindi

Group Number :	5
Group Id :	167943698
Group Maximum Duration :	0
Group Minimum Duration :	0
Revisit allowed for view? :	No
Revisit allowed for edit? :	No
Break time:	0
Group Marks:	20
Revisit allowed for group Instructions? :	Yes
Maximum Instruction Time:	0
Minimum Instruction Time:	0

General Hindi

Section Id :	167943763
Section Number :	1
Section type :	Online
Mandatory or Optional:	Mandatory

Number of Questions:	16
Number of Questions to be attempted:	16
Section Marks:	20
Display Number Panel:	Yes
Group All Questions:	No

Sub-Section Number:	1
Sub-Section Id:	1679431185
Question Shuffling Allowed :	Yes

Question Id : 16794318655 Question Type : COMPREHENSION Sub Question Shuffling Allowed : Yes Group Comprehension Questions : No

Question Numbers : (81 to 85)

Question Label : Comprehension

नीचे दिये गए गद्यांश को पढ़कर पूछे गये प्रश्नों के उत्तर दीजिए।

छायावादी कवियों में प्रसाद के निबंध काव्य कला तथा अन्य निबंध में और निराला के निबंध प्रबंध प्रतिमा, चाबुक आदि में संग्रहित हैं। प्रसाद के निबंधों में गंभीर अध्ययन के साथ-साथ विचारों की गहराई दिखलाई पड़ती है। प्रसाद ने इन निबंधों में हिन्दी साहित्य की अनेक प्रवृत्तियों पर मौलिक विचार प्रस्तुत किए हैं। इनका आलोचनात्मक महत्व अधिक है। निराला के निबंधों में सामाजिक, साहित्यिक सरोकार के साथ व्यंग्य और क्षोभ मिलता है। महादेवी वर्मा के साहित्यिक निबंध महादेवी का विवेचनात्मक गद्य में संकलित हैं जिनमें उन्होंने छायावाद, यथार्थवाद आदि पर विचार किया है।

Sub questions

Question Number : 81 Question Id : 16794318656 Question Type : MCQ Option Shuffling : Yes Display Question Number : Yes Single Line Question Option : No Option Orientation : Vertical

Correct Marks : 1 Wrong Marks : 0.25

प्रसाद का निबंध संग्रह कौन सा है?

Options :

1. ☒ काव्यकला तथा अन्य निबंध
2. ☐ प्रबंध प्रतिमा
3. ☐ चाबुक
4. ☐ चिंतामणि

Question Number : 82 Question Id : 16794318657 Question Type : MCQ Option Shuffling : Yes Display Question Number : Yes Single Line Question Option : No Option Orientation : Vertical

Correct Marks : 1 Wrong Marks : 0.25

प्रबंध प्रतिमा किसका निबंध है?

Options :

1. ✖ प्रसाद
2. ✖ पंत
3. ✔ निराला
4. ✖ महादेवी

Question Number : 83 Question Id : 16794318658 Question Type : MCQ Option Shuffling : Yes Display Question Number : Yes
Single Line Question Option : No Option Orientation : Vertical

Correct Marks : 1 Wrong Marks : 0.25

गद्यांश में किस छायावादी कवि के निबंधों का उल्लेख नहीं है?

Options :

1. ✖ प्रसाद
2. ✔ पंत
3. ✖ निराला
4. ✖ महादेवी

Question Number : 84 Question Id : 16794318659 Question Type : MCQ Option Shuffling : Yes Display Question Number : Yes
Single Line Question Option : No Option Orientation : Vertical

Correct Marks : 1 Wrong Marks : 0.25

महादेवी ने अपने निबंधों में किस पर विचार किया है?

Options :

1. ✖ छायावाद, रहस्यवाद
2. ✖ छायावाद, प्रयोगवाद
3. ✖ छायावाद, स्वच्छंदतावाद
4. ✔ छायावाद, यथार्थवाद

Question Number : 85 Question Id : 16794318660 Question Type : MCQ Option Shuffling : Yes Display Question Number : Yes
Single Line Question Option : No Option Orientation : Vertical
Correct Marks : 1 Wrong Marks : 0.25

किसके निबंधों में व्यंग्य और क्षोभ मिलता है?

Options :

1. ✖ प्रसाद
2. ✖ पंत
3. ✔ निराला
4. ✖ महादेवी

Question Id : 16794318655 Question Type : COMPREHENSION Sub Question Shuffling Allowed : Yes Group Comprehension Questions : No

Question Numbers : (81 to 85)

Question Label : Comprehension

नीचे दिये गए गद्यांश को पढ़कर पूछे गये प्रश्नों के उत्तर दीजिए।

छायावादी कवियों में प्रसाद के निबंध काव्य कला तथा अन्य निबंध में और निराला के निबंध प्रबंध प्रतिमा, चाबुक आदि में संग्रहित हैं। प्रसाद के निबंधों में गंभीर अध्ययन के साथ-साथ विचारों की गहराई दिखलाई पड़ती है। प्रसाद ने इन निबंधों में हिन्दी साहित्य की अनेक प्रवृत्तियों पर मौलिक विचार प्रस्तुत किए हैं। इनका आलोचनात्मक महत्व अधिक है। निराला के निबंधों में सामाजिक, साहित्यिक सरोकार के साथ व्यंग्य और क्षोभ मिलता है। महादेवी वर्मा के साहित्यिक निबंध महादेवी का विवेचनात्मक गद्य में संकलित हैं जिनमें उन्होंने छायावाद, यथार्थवाद आदि पर विचार किया है।

Sub questions

Question Number : 81 Question Id : 16794318656 Question Type : MCQ Option Shuffling : Yes Display Question Number : Yes
Single Line Question Option : No Option Orientation : Vertical
Correct Marks : 1 Wrong Marks : 0.25

प्रसाद का निबंध संग्रह कौन सा है?

Options :

1. ✔ काव्यकला तथा अन्य निबंध
2. ✖ प्रबंध प्रतिमा

3. ✖ चाबुक

4. ✖ चिंतामणि

Question Number : 82 Question Id : 16794318657 Question Type : MCQ Option Shuffling : Yes Display Question Number : Yes
Single Line Question Option : No Option Orientation : Vertical

Correct Marks : 1 Wrong Marks : 0.25

प्रबंध प्रतिमा किसका निबंध है?

Options :

1. ✖ प्रसाद

2. ✖ पंत

3. ✔ निराला

4. ✖ महादेवी

Question Number : 83 Question Id : 16794318658 Question Type : MCQ Option Shuffling : Yes Display Question Number : Yes
Single Line Question Option : No Option Orientation : Vertical

Correct Marks : 1 Wrong Marks : 0.25

गद्यांश में किस छायावादी कवि के निबंधों का
उल्लेख नहीं है?

Options :

1. ✖ प्रसाद

2. ✔ पंत

3. ✖ निराला

4. ✖ महादेवी

Question Number : 84 Question Id : 16794318659 Question Type : MCQ Option Shuffling : Yes Display Question Number : Yes
Single Line Question Option : No Option Orientation : Vertical

Correct Marks : 1 Wrong Marks : 0.25

महादेवी ने अपने निबंधों में किस पर विचार किया
है?

Options :

1. ✖ छायावाद, रहस्यवाद

2. ✖ छायावाद, प्रयोगवाद
3. ✖ छायावाद, स्वच्छंदतावाद
4. ✔ छायावाद, यथार्थवाद

Question Number : 85 Question Id : 16794318660 Question Type : MCQ Option Shuffling : Yes Display Question Number : Yes
Single Line Question Option : No Option Orientation : Vertical

Correct Marks : 1 Wrong Marks : 0.25

किसके निबंधों में व्यंग्य और क्षोभ मिलता है?

Options :

1. ✖ प्रसाद
2. ✖ पंत
3. ✔ निराला
4. ✖ महादेवी

Sub-Section Number: 2
Sub-Section Id: 1679431186
Question Shuffling Allowed : Yes

Question Number : 86 Question Id : 16794318661 Question Type : MCQ Option Shuffling : Yes Display Question Number : Yes
Single Line Question Option : No Option Orientation : Vertical

Correct Marks : 1 Wrong Marks : 0.25

निम्नलिखित में तत्सम शब्द कौन सा है?

Options :

1. ✖ धान
2. ✖ धूल
3. ✔ धूम
4. ✖ धीरज

Question Number : 86 Question Id : 16794318661 Question Type : MCQ Option Shuffling : Yes Display Question Number : Yes
Single Line Question Option : No Option Orientation : Vertical

Correct Marks : 1 Wrong Marks : 0.25

निम्नलिखित में तत्सम शब्द कौन सा है?

Options :

1. ✖ धान
2. ✖ धूल
3. ✔ धूम
4. ✖ धीरज

Question Number : 87 Question Id : 16794318662 Question Type : MCQ Option Shuffling : Yes Display Question Number : Yes
Single Line Question Option : No Option Orientation : Vertical

Correct Marks : 1 Wrong Marks : 0.25

निम्नलिखित में कौन सा शब्द तद्भव है?

Options :

1. ✖ यौवन
2. ✔ जोगी
3. ✖ युक्त
4. ✖ ज्येष्ठ

Question Number : 87 Question Id : 16794318662 Question Type : MCQ Option Shuffling : Yes Display Question Number : Yes
Single Line Question Option : No Option Orientation : Vertical

Correct Marks : 1 Wrong Marks : 0.25

निम्नलिखित में कौन सा शब्द तद्भव है?

Options :

1. ✖ यौवन
2. ✔ जोगी
3. ✖ युक्त
4. ✖ ज्येष्ठ

Question Number : 88 Question Id : 16794318663 Question Type : MCQ Option Shuffling : Yes Display Question Number : Yes
Single Line Question Option : No Option Orientation : Vertical

Correct Marks : 1 Wrong Marks : 0.25

निम्नलिखित में कौन सा शब्द देशज है?

Options :

1. ☒ कटोरा
2. ☐ आमदनी
3. ☐ अक्ल
4. ☐ एजेन्सी

Question Number : 88 Question Id : 16794318663 Question Type : MCQ Option Shuffling : Yes Display Question Number : Yes
Single Line Question Option : No Option Orientation : Vertical

Correct Marks : 1 Wrong Marks : 0.25

निम्नलिखित में कौन सा शब्द देशज है?

Options :

1. ☒ कटोरा
2. ☐ आमदनी
3. ☐ अक्ल
4. ☐ एजेन्सी

Question Number : 89 Question Id : 16794318664 Question Type : MCQ Option Shuffling : Yes Display Question Number : Yes
Single Line Question Option : No Option Orientation : Vertical

Correct Marks : 1 Wrong Marks : 0.25

‘अँधेरा’ किस प्रकार की संज्ञा है?

Options :

1. ☐ व्यक्तिवाचक
2. ☐ जातिवाचक
3. ☒ भाववाचक
4. ☐ पदार्थवाचक

Question Number : 89 Question Id : 16794318664 Question Type : MCQ Option Shuffling : Yes Display Question Number : Yes
Single Line Question Option : No Option Orientation : Vertical

Correct Marks : 1 Wrong Marks : 0.25

‘अँधेरा’ किस प्रकार की संज्ञा है?

Options :

1. ✖ व्यक्तिवाचक
2. ✖ जातिवाचक
3. ✔ भाववाचक
4. ✖ पदार्थवाचक

Question Number : 90 Question Id : 16794318665 Question Type : MCQ Option Shuffling : Yes Display Question Number : Yes
Single Line Question Option : No Option Orientation : Vertical

Correct Marks : 1 Wrong Marks : 0.25

‘आगामी’ किस प्रकार का विशेषण है?

Options :

1. ✖ परिमाण बोधक
2. ✔ गुणवाचक
3. ✖ सार्वनामिक
4. ✖ संख्यावाचक

Question Number : 90 Question Id : 16794318665 Question Type : MCQ Option Shuffling : Yes Display Question Number : Yes
Single Line Question Option : No Option Orientation : Vertical

Correct Marks : 1 Wrong Marks : 0.25

‘आगामी’ किस प्रकार का विशेषण है?

Options :

1. ✖ परिमाण बोधक
2. ✔ गुणवाचक
3. ✖ सार्वनामिक
4. ✖ संख्यावाचक

Question Number : 91 Question Id : 16794318666 Question Type : MCQ Option Shuffling : Yes Display Question Number : Yes
Single Line Question Option : No Option Orientation : Vertical

Correct Marks : 1 Wrong Marks : 0.25

‘उद्धार’ का संधि विच्छेद होगा:

Options :

1. ✓ उत् + हार

2. ✗ उत् + धार

3. ✗ उद् + हार

4. ✗ उद् + धार

Question Number : 91 Question Id : 16794318666 Question Type : MCQ Option Shuffling : Yes Display Question Number : Yes
Single Line Question Option : No Option Orientation : Vertical

Correct Marks : 1 Wrong Marks : 0.25

‘उद्धार’ का संधि विच्छेद होगा:

Options :

1. ✓ उत् + हार

2. ✗ उत् + धार

3. ✗ उद् + हार

4. ✗ उद् + धार

Question Number : 92 Question Id : 16794318667 Question Type : MCQ Option Shuffling : Yes Display Question Number : Yes
Single Line Question Option : No Option Orientation : Vertical

Correct Marks : 1 Wrong Marks : 0.25

‘बेरहम’ में कौन सा समास है?

Options :

1. ✗ द्वंद्व

2. ✗ द्विगु

3. ✗ तत्पुरुष

4. ✓ अव्ययीभाव

Question Number : 92 Question Id : 16794318667 Question Type : MCQ Option Shuffling : Yes Display Question Number : Yes
Single Line Question Option : No Option Orientation : Vertical

Correct Marks : 1 Wrong Marks : 0.25

‘बेरहम’ में कौन सा समास है?

Options :

1. ✖ दवंदव
2. ✖ दविगु
3. ✖ तत्पुरुष
4. ✔ अव्ययीभाव

Question Number : 93 Question Id : 16794318668 Question Type : MCQ Option Shuffling : Yes Display Question Number : Yes
Single Line Question Option : No Option Orientation : Vertical

Correct Marks : 1 Wrong Marks : 0.25

निम्नलिखित में से कौन सा शब्द स्त्रीलिंग है?

Options :

1. ✖ हेरफेर
2. ✔ हवा
3. ✖ होश
4. ✖ हास

Question Number : 93 Question Id : 16794318668 Question Type : MCQ Option Shuffling : Yes Display Question Number : Yes
Single Line Question Option : No Option Orientation : Vertical

Correct Marks : 1 Wrong Marks : 0.25

निम्नलिखित में से कौन सा शब्द स्त्रीलिंग है?

Options :

1. ✖ हेरफेर
2. ✔ हवा
3. ✖ होश
4. ✖ हास

Question Number : 94 Question Id : 16794318669 Question Type : MCQ Option Shuffling : Yes Display Question Number : Yes
Single Line Question Option : No Option Orientation : Vertical

Correct Marks : 1 Wrong Marks : 0.25

‘संस्कार’ में उपसर्ग है?

Options :

1. ✖ स
2. ✖ सन्
3. ✔ सम्
4. ✖ कार

Question Number : 94 Question Id : 16794318669 Question Type : MCQ Option Shuffling : Yes Display Question Number : Yes
Single Line Question Option : No Option Orientation : Vertical
Correct Marks : 1 Wrong Marks : 0.25

‘संस्कार’ में उपसर्ग है?

Options :

1. ✖ स
2. ✖ सन्
3. ✔ सम्
4. ✖ कार

Question Number : 95 Question Id : 16794318670 Question Type : MCQ Option Shuffling : Yes Display Question Number : Yes
Single Line Question Option : No Option Orientation : Vertical
Correct Marks : 1 Wrong Marks : 0.25

‘अंकुरित’ में प्रत्यय है:

Options :

1. ✖ अं
2. ✖ त
3. ✖ रित
4. ✔ इत

Question Number : 95 Question Id : 16794318670 Question Type : MCQ Option Shuffling : Yes Display Question Number : Yes
Single Line Question Option : No Option Orientation : Vertical
Correct Marks : 1 Wrong Marks : 0.25

‘अंकुरित’ में प्रत्यय है:

Options :

1. ✖ अं

- 2. ✖ त
- 3. ✖ रित
- 4. ✔ इत

Question Number : 96 Question Id : 16794318671 Question Type : MCQ Option Shuffling : Yes Display Question Number : Yes
Single Line Question Option : No Option Orientation : Vertical

Correct Marks : 1 Wrong Marks : 0.25

‘किरण’ का पर्यायवाची नहीं है:

Options :

- 1. ✔ क्षणप्रभा
- 2. ✖ प्रभा
- 3. ✖ मयूख
- 4. ✖ अंशु

Question Number : 96 Question Id : 16794318671 Question Type : MCQ Option Shuffling : Yes Display Question Number : Yes
Single Line Question Option : No Option Orientation : Vertical

Correct Marks : 1 Wrong Marks : 0.25

‘किरण’ का पर्यायवाची नहीं है:

Options :

- 1. ✔ क्षणप्रभा
- 2. ✖ प्रभा
- 3. ✖ मयूख
- 4. ✖ अंशु

Question Number : 97 Question Id : 16794318672 Question Type : MCQ Option Shuffling : Yes Display Question Number : Yes
Single Line Question Option : No Option Orientation : Vertical

Correct Marks : 1 Wrong Marks : 0.25

‘आभ्यन्तर’ का विलोम होगा:

Options :

- 1. ✖ अंतर

2. ✓ वाह्य
3. ✗ निरंतर
4. ✗ भीतर

Question Number : 97 Question Id : 16794318672 Question Type : MCQ Option Shuffling : Yes Display Question Number : Yes
Single Line Question Option : No Option Orientation : Vertical
Correct Marks : 1 Wrong Marks : 0.25

‘आभ्यंतर’ का विलोम होगा:

Options :

1. ✗ अंतर
2. ✓ वाह्य
3. ✗ निरंतर
4. ✗ भीतर

Question Number : 98 Question Id : 16794318673 Question Type : MCQ Option Shuffling : Yes Display Question Number : Yes
Single Line Question Option : No Option Orientation : Vertical
Correct Marks : 1 Wrong Marks : 0.25

‘जो गिना न जा सके’ के लिए एक शब्द होगा:

Options :

1. ✗ संख्य
2. ✗ गणित
3. ✓ अगणित
4. ✗ असंभव

Question Number : 98 Question Id : 16794318673 Question Type : MCQ Option Shuffling : Yes Display Question Number : Yes
Single Line Question Option : No Option Orientation : Vertical
Correct Marks : 1 Wrong Marks : 0.25

‘जो गिना न जा सके’ के लिए एक शब्द होगा:

Options :

1. ✗ संख्य

2. ✖ गणित
3. ✔ अगणित
4. ✖ असंभव

Question Number : 99 Question Id : 16794318674 Question Type : MCQ Option Shuffling : Yes Display Question Number : Yes
Single Line Question Option : No Option Orientation : Vertical

Correct Marks : 1 Wrong Marks : 0.25

निम्नलिखित में शुद्ध वाक्य कौन सा है?

Options :

1. ✖ यह असली गाय का घी है।
2. ✖ मुझे एक चाय का प्याला दो।
3. ✖ सिवाय आपको छोड़कर सभी आए थे।
4. ✔ यहाँ शत्रु से खतरा है।

Question Number : 99 Question Id : 16794318674 Question Type : MCQ Option Shuffling : Yes Display Question Number : Yes
Single Line Question Option : No Option Orientation : Vertical

Correct Marks : 1 Wrong Marks : 0.25

निम्नलिखित में शुद्ध वाक्य कौन सा है?

Options :

1. ✖ यह असली गाय का घी है।
2. ✖ मुझे एक चाय का प्याला दो।
3. ✖ सिवाय आपको छोड़कर सभी आए थे।
4. ✔ यहाँ शत्रु से खतरा है।

Question Number : 100 Question Id : 16794318675 Question Type : MCQ Option Shuffling : Yes Display Question Number : Yes
Single Line Question Option : No Option Orientation : Vertical

Correct Marks : 1 Wrong Marks : 0.25

निम्नलिखित में वर्तनी की दृष्टि से शुद्ध शब्द कौन सा है?

Options :

1. ✓ अन्त्याक्षरी

2. ✗ अन्त्यक्षरी

3. ✗ अन्त्याछरी

4. ✗ अन्त्यछरी

Question Number : 100 Question Id : 16794318675 Question Type : MCQ Option Shuffling : Yes Display Question Number : Yes
Single Line Question Option : No Option Orientation : Vertical

Correct Marks : 1 Wrong Marks : 0.25

निम्नलिखित में वर्तनी की दृष्टि से शुद्ध शब्द कौन सा है?

Options :

1. ✓ अन्त्याक्षरी

2. ✗ अन्त्यक्षरी

3. ✗ अन्त्याछरी

4. ✗ अन्त्यछरी

Subject Related

Group Number :	6
Group Id :	167943699
Group Maximum Duration :	0
Group Minimum Duration :	0
Revisit allowed for view? :	No
Revisit allowed for edit? :	No
Break time:	0
Group Marks:	20
Revisit allowed for group Instructions? :	Yes
Maximum Instruction Time:	0
Minimum Instruction Time:	0

Subject Related

Section Id :	167943764
Section Number :	1
Section type :	Online
Mandatory or Optional:	Mandatory
Number of Questions:	20
Number of Questions to be attempted:	20

Section Marks:	20
Display Number Panel:	Yes
Group All Questions:	No

Sub-Section Number:	1
Sub-Section Id:	1679431187
Question Shuffling Allowed :	Yes

Question Number : 101 Question Id : 16794318676 Question Type : MCQ Option Shuffling : Yes Display Question Number : Yes
Single Line Question Option : No Option Orientation : Vertical
Correct Marks : 1 Wrong Marks : 0.25

What does growth indicate in biological system?

Options :

1. ☒ Increase in size and mass of a particular organism
2. ☐ Progression towards maturity
3. ☐ Transformation of structure, function and ability
4. ☐ Adding to one's intelligence

Question Number : 101 Question Id : 16794318676 Question Type : MCQ Option Shuffling : Yes Display Question Number : Yes
Single Line Question Option : No Option Orientation : Vertical
Correct Marks : 1 Wrong Marks : 0.25

जैविक प्रणाली में विकास क्या इंगित करता है?

Options :

1. ☒ एक विशेष जीव के आकार और द्रव्यमान में वृद्धि
2. ☐ परिपक्वता की दिशा में प्रगति
3. ☐ संरचना, कार्य और क्षमता का परिवर्तन
4. ☐ किसी की बुद्धि को जोड़ना

Question Number : 102 Question Id : 16794318677 Question Type : MCQ Option Shuffling : Yes Display Question Number : Yes
Single Line Question Option : No Option Orientation : Vertical
Correct Marks : 1 Wrong Marks : 0.25

What does the Formal operational stage indicate in Piaget's four cognitive stages of childhood development?

Options :

1. ☐ Children learn about the world through their senses

2. ✖ Children develop memory and imagination
3. ✖ Children become more aware of external events
4. ✔ Children use logic to solve problems and plan for the future

Question Number : 102 Question Id : 16794318677 Question Type : MCQ Option Shuffling : Yes Display Question Number : Yes
Single Line Question Option : No Option Orientation : Vertical

Correct Marks : 1 Wrong Marks : 0.25

बाल विकास के प्याज़े के चार संज्ञानात्मक चरणों में औपचारिक परिचालन चरण क्या इंगित करता है?

Options :

1. ✖ बच्चे अपनी इंद्रियों के माध्यम से दुनिया के बारे में सीखते हैं
2. ✖ बच्चे स्मृति और कल्पना विकसित करते हैं
3. ✖ बच्चे बाहरी घटनाओं के बारे में अधिक जागरूक हो जाते हैं
4. ✔

बच्चे समस्याओं का समाधान करने और भविष्य के लिए योजना बनाने के लिए तर्क का उपयोग करते हैं

Question Number : 103 Question Id : 16794318678 Question Type : MCQ Option Shuffling : Yes Display Question Number : Yes
Single Line Question Option : No Option Orientation : Vertical

Correct Marks : 1 Wrong Marks : 0.25

In which age do the children display growing interest in functional aspects of written language as trying to write their own names?

Options :

1. ✖ 2 years
2. ✔ 5 years
3. ✖ 11 years
4. ✖ 8 years

Question Number : 103 Question Id : 16794318678 Question Type : MCQ Option Shuffling : Yes Display Question Number : Yes
Single Line Question Option : No Option Orientation : Vertical

Correct Marks : 1 Wrong Marks : 0.25

किस उम्र में बच्चे लिखित भाषा के कार्यात्मक पहलुओं में बढ़ते रुचि को खुदका नाम लिखने की कोशिश करते हैं?

Options :

1. ✖ 2 वर्ष

2. ✓ 5 वर्ष

3. ✗ 11 वर्ष

4. ✗ 8 वर्ष

Question Number : 104 Question Id : 16794318679 Question Type : MCQ Option Shuffling : Yes Display Question Number : Yes
Single Line Question Option : No Option Orientation : Vertical

Correct Marks : 1 Wrong Marks : 0.25

What is the need for the teachers to know the physiological needs of a child?

Options :

1. ✗ To give them intellectual input

2. ✗ To give appropriate learning materials

3. ✓ To create a warm and inviting classroom environment

4. ✗ To discipline them in correct manner

Question Number : 104 Question Id : 16794318679 Question Type : MCQ Option Shuffling : Yes Display Question Number : Yes
Single Line Question Option : No Option Orientation : Vertical

Correct Marks : 1 Wrong Marks : 0.25

शिक्षकों को बच्चे की शारीरिक ज़रूरतों को जानने की क्या आवश्यकता है?

Options :

1. ✗ उन्हें बौद्धिक इनपुट देने के लिए

2. ✗ उपयुक्त शिक्षण सामग्री देने के लिए

3. ✓ एक अच्छा और आमंत्रित कक्षा वातावरण बनाने के लिए

4. ✗ उन्हें सही तरीके से अनुशासन देने के लिए

Question Number : 105 Question Id : 16794318680 Question Type : MCQ Option Shuffling : Yes Display Question Number : Yes
Single Line Question Option : No Option Orientation : Vertical

Correct Marks : 1 Wrong Marks : 0.25

Where does formal socialization happen?

Options :

1. ✗ From neighbourhood

- 2. ✖ From society
- 3. ✖ From friends
- 4. ✔ From schools and colleges

Question Number : 105 Question Id : 16794318680 Question Type : MCQ Option Shuffling : Yes Display Question Number : Yes
Single Line Question Option : No Option Orientation : Vertical
Correct Marks : 1 Wrong Marks : 0.25

औपचारिक समाजीकरण कहाँ होता है?

Options :

- 1. ✖ पड़ोस से
- 2. ✖ समाज से
- 3. ✖ दोस्तों से
- 4. ✔ स्कूलों और कॉलेजों से

Question Number : 106 Question Id : 16794318681 Question Type : MCQ Option Shuffling : Yes Display Question Number : Yes
Single Line Question Option : No Option Orientation : Vertical
Correct Marks : 1 Wrong Marks : 0.25

What is Piaget's view of schema?

Options :

- 1. ✔ includes both a category of knowledge and the process of obtaining that knowledge
- 2. ✖ Attaining confidence while communicating
- 3. ✖ Development and usage of language in children
- 4. ✖ Social awareness

Question Number : 106 Question Id : 16794318681 Question Type : MCQ Option Shuffling : Yes Display Question Number : Yes
Single Line Question Option : No Option Orientation : Vertical
Correct Marks : 1 Wrong Marks : 0.25

रूपरेखा के प्याज़े का विचार क्या है?

Options :

- 1. ✔ ज्ञान की एक श्रेणी और उस ज्ञान को प्राप्त करने की प्रक्रिया दोनों शामिल हैं

2. ✖ संचार करते समय आत्मविश्वास प्राप्त करना
3. ✖ बच्चों में भाषा का विकास और उपयोग
4. ✖ सामाजिक जागरूकता

Question Number : 107 Question Id : 16794318682 Question Type : MCQ Option Shuffling : Yes Display Question Number : Yes
Single Line Question Option : No Option Orientation : Vertical

Correct Marks : 1 Wrong Marks : 0.25

What is the key hallmark of the ability to thinking about abstract ideas and situations?

Options :

1. ✖ The concrete operational stage of cognitive development
2. ✔ The formal operational stage of cognitive development
3. ✖ The preoperational stage of cognitive development
4. ✖ The sensorimotor stage of cognitive development

Question Number : 107 Question Id : 16794318682 Question Type : MCQ Option Shuffling : Yes Display Question Number : Yes
Single Line Question Option : No Option Orientation : Vertical

Correct Marks : 1 Wrong Marks : 0.25

अमूर्त विचारों और परिस्थितियों के बारे में सोचने की क्षमता का मुख्य प्रमाण चिन्ह अंकित करना क्या होता है?

Options :

1. ✖ संज्ञानात्मक विकास का ठोस परिचालन चरण
2. ✔ संज्ञानात्मक विकास का औपचारिक परिचालन चरण
3. ✖ संज्ञानात्मक विकास का पूर्ववर्ती चरण
4. ✖ संज्ञानात्मक विकास का ज्ञानेन्द्रिय चरण

Question Number : 108 Question Id : 16794318683 Question Type : MCQ Option Shuffling : Yes Display Question Number : Yes
Single Line Question Option : No Option Orientation : Vertical

Correct Marks : 1 Wrong Marks : 0.25

What is the concept of development in early childhood?

Options :

1. ✔ Concept of self

2. ✖ Concept of weight
3. ✖ Concept of time
4. ✖ Concept of space

Question Number : 108 Question Id : 16794318683 Question Type : MCQ Option Shuffling : Yes Display Question Number : Yes
Single Line Question Option : No Option Orientation : Vertical
Correct Marks : 1 Wrong Marks : 0.25

बचपन में विकास की अवधारणा क्या है?

Options :

1. ✔ स्वयं की अवधारणा
2. ✖ भार की अवधारणा
3. ✖ समय की अवधारणा
4. ✖ स्थान की अवधारणा

Question Number : 109 Question Id : 16794318684 Question Type : MCQ Option Shuffling : Yes Display Question Number : Yes
Single Line Question Option : No Option Orientation : Vertical
Correct Marks : 1 Wrong Marks : 0.25

Who gave this definition of Learning 'Learning is relatively permanent change in behavioural potentiality that occurs as a result of reinforced practice'?

Options :

1. ✔ Kimble-1961
2. ✖ Gardener Murphy-1968
3. ✖ Hilgard-1958
4. ✖ Henry. P. Smith-1962

Question Number : 109 Question Id : 16794318684 Question Type : MCQ Option Shuffling : Yes Display Question Number : Yes
Single Line Question Option : No Option Orientation : Vertical
Correct Marks : 1 Wrong Marks : 0.25

शिक्षण की यह परिभाषा किसने दी 'सीखना व्यवहारिक क्षमता में अपेक्षाकृत स्थायी परिवर्तन है' जो परिणाम या प्रबलित अभ्यास के रूप में होता है?

Options :

1. ✔ किम्ब्ले-1961

2. ✖ गार्डनर मर्फी-1968

3. ✖ हिलगार्ड-1958

4. ✖ हेनरी. पी. स्मिथ -1962

Question Number : 110 Question Id : 16794318685 Question Type : MCQ Option Shuffling : Yes Display Question Number : Yes
Single Line Question Option : No Option Orientation : Vertical

Correct Marks : 1 Wrong Marks : 0.25

What is the meaning of learning is adjustment?

Options :

1. ✖

Learning is through the modification and remodification by the objects and individuals in the environment

2. ✖

Learning is that where individual mind is consciously or unconsciously affected by the group activities

3. ✖ Learning is both physical and mental development

4. ✔ Learning leads the individual to achieve the ability to adapt adequately to all situations in life

Question Number : 110 Question Id : 16794318685 Question Type : MCQ Option Shuffling : Yes Display Question Number : Yes
Single Line Question Option : No Option Orientation : Vertical

Correct Marks : 1 Wrong Marks : 0.25

शिक्षण का अर्थ क्या है?

Options :

1. ✖

शिक्षण पर्यावरण में वस्तुओं और व्यक्तियों द्वारा संशोधन और पुनर्निर्माण के माध्यम से होता है

2. ✖

शिक्षण यह है कि जहां व्यक्तिगत मन समूह गतिविधियों से जान-बूझकर या बिना जान-बूझकर प्रभावित होता है

3. ✖ सीखना शारीरिक और मानसिक दोनों विकास होते हैं

4. ✔

सीखने से व्यक्ति जीवन में सभी परिस्थितियों में पर्याप्त रूप से अनुकूलित करने की क्षमता प्राप्त करने की ओर जाता है

Question Number : 111 Question Id : 16794318686 Question Type : MCQ Option Shuffling : Yes Display Question Number : Yes
Single Line Question Option : No Option Orientation : Vertical

Correct Marks : 1 Wrong Marks : 0.25

In which year was Bloms Taxonomy created?

Options :

1. ✖ 1984
2. ✖ 2000
3. ✔ 1956
4. ✖ 1958

Question Number : 111 Question Id : 16794318686 Question Type : MCQ Option Shuffling : Yes Display Question Number : Yes
Single Line Question Option : No Option Orientation : Vertical

Correct Marks : 1 Wrong Marks : 0.25

किस वर्ष ब्लॉम्स वर्गीकरण (तेक्सोनोमी) बनाया गया था?

Options :

1. ✖ 1984
2. ✖ 2000
3. ✔ 1956
4. ✖ 1958

Question Number : 112 Question Id : 16794318687 Question Type : MCQ Option Shuffling : Yes Display Question Number : Yes
Single Line Question Option : No Option Orientation : Vertical

Correct Marks : 1 Wrong Marks : 0.25

Who revisited the cognitive domain in mid-nineties and made some changes?

Options :

1. ✖ Benjamin Bloom
2. ✖ Chomsky
3. ✖ Jean Piaget
4. ✔ David Krathwohl

Question Number : 112 Question Id : 16794318687 Question Type : MCQ Option Shuffling : Yes Display Question Number : Yes
Single Line Question Option : No Option Orientation : Vertical

Correct Marks : 1 Wrong Marks : 0.25

नब्बे के दशक के मध्य में संज्ञानात्मक डोमेन का किसने पुनरीक्षण किया और कुछ बदलाव किए?

Options :

1. ✖ बेंजामिन ब्लूम
2. ✖ चोमस्की
3. ✖ जीन प्याज़े
4. ✔ डेविड क्रैथवोहल

Question Number : 113 Question Id : 16794318688 Question Type : MCQ Option Shuffling : Yes Display Question Number : Yes
Single Line Question Option : No Option Orientation : Vertical

Correct Marks : 1 Wrong Marks : 0.25

Comprehending the meaning, translation and interpolation are the specifications of which category?

Options :

1. ✖ Applying
2. ✖ Remembering
3. ✔ Understanding
4. ✖ Analyzing

Question Number : 113 Question Id : 16794318688 Question Type : MCQ Option Shuffling : Yes Display Question Number : Yes
Single Line Question Option : No Option Orientation : Vertical

Correct Marks : 1 Wrong Marks : 0.25

अर्थ, अनुवाद और अंतःक्षेप को समझना किस श्रेणी के विनिर्देश हैं?

Options :

1. ✖ लागू करना
2. ✖ याद रखना
3. ✔ समझना
4. ✖ विश्लेषण करना

Question Number : 114 Question Id : 16794318689 Question Type : MCQ Option Shuffling : Yes Display Question Number : Yes
Single Line Question Option : No Option Orientation : Vertical

Correct Marks : 1 Wrong Marks : 0.25

Which category do these key words analyzes, breaks down, compares, contrasts, diagrams, deconstructs, differentiates belong to?

Options :

1. ✖ Evaluating
2. ✔ Analyzing
3. ✖ Creating
4. ✖ Remembering

Question Number : 114 Question Id : 16794318689 Question Type : MCQ Option Shuffling : Yes Display Question Number : Yes
Single Line Question Option : No Option Orientation : Vertical

Correct Marks : 1 Wrong Marks : 0.25

इन महत्वपूर्ण शब्दों का विश्लेषण कौन सा श्रेणी करता है, टूटता है, तुलना करता है, विरोधाभास करता है, आरेख, विखण्डित करना अंतर अलग हैं?

Options :

1. ✖ मूल्यांकन करना
2. ✔ विश्लेषण करना
3. ✖ बनाना
4. ✖ याद रखना

Question Number : 115 Question Id : 16794318690 Question Type : MCQ Option Shuffling : Yes Display Question Number : Yes
Single Line Question Option : No Option Orientation : Vertical

Correct Marks : 1 Wrong Marks : 0.25

What is the meaning of the feature- socialization helps to control human behavior?

Options :

1. ✖ Its members transmits culture to the next generation and society continues to exists
2. ✖ Children learn their language, customs, norms and values in the family
3. ✖ Society intends to control the behavior of its members unconsciously
4. ✔ Show discipline behavior to gain social approval

Question Number : 115 Question Id : 16794318690 Question Type : MCQ Option Shuffling : Yes Display Question Number : Yes
Single Line Question Option : No Option Orientation : Vertical

Correct Marks : 1 Wrong Marks : 0.25

सुविधा का अर्थ क्या है- सामाजिकरण मानव व्यवहार को नियंत्रित करने में मदद करता है?

Options :

1. ✖ इसके सदस्य अगली पीढ़ी के लिए संस्कृति को प्रसारित करते हैं और समाज मौजूद है
2. ✖ बच्चे परिवार में अपनी भाषा, रीति-रिवाजों, मानदंडों और मूल्यों को सीखते हैं
3. ✖ समाज अपने सदस्यों के व्यवहार को बेहोशी से नियंत्रित करना चाहता है
4. ✔ सामाजिक अनुमोदन प्राप्त करने के लिए अनुशासन व्यवहार दिखाएं

Question Number : 116 Question Id : 16794318691 Question Type : MCQ Option Shuffling : Yes Display Question Number : Yes
Single Line Question Option : No Option Orientation : Vertical

Correct Marks : 1 Wrong Marks : 0.25

What is culture defined as?

Options :

1. ✔ As the belief, values, behavior and material objects shared by a particular group
2. ✖ Shape and define our thoughts, feelings and actions
3. ✖ How to fit into and to function as productive member
4. ✖ Economic knowledge, decision taking and financial matter

Question Number : 116 Question Id : 16794318691 Question Type : MCQ Option Shuffling : Yes Display Question Number : Yes
Single Line Question Option : No Option Orientation : Vertical

Correct Marks : 1 Wrong Marks : 0.25

संस्कृति को परिभाषित किया गया है?

Options :

1. ✔ एक विशेष समूह द्वारा साझा विश्वास, मूल्य, व्यवहार और भौतिक वस्तुओं के रूप में
2. ✖ आकार और भावनाओं, भावनाओं और कार्यों को परिभाषित करें
3. ✖ कैसे उत्पादक सदस्य के रूप में फिट और काम करने के लिए
4. ✖ आर्थिक ज्ञान, निर्णय लेने और वित्तीय मामले

Question Number : 117 Question Id : 16794318692 Question Type : MCQ Option Shuffling : Yes Display Question Number : Yes
Single Line Question Option : No Option Orientation : Vertical

Correct Marks : 1 Wrong Marks : 0.25

What does culture provide?

Options :

1. ✖ Growth and physical development
2. ✖ Emotional balance and equilibrium
3. ✖ Creativity and development
4. ✔

The framework within which our lives become meaningful based on standards of success, beauty and goodness

Question Number : 117 Question Id : 16794318692 Question Type : MCQ Option Shuffling : Yes Display Question Number : Yes
Single Line Question Option : No Option Orientation : Vertical

Correct Marks : 1 Wrong Marks : 0.25

संस्कृति क्या प्रदान करती है?

Options :

1. ✖ विकास और शारीरिक विकास
2. ✖ भावनात्मक संतुलन और संतुलन
3. ✖ रचनात्मकता और विकास
4. ✔ सफलता, सुंदरता और भलाई के मानकों के आधार पर हमारा जीवन अर्थपूर्ण बन गया है

Question Number : 118 Question Id : 16794318693 Question Type : MCQ Option Shuffling : Yes Display Question Number : Yes
Single Line Question Option : No Option Orientation : Vertical

Correct Marks : 1 Wrong Marks : 0.25

What do you understand by Adult Socialisation?

Options :

1. ✖
Refers to the process of discarding former behavior patterns and accepting new ones as a part of transition in one's life
2. ✔
Refers to the roles people get into later on in life for which primary and secondary socialization may not have prepared them fully
3. ✖ Refers to socialization of the infant in the primary or earliest years of his life
4. ✖
Refers to the process by which men learn the culture of a group with the anticipation of joining the group

Question Number : 118 Question Id : 16794318693 Question Type : MCQ Option Shuffling : Yes Display Question Number : Yes
Single Line Question Option : No Option Orientation : Vertical

Correct Marks : 1 Wrong Marks : 0.25

वयस्क समाजीकरण से आप क्या समझते हैं?

Options :

1. ✖

पूर्व व्यवहार पैटर्न को हटाने और किसी के जीवन में संक्रमण के हिस्से के रूप में नए लोगों को स्वीकार करने की प्रक्रिया को दर्शाता है

2. ✔

उन भूमिकाओं को दर्शाता है जो लोग बाद में जीवन में आते हैं जिसके लिए प्राथमिक और माध्यमिक समाजीकरण ने उन्हें पूरी तरह से तैयार नहीं किया हो सकता है

3. ✖

अपने जीवन के प्राथमिक या प्रारंभिक वर्षों में शिशु के समाजीकरण को दर्शाता है

4. ✖

उस प्रक्रिया को संदर्भित करता है जिसके द्वारा पुरुष समूह में शामिल होने की प्रत्याशा के साथ समूह की संस्कृति सीखते हैं

Question Number : 119 Question Id : 16794318694 Question Type : MCQ Option Shuffling : Yes Display Question Number : Yes
Single Line Question Option : No Option Orientation : Vertical

Correct Marks : 1 Wrong Marks : 0.25

What does Consultative Group on Early Childhood Care and Development, with support from UNICEF, deal with?

Options :

1. ✖ Family upbringing

2. ✖ Peer group relationship

3. ✔ Childbearing practices and beliefs

4. ✖ Culture practices around the globe

Question Number : 119 Question Id : 16794318694 Question Type : MCQ Option Shuffling : Yes Display Question Number : Yes
Single Line Question Option : No Option Orientation : Vertical

Correct Marks : 1 Wrong Marks : 0.25

यूनिसेफ (UNICEF) से समर्थन के साथ प्रारंभिक बचपन देखभाल और विकास पर सलाहकार समूह क्या करता है?

Options :

1. ✖ पारिवारिक उपवास

2. ✖ पीयर समूह संबंध

3. ✔ बाल पालन प्रथाओं और मान्यताओं

4. ✖ दुनिया भर में संस्कृति प्रथाओं

Question Number : 120 Question Id : 16794318695 Question Type : MCQ Option Shuffling : Yes Display Question Number : Yes
Single Line Question Option : No Option Orientation : Vertical

Correct Marks : 1 Wrong Marks : 0.25

What do you mean by 'Promote the child's psycho-social well-being'?

Options :

1. ✔ Providing emotional security, socialisation, nurturing and giving affection
2. ✖ Keeping the child safe and free from harm, providing shelter, preventing and attending illness
3. ✖ Interaction, stimulation and play
4. ✖ Childs interaction within the community, at health clinics, at school

Question Number : 120 Question Id : 16794318695 Question Type : MCQ Option Shuffling : Yes Display Question Number : Yes
Single Line Question Option : No Option Orientation : Vertical

Correct Marks : 1 Wrong Marks : 0.25

'बच्चे के मनो-सामाजिक कल्याण को बढ़ावा देना' का क्या मतलब है?

Options :

1. ✔ भावनात्मक सुरक्षा, समाजीकरण, पोषण और स्नेह प्रदान करना
2. ✖ बच्चे को सुरक्षित और नुकसान से मुक्त रखना, आश्रय प्रदान करना, बीमारी को रोकना और भाग लेना
3. ✖ बातचीत, उत्तेजना और खेल
4. ✖ स्कूल में स्वास्थ्य क्लीनिक पर, समुदाय के भीतर बाल बातचीत

Subject Related

Group Number :	7
Group Id :	167943700
Group Maximum Duration :	0
Group Minimum Duration :	0
Revisit allowed for view? :	No
Revisit allowed for edit? :	No
Break time:	0
Group Marks:	20
Revisit allowed for group Instructions? :	Yes
Maximum Instruction Time:	0

Subject Related

Section Id :	167943765
Section Number :	1
Section type :	Online
Mandatory or Optional:	Mandatory
Number of Questions:	20
Number of Questions to be attempted:	20
Section Marks:	20
Display Number Panel:	Yes
Group All Questions:	No

Sub-Section Number:	1
Sub-Section Id:	1679431188
Question Shuffling Allowed :	Yes

Question Number : 121 Question Id : 16794318696 Question Type : MCQ Option Shuffling : Yes Display Question Number : Yes
Single Line Question Option : No Option Orientation : Vertical

Correct Marks : 1 Wrong Marks : 0.25

Explain 'Socialisation is rapid if there is more humanity among the agencies of socialisation'.

Options :

1. ✖ Socialisation is a life-long process and does not cease when the child becomes adult
2. ✖ Socialisation inculcates basic discipline to control his impulses
3. ✖ Socialisation takes place through direct instructions and education in school
4. ✔ Socialisation takes place rapidly if the agencies of socialisation are more unanimous in their ideas and skills

Question Number : 121 Question Id : 16794318696 Question Type : MCQ Option Shuffling : Yes Display Question Number : Yes
Single Line Question Option : No Option Orientation : Vertical

Correct Marks : 1 Wrong Marks : 0.25

समझाओ 'समाजीकरण की अभिकरण के बीच अधिक मानवता है तो समाजीकरण तेजी से है'।

Options :

1. ✖ समाजीकरण एक जीवनभर की प्रक्रिया है और जब बच्चा वयस्क हो जाता है तब वह नहीं रुकता है
2. ✖ समाजीकरण अपने आवेगों को नियंत्रित करने के लिए बुनियादी अनुशासन को जन्म देता है
3. ✖ समाज में सीधे निर्देश और शिक्षा के माध्यम से समाजीकरण होता है

4. ✓

यदि समाजीकरण की एजेंसियां उनके विचारों और कौशल में अधिक सर्वसम्मति से हैं तो समाजीकरण तेजी से होता है

Question Number : 122 Question Id : 16794318697 Question Type : MCQ Option Shuffling : Yes Display Question Number : Yes
Single Line Question Option : No Option Orientation : Vertical

Correct Marks : 1 Wrong Marks : 0.25

What is socialisation in high school level?

Options :

1. ✖

Teacher provide the opportunities to improve socialisation by conducting discussions, activities like mutual understanding with the peer group

2. ✖

Children learn the skills which they help in future actively participate in co-curricular activities

3. ✓

Teacher makes the children learn good habits, civic responsibility and how to mingle with the society

4. ✖

No strict rules to learn, but education is learnt by the way of playing

Question Number : 122 Question Id : 16794318697 Question Type : MCQ Option Shuffling : Yes Display Question Number : Yes
Single Line Question Option : No Option Orientation : Vertical

Correct Marks : 1 Wrong Marks : 0.25

उच्च विद्यालय स्तर में समाजीकरण क्या है?

Options :

1. ✖

शिक्षक सहकर्मी, सहकर्मी समूह के साथ पारस्परिक समझ जैसी गतिविधियां आयोजित करके समाजीकरण में सुधार के अवसर प्रदान करते हैं

2. ✖

बच्चे भविष्य में सक्रिय रूप से सह-पाठ्यचर्या गतिविधियों में भाग लेने में सहायता करने वाले कौशल सीखते हैं

3. ✓

शिक्षक बच्चों को अच्छी आदतें, नागरिक जिम्मेदारी और समाज के साथ मिलकर कैसे सीखता है

4. ✖

सीखने के लिए कोई सख्त नियम नहीं है, लेकिन खेल खेलने के तरीके से शिक्षा सीखी जाती है

Question Number : 123 Question Id : 16794318698 Question Type : MCQ Option Shuffling : Yes Display Question Number : Yes
Single Line Question Option : No Option Orientation : Vertical

Correct Marks : 1 Wrong Marks : 0.25

What is the purpose of Early Childhood Care and Education?

Options :

1. ✓

Holistic development of child

2. ✖ Educational development of child
3. ✖ Health development of a child
4. ✖ Cultural development of a child

Question Number : 123 Question Id : 16794318698 Question Type : MCQ Option Shuffling : Yes Display Question Number : Yes
Single Line Question Option : No Option Orientation : Vertical
Correct Marks : 1 Wrong Marks : 0.25

प्रारंभिक बचपन देखभाल और शिक्षा का उद्देश्य क्या है?

Options :

1. ✔ बच्चे का समग्र विकास
2. ✖ बच्चे का शैक्षिक विकास
3. ✖ एक बच्चे का स्वास्थ्य विकास
4. ✖ एक बच्चे का सांस्कृतिक विकास

Question Number : 124 Question Id : 16794318699 Question Type : MCQ Option Shuffling : Yes Display Question Number : Yes
Single Line Question Option : No Option Orientation : Vertical
Correct Marks : 1 Wrong Marks : 0.25

What is the main aim of National Literacy Mission?

Options :

1. ✖ Eradication of illiteracy for the age group of 10 to 35
2. ✖ Eradication of illiteracy for the age group of 5+ to 35
3. ✔ Eradication of illiteracy for the age group of 15 to 35
4. ✖ Eradication of illiteracy for the age group of 15 to 45

Question Number : 124 Question Id : 16794318699 Question Type : MCQ Option Shuffling : Yes Display Question Number : Yes
Single Line Question Option : No Option Orientation : Vertical
Correct Marks : 1 Wrong Marks : 0.25

राष्ट्रीय साक्षरता मिशन का मुख्य उद्देश्य क्या है?

Options :

1. ✖ 10 से 35 के आयु वर्ग के लिए निरक्षरता का उन्मूलन

2. ✖ 5+ से 35 के आयु वर्ग के लिए निरक्षरता का उन्मूलन
3. ✔ 15 से 35 के आयु वर्ग के लिए निरक्षरता का उन्मूलन
4. ✖ 15 से 45 के आयु वर्ग के लिए निरक्षरता का उन्मूलन

Question Number : 125 Question Id : 16794318700 Question Type : MCQ Option Shuffling : Yes Display Question Number : Yes
Single Line Question Option : No Option Orientation : Vertical

Correct Marks : 1 Wrong Marks : 0.25

DELINKING DEGREES FROM JOBS- This concept has given by this.

Options :

1. ✖ New education policy of 1968
2. ✔ New education policy of 1986
3. ✖ NCF-2005
4. ✖ NCF-2011

Question Number : 125 Question Id : 16794318700 Question Type : MCQ Option Shuffling : Yes Display Question Number : Yes
Single Line Question Option : No Option Orientation : Vertical

Correct Marks : 1 Wrong Marks : 0.25

डिग्री को जॉब्स से हटाना - यह अवधारणा किसके द्वारा दिया गया था?

Options :

1. ✖ 1968 की नई शिक्षा नीति
2. ✔ 1986 की नई शिक्षा नीति
3. ✖ एनसीएफ-2005
4. ✖ एनसीएफ-2011

Question Number : 126 Question Id : 16794318701 Question Type : MCQ Option Shuffling : Yes Display Question Number : Yes
Single Line Question Option : No Option Orientation : Vertical

Correct Marks : 1 Wrong Marks : 0.25

National Committee on Women's Education, 1958 is also called as like this:

Options :

1. ✔ Durgabai Deshmukh Committee

2. ✖ Ishwar Patel bhai Committee
3. ✖ Yashpal Committee
4. ✖ Khothari Education Commission

Question Number : 126 Question Id : 16794318701 Question Type : MCQ Option Shuffling : Yes Display Question Number : Yes
Single Line Question Option : No Option Orientation : Vertical
Correct Marks : 1 Wrong Marks : 0.25

महिला शिक्षा पर राष्ट्रीय समिति, 1958 को भी इस तरह कहा जाता है:

Options :

1. ✔ दुर्गाबाई देशमुख समिति
2. ✖ इश्वर पटेल भाई समिति
3. ✖ यशपाल समिति
4. ✖ कोठारी शिक्षा आयोग

Question Number : 127 Question Id : 16794318702 Question Type : MCQ Option Shuffling : Yes Display Question Number : Yes
Single Line Question Option : No Option Orientation : Vertical
Correct Marks : 1 Wrong Marks : 0.25

What is the span of elementary education?

Options :

1. ✖ 10 years
2. ✖ 5 years
3. ✔ 8 years
4. ✖ 7 years

Question Number : 127 Question Id : 16794318702 Question Type : MCQ Option Shuffling : Yes Display Question Number : Yes
Single Line Question Option : No Option Orientation : Vertical
Correct Marks : 1 Wrong Marks : 0.25

प्राथमिक शिक्षा की अवधि क्या है?

Options :

1. ✖ 10 साल

2. ✖ 5 साल

3. ✔ 8 साल

4. ✖ 7 साल

Question Number : 128 Question Id : 16794318703 Question Type : MCQ Option Shuffling : Yes Display Question Number : Yes
Single Line Question Option : No Option Orientation : Vertical
Correct Marks : 1 Wrong Marks : 0.25

Which is the main goal of TRANSIT SCHOOLS?

Options :

1. ✖ To provide opportunities for girls

2. ✔ To provide opportunities to socioeconomically disadvantaged children

3. ✖ To provide opportunities for school dropouts

4. ✖ To provide opportunities for minorities

Question Number : 128 Question Id : 16794318703 Question Type : MCQ Option Shuffling : Yes Display Question Number : Yes
Single Line Question Option : No Option Orientation : Vertical
Correct Marks : 1 Wrong Marks : 0.25

ट्रांजिट स्कूलों का मुख्य लक्ष्य कौन सा है?

Options :

1. ✖ लड़कियों के लिए अवसर प्रदान करने के लिए

2. ✔ सामाजिक और आर्थिक रूप से वंचित हुए बच्चों के लिए अवसर प्रदान करने के लिए

3. ✖ विद्यालय/स्कूल छोड़ने के अवसर प्रदान करने के लिए

4. ✖ अल्पसंख्यकों के अवसर प्रदान करने के लिए

Question Number : 129 Question Id : 16794318704 Question Type : MCQ Option Shuffling : Yes Display Question Number : Yes
Single Line Question Option : No Option Orientation : Vertical
Correct Marks : 1 Wrong Marks : 0.25

Four C's as per RMCA about gender:

Options :

1. ✖ Cast, Culture, Civics and Coexistence

2. ☒ Concern, Consciousness, Capacity building and Capabilities
3. ☐ Concern, Capabilities Consciousness and Care
4. ☐ Context of globalization, Capacity, Caste and Concern

Question Number : 129 Question Id : 16794318704 Question Type : MCQ Option Shuffling : Yes Display Question Number : Yes
Single Line Question Option : No Option Orientation : Vertical
Correct Marks : 1 Wrong Marks : 0.25

लिंग के बारे में आरएमसीए के अनुसार चार C's क्या हैं?

Options :

1. ☐ कास्ट, कल्चर, सिविक्स और कोएक्सिस्टेंस
2. ☒ कंसर्न, कॉन्शियसनेस्स, कैपेसिटी बिल्डिंग एंड कैपेबिलिटीज़
3. ☐ कंसर्न, कैपेबिलिटीज़ कॉन्शियसनेस्स एंड केयर
4. ☐ कॉन्टेक्स्ट ऑफ़ ग्लोबलाइज़ेशन, कैपेसिटी, कास्ट एंड कंसर्न

Question Number : 130 Question Id : 16794318705 Question Type : MCQ Option Shuffling : Yes Display Question Number : Yes
Single Line Question Option : No Option Orientation : Vertical
Correct Marks : 1 Wrong Marks : 0.25

What is the total number of tribal communities recognized by the government?

Options :

1. ☐ 573
2. ☐ 567
3. ☒ 572
4. ☐ 541

Question Number : 130 Question Id : 16794318705 Question Type : MCQ Option Shuffling : Yes Display Question Number : Yes
Single Line Question Option : No Option Orientation : Vertical
Correct Marks : 1 Wrong Marks : 0.25

सरकार द्वारा मान्यता प्राप्त जनजातीय समुदायों की कुल संख्या कितनी है?

Options :

1. ☐ 573

2. ✖ 567

3. ✔ 572

4. ✖ 541

Question Number : 131 Question Id : 16794318706 Question Type : MCQ Option Shuffling : Yes Display Question Number : Yes
Single Line Question Option : No Option Orientation : Vertical

Correct Marks : 1 Wrong Marks : 0.25

In which conference the principle of inclusive education was adopted at the “World Conference on Special Needs Education: Access and Quality”?

Options :

1. ✖ San Francisco, USA-1994

2. ✔ Salamanca, Spain-1994

3. ✖ South Africa, Africa-1994

4. ✖ Saudi Arabia-1994

Question Number : 131 Question Id : 16794318706 Question Type : MCQ Option Shuffling : Yes Display Question Number : Yes
Single Line Question Option : No Option Orientation : Vertical

Correct Marks : 1 Wrong Marks : 0.25

किस सम्मेलन में समावेशी शिक्षा का सिद्धांत विशेष शिक्षा आवश्यकताओं पर “विश्व सम्मेलन में अपनाया गया था: पहुंच और गुणवत्ता”?

Options :

1. ✖ सैन फ्रांसिस्को, USA-1994

2. ✔ सलामंका, स्पेन-1994

3. ✖ दक्षिण अफ्रीका, अफ्रीका-1994

4. ✖ सऊदी अरब-1994

Question Number : 132 Question Id : 16794318707 Question Type : MCQ Option Shuffling : Yes Display Question Number : Yes
Single Line Question Option : No Option Orientation : Vertical

Correct Marks : 1 Wrong Marks : 0.25

Which was launched December 1974?

Options :

1. ✔ The Integrated Education for Disabled Children (IEDC) scheme

2. ✖ The integrated program for disabled children
3. ✖ The Integrated Education for Dyslexic Children
4. ✖ The inclusive education for disabled children

Question Number : 132 Question Id : 16794318707 Question Type : MCQ Option Shuffling : Yes Display Question Number : Yes
Single Line Question Option : No Option Orientation : Vertical

Correct Marks : 1 Wrong Marks : 0.25

दिसंबर 1974 को कौन सी योजना का प्रारंभ किया गया था?

Options :

1. ✔ विकलांग बच्चों के लिए एकीकृत शिक्षा (IEDC) योजना
2. ✖ विकलांग बच्चों के लिए एकीकृत कार्यक्रम
3. ✖ डिस्लेक्सिक बच्चों के लिए एकीकृत शिक्षा
4. ✖ विकलांग बच्चों के लिए समावेशी शिक्षा

Question Number : 133 Question Id : 16794318708 Question Type : MCQ Option Shuffling : Yes Display Question Number : Yes
Single Line Question Option : No Option Orientation : Vertical

Correct Marks : 1 Wrong Marks : 0.25

Which type of disability is protected and promote rights by the National Trust Act 1999?

Options :

1. ✖ Hearing disability
2. ✔ The disability due to Cerebral Palsy
3. ✖ Disability in doing work
4. ✖ Disability to talk and walk

Question Number : 133 Question Id : 16794318708 Question Type : MCQ Option Shuffling : Yes Display Question Number : Yes
Single Line Question Option : No Option Orientation : Vertical

Correct Marks : 1 Wrong Marks : 0.25

किस प्रकार की विकलांगता सुरक्षित और अधिकारों को नेशनल ट्रस्ट एक्ट 1999 बढ़ावा देती है?

Options :

1. ✖ विकलांगता सुनवाई

2. ✓ सेरेब्रल पाल्सी के कारण विकलांगता
3. ✗ काम करने में विकलांगता
4. ✗ बात करने और चलने की अक्षमता

Question Number : 134 Question Id : 16794318709 Question Type : MCQ Option Shuffling : Yes Display Question Number : Yes
Single Line Question Option : No Option Orientation : Vertical

Correct Marks : 1 Wrong Marks : 0.25

Which one of the following is addressed in the movie 'Tare Zameen Par'?

Options :

1. ✗ Dyspraxia
2. ✓ Dyslexia
3. ✗ Dyscalculia
4. ✗ Dysgraphia

Question Number : 134 Question Id : 16794318709 Question Type : MCQ Option Shuffling : Yes Display Question Number : Yes
Single Line Question Option : No Option Orientation : Vertical

Correct Marks : 1 Wrong Marks : 0.25

निम्नलिखित में से कौन सा फिल्म 'तारे ज़मीन पर' में संबोधित किया गया है?

Options :

1. ✗ डिस्प्राक्सिया
2. ✓ डिस्लेक्सिया
3. ✗ डिस्कैलकुलिया
4. ✗ डिसग्राफिया

Question Number : 135 Question Id : 16794318710 Question Type : MCQ Option Shuffling : Yes Display Question Number : Yes
Single Line Question Option : No Option Orientation : Vertical

Correct Marks : 1 Wrong Marks : 0.25

'Curriculum does not only include the academic subjects traditionally taught in schools but also includes the totality of experiences'. This definition is given by:

Options :

1. ✗ National curriculum Framework 2005

2. ✖ National curriculum Framework 2000

3. ✔ Secondary Education Commission

4. ✖ National Policy of Education

Question Number : 135 Question Id : 16794318710 Question Type : MCQ Option Shuffling : Yes Display Question Number : Yes
Single Line Question Option : No Option Orientation : Vertical

Correct Marks : 1 Wrong Marks : 0.25

'पाठ्यचर्या में न केवल शैक्षणिक विषयों को विद्यालयों में पढ़ाया जाता है बल्कि अनुभवों की कुलता भी शामिल है।' यह परिभाषा इस प्रकार दी गई है:

Options :

1. ✖ राष्ट्रीय पाठ्यचर्या फ्रेमवर्क 2005

2. ✖ राष्ट्रीय पाठ्यचर्या फ्रेमवर्क 2000

3. ✔ माध्यमिक शिक्षा आयोग

4. ✖ शिक्षा की राष्ट्रीय नीति

Question Number : 136 Question Id : 16794318711 Question Type : MCQ Option Shuffling : Yes Display Question Number : Yes
Single Line Question Option : No Option Orientation : Vertical

Correct Marks : 1 Wrong Marks : 0.25

By which determinant of curriculum has included idealism?

Options :

1. ✔ Philosophical determinant

2. ✖ Psychological determinant

3. ✖ Social determinant

4. ✖ Psycho social determinant

Question Number : 136 Question Id : 16794318711 Question Type : MCQ Option Shuffling : Yes Display Question Number : Yes
Single Line Question Option : No Option Orientation : Vertical

Correct Marks : 1 Wrong Marks : 0.25

पाठ्यक्रम के किस निर्धारक ने आदर्शवाद शामिल किया है?

Options :

1. ✔ दार्शनिक निर्धारक

2. ✖ मनोवैज्ञानिक निर्धारक
3. ✖ सामाजिक निर्धारक
4. ✖ मनो-सामाजिक निर्धारक

Question Number : 137 Question Id : 16794318712 Question Type : MCQ Option Shuffling : Yes Display Question Number : Yes
Single Line Question Option : No Option Orientation : Vertical

Correct Marks : 1 Wrong Marks : 0.25

What is main feature of psychological determinant?

Options :

1. ✔ Child centric education
2. ✖ Teacher centric education
3. ✖ Learning psychology of student and teacher
4. ✖ Inclusion of psychology in learning

Question Number : 137 Question Id : 16794318712 Question Type : MCQ Option Shuffling : Yes Display Question Number : Yes
Single Line Question Option : No Option Orientation : Vertical

Correct Marks : 1 Wrong Marks : 0.25

मनोवैज्ञानिक निर्धारक की मुख्य विशेषता क्या है?

Options :

1. ✔ बाल केंद्रित शिक्षा
2. ✖ शिक्षक केंद्रित शिक्षा
3. ✖ छात्र और शिक्षक के मनोविज्ञान सीखना
4. ✖ सीखने में मनोविज्ञान शामिल करना

Question Number : 138 Question Id : 16794318713 Question Type : MCQ Option Shuffling : Yes Display Question Number : Yes
Single Line Question Option : No Option Orientation : Vertical

Correct Marks : 1 Wrong Marks : 0.25

Which of the following statement is appropriate for Principle of activity-centeredness of Curriculum?

Options :

1. ✖ The pupils experience physical, mental, social and emotional development

2. ✓

The pupils are actively engaged in the process of learning and gain knowledge as a result of purposeful activity

3. ✗ The pupils get variety of experiences as per the differences

4. ✗ The pupils can utilize their leisure time

Question Number : 138 Question Id : 16794318713 Question Type : MCQ Option Shuffling : Yes Display Question Number : Yes
Single Line Question Option : No Option Orientation : Vertical

Correct Marks : 1 Wrong Marks : 0.25

पाठ्यचर्या की गतिविधि-केंद्रितता के सिद्धांत के लिए निम्नलिखित में से कौन सा कथन उचित है?

Options :

1. ✗ विद्यार्थियों को मानसिक, सामाजिक और भावनात्मक विकास जैसे शारीरिक अनुभव होता है।

2. ✓

छात्र सक्रिय रूप से सीखने की प्रक्रिया में लगे हुए हैं और उद्देश्यपूर्ण गतिविधि के परिणामस्वरूप ज्ञान प्राप्त करें।

3. ✗ मतभेदों के अनुसार छात्रों को विभिन्न प्रकार के अनुभव मिलते हैं।

4. ✗ छात्र अपने अवकाश के समय का उपयोग कर सकते हैं।

Question Number : 139 Question Id : 16794318714 Question Type : MCQ Option Shuffling : Yes Display Question Number : Yes
Single Line Question Option : No Option Orientation : Vertical

Correct Marks : 1 Wrong Marks : 0.25

Who is the known as the father of computer?

Options :

1. ✗ Bill Gates

2. ✓ Charles Babbage

3. ✗ Marks Zukerberg

4. ✗ Albert Einstein

Question Number : 139 Question Id : 16794318714 Question Type : MCQ Option Shuffling : Yes Display Question Number : Yes
Single Line Question Option : No Option Orientation : Vertical

Correct Marks : 1 Wrong Marks : 0.25

किसको कंप्यूटर के पिता के रूप में जाना जाता है?

Options :

1. ✖ बिल गेट्स
2. ✔ चार्ल्स बैबेज
3. ✖ मार्क जुकरबर्ग
4. ✖ अल्बर्ट आइंस्टीन

Question Number : 140 Question Id : 16794318715 Question Type : MCQ Option Shuffling : Yes Display Question Number : Yes
Single Line Question Option : No Option Orientation : Vertical

Correct Marks : 1 Wrong Marks : 0.25

Which of the following means "A set of rules for appropriate behaviour while using internet"?

Options :

1. ✔ Netiquettes
2. ✖ Net safety
3. ✖ Net protection
4. ✖ Net privacy

Question Number : 140 Question Id : 16794318715 Question Type : MCQ Option Shuffling : Yes Display Question Number : Yes
Single Line Question Option : No Option Orientation : Vertical

Correct Marks : 1 Wrong Marks : 0.25

निम्नलिखित में से कौन सा "इंटरनेट का उपयोग करते समय उचित व्यवहार के लिए नियमों का एक सेट" का मतलब है?

Options :

1. ✔ नेटीक्युटेस
2. ✖ नेट सुरक्षा
3. ✖ नेट संरक्षण
4. ✖ नेट गोपनीयता

Subject Related

Group Number :

8

Group Id :

167943701

Group Maximum Duration :	0
Group Minimum Duration :	0
Revisit allowed for view? :	No
Revisit allowed for edit? :	No
Break time:	0
Group Marks:	20
Revisit allowed for group Instructions? :	Yes
Maximum Instruction Time:	0
Minimum Instruction Time:	0

Subject Related

Section Id :	167943766
Section Number :	1
Section type :	Online
Mandatory or Optional:	Mandatory
Number of Questions:	20
Number of Questions to be attempted:	20
Section Marks:	20
Display Number Panel:	Yes
Group All Questions:	No

Sub-Section Number:	1
Sub-Section Id:	1679431189
Question Shuffling Allowed :	Yes

Question Number : 141 Question Id : 16794318716 Question Type : MCQ Option Shuffling : Yes Display Question Number : Yes
Single Line Question Option : No Option Orientation : Vertical

Correct Marks : 1 Wrong Marks : 0.25

As a teacher how will you make teaching learning effective by using technology?

Options :

1. ✖ Providing technological resources to students
2. ✖ Preparing presentations for students
3. ✔ Selecting appropriate technology as per the needs of the students
4. ✖ Using technology for teaching, learning and evaluation

Question Number : 141 Question Id : 16794318716 Question Type : MCQ Option Shuffling : Yes Display Question Number : Yes
Single Line Question Option : No Option Orientation : Vertical

Correct Marks : 1 Wrong Marks : 0.25

एक शिक्षक के रूप में आप प्रौद्योगिकी का उपयोग करके शिक्षण सीखने को प्रभावी कैसे बनायेंगे?

Options :

1. ✖ छात्रों को तकनीकी संसाधन प्रदान करेंगे

2. ✖ छात्रों के लिए प्रस्तुतियां तैयार करेंगे
3. ✔ छात्रों की ज़रूरतों के अनुसार उपयुक्त तकनीक का चयन करेंगे
4. ✖ शिक्षण, सीखने और मूल्यांकन के लिए प्रौद्योगिकी का उपयोग करेंगे

Question Number : 142 Question Id : 16794318717 Question Type : MCQ Option Shuffling : Yes Display Question Number : Yes
Single Line Question Option : No Option Orientation : Vertical

Correct Marks : 1 Wrong Marks : 0.25

What is a best option for virus management?

Options :

1. ✖ Deleting the virus infected files from system
2. ✖ Deleting unknown mails from your account
3. ✔ Using anti- virus software for PC
4. ✖ Sending virus to others

Question Number : 142 Question Id : 16794318717 Question Type : MCQ Option Shuffling : Yes Display Question Number : Yes
Single Line Question Option : No Option Orientation : Vertical

Correct Marks : 1 Wrong Marks : 0.25

वायरस प्रबंधन के लिए सबसे अच्छा विकल्प क्या है?

Options :

1. ✖ सिस्टम से वायरस संक्रमित फ़ाइलों को हटाना
2. ✖ अपने अकाउंट से अज्ञात मेल हटाना
3. ✔ पीसी के लिए एंटी- वायरस सॉफ्टवेयर का उपयोग करना
4. ✖ दूसरों को वायरस भेजना

Question Number : 143 Question Id : 16794318718 Question Type : MCQ Option Shuffling : Yes Display Question Number : Yes
Single Line Question Option : No Option Orientation : Vertical

Correct Marks : 1 Wrong Marks : 0.25

Which will be the effective computer programme for the students?

Options :

1. ✖ Programme which has animations

2. ✖ Programme which has proper evaluation strategies
3. ✖ Programme which has audio
4. ✔ Programme which has clear instructions

Question Number : 143 Question Id : 16794318718 Question Type : MCQ Option Shuffling : Yes Display Question Number : Yes
Single Line Question Option : No Option Orientation : Vertical
Correct Marks : 1 Wrong Marks : 0.25

छात्रों के लिए प्रभावी कंप्यूटर कार्यक्रम कौन सा होगा?

Options :

1. ✖ प्रोग्राम जिसमें एनिमेशन हैं
2. ✖ कार्यक्रम जिसमें उचित मूल्यांकन रणनीतियां हैं
3. ✖ कार्यक्रम जिसमें ऑडियो है
4. ✔ कार्यक्रम जिसमें स्पष्ट निर्देश हैं

Question Number : 144 Question Id : 16794318719 Question Type : MCQ Option Shuffling : Yes Display Question Number : Yes
Single Line Question Option : No Option Orientation : Vertical
Correct Marks : 1 Wrong Marks : 0.25

Child lock system is mainly used for:

Options :

1. ✖ Keeping watch on students
2. ✔ Protecting them from harmful website content
3. ✖ Preventing students to use internet
4. ✖ Use educational websites

Question Number : 144 Question Id : 16794318719 Question Type : MCQ Option Shuffling : Yes Display Question Number : Yes
Single Line Question Option : No Option Orientation : Vertical
Correct Marks : 1 Wrong Marks : 0.25

चाइल्ड लॉक सिस्टम का मुख्य रूप से उपयोग किया जाता है:

Options :

1. ✖ छात्रों पर नजर रखना

2. ✓ हानिकारक वेबसाइट सामग्री से उन्हें सुरक्षित रखना

3. ✗ छात्रों को इंटरनेट का उपयोग करने से रोकना

4. ✗ शैक्षिक वेबसाइटों का प्रयोग करें

Question Number : 145 Question Id : 16794318720 Question Type : MCQ Option Shuffling : Yes Display Question Number : Yes
Single Line Question Option : No Option Orientation : Vertical

Correct Marks : 1 Wrong Marks : 0.25

As a teacher where can you use social networking for your teaching?

Options :

1. ✗ For difficult topics

2. ✗ For simulation lessons

3. ✗ For explaining important concepts

4. ✓ For collaborative learning

Question Number : 145 Question Id : 16794318720 Question Type : MCQ Option Shuffling : Yes Display Question Number : Yes
Single Line Question Option : No Option Orientation : Vertical

Correct Marks : 1 Wrong Marks : 0.25

एक शिक्षक के रूप में आप अपने शिक्षण के लिए सोशल नेटवर्किंग का उपयोग कहाँ कर सकते हैं?

Options :

1. ✗ कठिन विषयों के लिए

2. ✗ अनुकरण पाठ के लिए

3. ✗ महत्वपूर्ण अवधारणाओं को समझाने के लिए

4. ✓ सहयोगी शिक्षा के लिए

Question Number : 146 Question Id : 16794318721 Question Type : MCQ Option Shuffling : Yes Display Question Number : Yes
Single Line Question Option : No Option Orientation : Vertical

Correct Marks : 1 Wrong Marks : 0.25

Which example is appropriate for virtual classroom?

Options :

1. ✗ Classroom having computer, LCD projector

2. ✖ Classroom having smart board
3. ✖ Classroom having ICT resources with internet
4. ✔ Virtual learning atmosphere with ICT resources with internet

Question Number : 146 Question Id : 16794318721 Question Type : MCQ Option Shuffling : Yes Display Question Number : Yes
Single Line Question Option : No Option Orientation : Vertical
Correct Marks : 1 Wrong Marks : 0.25

आभासी कक्षा के लिए कौन सा उदाहरण उपयुक्त है?

Options :

1. ✖ कक्षा में कंप्यूटर, एलसीडी प्रोजेक्टर होना
2. ✖ कक्षा में स्मार्ट बोर्ड होना
3. ✖ इंटरनेट के साथ आईसीटी संसाधन वाले कक्षा होना
4. ✔ इंटरनेट के साथ आईसीटी संसाधनों के साथ वर्चुअल लर्निंग वायुमंडल होना

Question Number : 147 Question Id : 16794318722 Question Type : MCQ Option Shuffling : Yes Display Question Number : Yes
Single Line Question Option : No Option Orientation : Vertical
Correct Marks : 1 Wrong Marks : 0.25

What is the meaning of understanding objective?

Options :

1. ✖ achieved to develop the recall and recognition abilities
2. ✔ realized by developing the abilities of seeing relationship, discrimination, cite example and generalization
3. ✖ achieved by developing the abilities of reasoning, hypothesizing, inferring, and prediction
4. ✖ achieved by satisfying the highest needs of a person and employing internal motivation

Question Number : 147 Question Id : 16794318722 Question Type : MCQ Option Shuffling : Yes Display Question Number : Yes
Single Line Question Option : No Option Orientation : Vertical
Correct Marks : 1 Wrong Marks : 0.25

उद्देश्य समझने का अर्थ क्या है?

Options :

1. ✖ याद और मान्यता क्षमताओं को विकसित करने के लिए हासिल करना

2. ✔

संबंध, भेदभाव, उद्धरण उदाहरण और सामान्यीकरण देखने की क्षमताओं को विकसित करके महसूस करना

3. ✖ तर्क, परिकल्पना, व्याख्या, और भविष्यवाणी की क्षमताओं को विकसित करके हासिल करना

4. ✖

किसी व्यक्ति की उच्चतम आवश्यकताओं को संतुष्ट करके और आंतरिक प्रेरणा को नियोजित करके हासिल करना

Question Number : 148 Question Id : 16794318723 Question Type : MCQ Option Shuffling : Yes Display Question Number : Yes
Single Line Question Option : No Option Orientation : Vertical

Correct Marks : 1 Wrong Marks : 0.25

What is the teacher's use of achievement test?

Options :

1. ✖ Will give numerical range of the learners

2. ✖ Will give where the learners are in class

3. ✖ Will give clear picture of learner's behavior

4. ✔ Will come to know the general range of abilities of students in class

Question Number : 148 Question Id : 16794318723 Question Type : MCQ Option Shuffling : Yes Display Question Number : Yes
Single Line Question Option : No Option Orientation : Vertical

Correct Marks : 1 Wrong Marks : 0.25

उपलब्धि परीक्षण के शिक्षक का उपयोग क्या है?

Options :

1. ✖ शिक्षार्थियों की संख्यात्मक सीमा देंगे

2. ✖ शिक्षार्थियों को कक्षा में कहां दिया जाएगा

3. ✖ सीखने वाले के व्यवहार की स्पष्ट तस्वीर देंगे

4. ✔ कक्षा में छात्रों की क्षमताओं की सामान्य सीमा जानने के लिए आ जाएगा

Question Number : 149 Question Id : 16794318724 Question Type : MCQ Option Shuffling : Yes Display Question Number : Yes
Single Line Question Option : No Option Orientation : Vertical

Correct Marks : 1 Wrong Marks : 0.25

When we are intensely listening to music, we understand the melody and music in the songs and poems, enjoy and derive pleasure from listening. This refers to which type of listening?

Options :

1. ✖ Casual listening
2. ✖ Focused listening
3. ✔ Appreciative listening
4. ✖ Gist listening

Question Number : 149 Question Id : 16794318724 Question Type : MCQ Option Shuffling : Yes Display Question Number : Yes
Single Line Question Option : No Option Orientation : Vertical

Correct Marks : 1 Wrong Marks : 0.25

जब हम संगीत को गहन रूप से सुन रहे होते हैं, तो हम गाने और कविताओं में संगीत और संगीत को समझते हैं, आनंद लेने और आनंद लेने से आनंद प्राप्त करते हैं। यह किस प्रकार की सुनवाई को संदर्भित करता है?

Options :

1. ✖ आसानी से सुनना
2. ✖ ध्यान पूर्वक सुनना
3. ✔ सराहनीय पूर्वक सुनना
4. ✖ भावार्थ पूर्वक सुनना

Question Number : 150 Question Id : 16794318725 Question Type : MCQ Option Shuffling : Yes Display Question Number : Yes
Single Line Question Option : No Option Orientation : Vertical

Correct Marks : 1 Wrong Marks : 0.25

While searching for the time of departure of a train, we need, we just run our eyes through the railway time-table and locate it. This is an example of which reading technique?

Options :

1. ✖ Skimming
2. ✔ Scanning
3. ✖ Intensive
4. ✖ Extensive

Question Number : 150 Question Id : 16794318725 Question Type : MCQ Option Shuffling : Yes Display Question Number : Yes
Single Line Question Option : No Option Orientation : Vertical

Correct Marks : 1 Wrong Marks : 0.25

ट्रेन के प्रस्थान के समय की खोज करते समय, हमें ज़रूरत है कि हम रेलवे समय-सारणी के माध्यम से अपनी आंखें चलाएं और इसका पता लगाएं। यह पढ़ने की तकनीक किसका एक उदाहरण है?

Options :

1. ✖ स्किमिंग
2. ✔ स्कैनिंग
3. ✖ गहन
4. ✖ व्यापक

Question Number : 151 Question Id : 16794318726 Question Type : MCQ Option Shuffling : Yes Display Question Number : Yes
Single Line Question Option : No Option Orientation : Vertical

Correct Marks : 1 Wrong Marks : 0.25

The teacher uses pictures and flash cards to motivate the students and read the lines. This method of teaching reading is:

Options :

1. ✖ Phonic method
2. ✖ Word method
3. ✖ Phrase method
4. ✔ Sentence method

Question Number : 151 Question Id : 16794318726 Question Type : MCQ Option Shuffling : Yes Display Question Number : Yes
Single Line Question Option : No Option Orientation : Vertical

Correct Marks : 1 Wrong Marks : 0.25

शिक्षक छात्रों को प्रेरित करने और लाइनों को पढ़ने के लिए चित्र और फ्लैश कार्ड का उपयोग करता है। पढ़ना पढ़ाने की यह विधि है:

Options :

1. ✖ ध्वन्यात्मक विधि
2. ✖ शब्द विधि
3. ✖ वाक्यांश विधि
4. ✔ वाक्य विधि

Question Number : 152 Question Id : 16794318727 Question Type : MCQ Option Shuffling : Yes Display Question Number : Yes
Single Line Question Option : No Option Orientation : Vertical

Correct Marks : 1 Wrong Marks : 0.25

What is a technique used in Direct Method?

Options :

1. ✖ Learners get the knowledge of grammar which helps in the development of spoken and written skill
2. ✔ Learners are encouraged to think and communicate in English
3. ✖ Translation of English words in the local language for better understanding
4. ✖ Teacher plays an important and active role in classroom transaction and interaction is one sided

Question Number : 152 Question Id : 16794318727 Question Type : MCQ Option Shuffling : Yes Display Question Number : Yes
Single Line Question Option : No Option Orientation : Vertical

Correct Marks : 1 Wrong Marks : 0.25

डायरेक्ट मेथड में इस्तेमाल की जाने वाली तकनीक क्या है?

Options :

1. ✖ शिक्षार्थियों को व्याकरण का ज्ञान मिलता है जो बोली जाने वाली और लिखित कौशल के विकास में मदद करता है
2. ✔ शिक्षार्थियों को अंग्रेज़ी में सोचने और संवाद करने के लिए प्रोत्साहित किया जाता है
3. ✖ बेहतर समझ के लिए स्थानीय भाषा में अंग्रेज़ी शब्दों का अनुवाद
4. ✖ शिक्षक कक्षा लेनदेन में एक महत्वपूर्ण और सक्रिय भूमिका निभाता है और बातचीत एक तरफा है

Question Number : 153 Question Id : 16794318728 Question Type : MCQ Option Shuffling : Yes Display Question Number : Yes
Single Line Question Option : No Option Orientation : Vertical

Correct Marks : 1 Wrong Marks : 0.25

What is the meaning of Team Teaching?

Options :

1. ✖ Hold a group discussion to produce ideas
2. ✖ Teacher work together in group activities
3. ✔ Teachers forming a group and working purposefully, regularly and cooperatively to help the learners

4. ✖ Teacher review their teaching strategies regularly

Question Number : 153 Question Id : 16794318728 Question Type : MCQ Option Shuffling : Yes Display Question Number : Yes
Single Line Question Option : No Option Orientation : Vertical

Correct Marks : 1 Wrong Marks : 0.25

टीम शिक्षण का अर्थ क्या है?

Options :

1. ✖ विचारों का उत्पादन करने के लिए एक समूह चर्चा आयोजित करें

2. ✖ शिक्षक समूह गतिविधियों में एक साथ काम करते हैं

3. ✔

शिक्षक एक समूह बनाते हैं और सीखने वालों की मदद के लिए नियमित रूप से और सहकारी रूप से काम करते हैं

4. ✖ शिक्षक नियमित रूप से उनके शिक्षण रणनीतियों की समीक्षा करते हैं

Question Number : 154 Question Id : 16794318729 Question Type : MCQ Option Shuffling : Yes Display Question Number : Yes
Single Line Question Option : No Option Orientation : Vertical

Correct Marks : 1 Wrong Marks : 0.25

What do you mean by Grammar in language acquisition?

Options :

1. ✖ Vocabulary

2. ✖ Sound system

3. ✖ Sentences

4. ✔ Context-dependent rules, style

Question Number : 154 Question Id : 16794318729 Question Type : MCQ Option Shuffling : Yes Display Question Number : Yes
Single Line Question Option : No Option Orientation : Vertical

Correct Marks : 1 Wrong Marks : 0.25

भाषा अधिग्रहण में व्याकरण का क्या मतलब है?

Options :

1. ✖ शब्दावली

2. ✖ ध्वनि प्रणाली

3. ✖ वाक्य

4. ✓ संदर्भ-निर्भर नियम, शैली

Question Number : 155 Question Id : 16794318730 Question Type : MCQ Option Shuffling : Yes Display Question Number : Yes
Single Line Question Option : No Option Orientation : Vertical
Correct Marks : 1 Wrong Marks : 0.25

What do you mean by morphology?

Options :

1. ✗ Is the study of meaning we get from the sentence
2. ✓ Is the study of words, how they are formed and their relationship to other words
3. ✗ Is the study of context and situations
4. ✗ Is the study of sound system

Question Number : 155 Question Id : 16794318730 Question Type : MCQ Option Shuffling : Yes Display Question Number : Yes
Single Line Question Option : No Option Orientation : Vertical
Correct Marks : 1 Wrong Marks : 0.25

मोर्फोलॉजी से आपका क्या मतलब है?

Options :

1. ✗ अर्थ का अध्ययन हम वाक्य से प्राप्त करते हैं
2. ✓ शब्दों का अध्ययन, वे कैसे बने होते हैं और दूसरे शब्दों के साथ उनके संबंध हैं
3. ✗ संदर्भ और परिस्थितियों का अध्ययन है
4. ✗ ध्वनि प्रणाली का अध्ययन है

Question Number : 156 Question Id : 16794318731 Question Type : MCQ Option Shuffling : Yes Display Question Number : Yes
Single Line Question Option : No Option Orientation : Vertical
Correct Marks : 1 Wrong Marks : 0.25

What is the explanation of 'modelling language'?

Options :

1. ✓ Adults should use language that include rich vocabulary, abstract words and concepts, and variety of grammatical forms
2. ✗ Adults should not focus on children as they learn all by themselves listening to them talk
3. ✗ There is no need for modeling language

4. ✖ Point to a picture in the book and tell their names

Question Number : 156 Question Id : 16794318731 Question Type : MCQ Option Shuffling : Yes Display Question Number : Yes
Single Line Question Option : No Option Orientation : Vertical

Correct Marks : 1 Wrong Marks : 0.25

'मॉडलिंग भाषा' की व्याख्या क्या है?

Options :

1. ✔ वयस्कों को ऐसी भाषा का उपयोग करना चाहिए जिसमें समृद्ध शब्दावली, सार शब्द और अवधारणाएं, और व्याकरणिक रूपों की विविधता शामिल हो
2. ✖ वयस्कों को बच्चों पर ध्यान केंद्रित नहीं करना चाहिए क्योंकि वे उनसे बात सुनकर सीखते हैं
3. ✖ मॉडलिंग भाषा की कोई ज़रूरत नहीं है
4. ✖ पुस्तक में एक तस्वीर को इंगित करें और उनके नाम बताएं

Question Number : 157 Question Id : 16794318732 Question Type : MCQ Option Shuffling : Yes Display Question Number : Yes
Single Line Question Option : No Option Orientation : Vertical

Correct Marks : 1 Wrong Marks : 0.25

What is language delay?

Options :

1. ✖ Not having proper conversation with adults
2. ✖ Not able to repeat after the adults
3. ✖ Not able to think of proper vocabulary to use while speaking
4. ✔ Not able to express properly in early years

Question Number : 157 Question Id : 16794318732 Question Type : MCQ Option Shuffling : Yes Display Question Number : Yes
Single Line Question Option : No Option Orientation : Vertical

Correct Marks : 1 Wrong Marks : 0.25

भाषा विलंब क्या है?

Options :

1. ✖ वयस्कों के साथ उचित बातचीत नहीं है
2. ✖ वयस्कों के बाद दोहराने में सक्षम नहीं है

3. ✖ बोलते समय उपयोग करने के लिए उचित शब्दावली के बारे में सोचने में सक्षम नहीं है
4. ✔ प्रारंभिक वर्षों में ठीक से व्यक्त करने में सक्षम नहीं है

Question Number : 158 Question Id : 16794318733 Question Type : MCQ Option Shuffling : Yes Display Question Number : Yes
Single Line Question Option : No Option Orientation : Vertical

Correct Marks : 1 Wrong Marks : 0.25

This technique developed by Brown & Poliscar, allows students to use Meta cognitive techniques and discuss about the text given to them.

Options :

1. ✔ Reciprocal teaching
2. ✖ Buzz groups
3. ✖ Think Pair Share
4. ✖ Role play

Question Number : 158 Question Id : 16794318733 Question Type : MCQ Option Shuffling : Yes Display Question Number : Yes
Single Line Question Option : No Option Orientation : Vertical

Correct Marks : 1 Wrong Marks : 0.25

ब्राउन एंड पोलिस्कर द्वारा विकसित यह तकनीक, छात्रों को मेटा संज्ञानात्मक तकनीकों का उपयोग करने और उन्हें दिए गए पाठ के बारे में चर्चा करने की अनुमति देती है।

Options :

1. ✔ पारस्परिक शिक्षण
2. ✖ बज़ समूह
3. ✖ साझा जोड़ी के बारे में विचार करें
4. ✖ रोल प्ले

Question Number : 159 Question Id : 16794318734 Question Type : MCQ Option Shuffling : Yes Display Question Number : Yes
Single Line Question Option : No Option Orientation : Vertical

Correct Marks : 1 Wrong Marks : 0.25

Some students in a class need more time to grasp new concepts and are having difficulty in maintaining social interactions. They are:

Options :

1. ✖ Backward learners

2. ✓ Slow learners

3. ✗ Poor learners

4. ✗ Day dreamers

Question Number : 159 Question Id : 16794318734 Question Type : MCQ Option Shuffling : Yes Display Question Number : Yes
Single Line Question Option : No Option Orientation : Vertical

Correct Marks : 1 Wrong Marks : 0.25

कक्षा में कुछ छात्रों को नई अवधारणाओं को समझने के लिए और अधिक समय की आवश्यकता होती है और सामाजिक बातचीत को बनाए रखने में कठिनाई होती है। वो हैं:

Options :

1. ✗ बैकवर्ड शिक्षार्थियों

2. ✓ धीमी शिक्षार्थियों

3. ✗ गरीब शिक्षार्थियों

4. ✗ दिन सपने देखने वाले

Question Number : 160 Question Id : 16794318735 Question Type : MCQ Option Shuffling : Yes Display Question Number : Yes
Single Line Question Option : No Option Orientation : Vertical

Correct Marks : 1 Wrong Marks : 0.25

DYSCALCULIA- refers to:

Options :

1. ✓ Mathematics learning disability

2. ✗ Struggling learner

3. ✗ A gifted student

4. ✗ Poor motivation

Question Number : 160 Question Id : 16794318735 Question Type : MCQ Option Shuffling : Yes Display Question Number : Yes
Single Line Question Option : No Option Orientation : Vertical

Correct Marks : 1 Wrong Marks : 0.25

डीस्कैलकुलिया किसको संदर्भित करता है?

Options :

1. ✓ गणित सीखने की अक्षमता

2. ✖ अधिक परिश्रम से सीखना

3. ✖ एक प्रतिभाशाली छात्र

4. ✖ खराब प्रेरणा

Subject Related

Group Number :	9
Group Id :	167943702
Group Maximum Duration :	0
Group Minimum Duration :	0
Revisit allowed for view? :	No
Revisit allowed for edit? :	No
Break time:	0
Group Marks:	20
Revisit allowed for group Instructions? :	Yes
Maximum Instruction Time:	0
Minimum Instruction Time:	0

Subject Related

Section Id :	167943767
Section Number :	1
Section type :	Online
Mandatory or Optional:	Mandatory
Number of Questions:	20
Number of Questions to be attempted:	20
Section Marks:	20
Display Number Panel:	Yes
Group All Questions:	No

Sub-Section Number:	1
Sub-Section Id:	1679431190
Question Shuffling Allowed :	Yes

Question Number : 161 Question Id : 16794318736 Question Type : MCQ Option Shuffling : Yes Display Question Number : Yes
Single Line Question Option : No Option Orientation : Vertical

Correct Marks : 1 Wrong Marks : 0.25

Higher learning outcomes like synthesis, interpretation, problem solving etc. can be tested with these types of questions.

Options :

1. ✖ Matching type

2. ✔ Essay type

3. ✖ Short answer type

4. ✖ Classification type

Question Number : 161 Question Id : 16794318736 Question Type : MCQ Option Shuffling : Yes Display Question Number : Yes
Single Line Question Option : No Option Orientation : Vertical

Correct Marks : 1 Wrong Marks : 0.25

संश्लेषण, व्याख्या, समस्या निवारण इत्यादि जैसे उच्च सीखने के परिणामों का परीक्षण इन प्रकार के प्रश्नों के साथ किया जा सकता है।

Options :

1. ✖ मैचिंग/मिलान प्रकार

2. ✔ निबंध प्रकार

3. ✖ संक्षिप्त उत्तर प्रकार

4. ✖ वर्गीकरण प्रकार

Question Number : 162 Question Id : 16794318737 Question Type : MCQ Option Shuffling : Yes Display Question Number : Yes
Single Line Question Option : No Option Orientation : Vertical

Correct Marks : 1 Wrong Marks : 0.25

Which of the following are the qualities of a Good Test?

Options :

1. ✖ Reliability

2. ✖ Validity

3. ✖ Objectivity

4. ✔ All of the given

Question Number : 162 Question Id : 16794318737 Question Type : MCQ Option Shuffling : Yes Display Question Number : Yes
Single Line Question Option : No Option Orientation : Vertical

Correct Marks : 1 Wrong Marks : 0.25

निम्नलिखित में से कौन सा एक अच्छा परीक्षण का गुण है?

Options :

1. ✖ विश्वसनीयता

2. ✖ वैधता

3. ✖ निष्पक्षतावाद

4. ✔ दिए गए सभी

Question Number : 163 Question Id : 16794318738 Question Type : MCQ Option Shuffling : Yes Display Question Number : Yes
Single Line Question Option : No Option Orientation : Vertical

Correct Marks : 1 Wrong Marks : 0.25

'SEED' programme is related to the following education:

Options :

1. ✔ Science education

2. ✖ Agricultural education

3. ✖ Environmental education

4. ✖ Social science education

Question Number : 163 Question Id : 16794318738 Question Type : MCQ Option Shuffling : Yes Display Question Number : Yes
Single Line Question Option : No Option Orientation : Vertical

Correct Marks : 1 Wrong Marks : 0.25

'एसईईडी' (SEED) कार्यक्रम निम्नलिखित शिक्षा से संबंधित है:

Options :

1. ✔ विज्ञान की शिक्षा

2. ✖ कृषि शिक्षा

3. ✖ पर्यावरण शिक्षा

4. ✖ सामाजिक विज्ञान शिक्षा

Question Number : 164 Question Id : 16794318739 Question Type : MCQ Option Shuffling : Yes Display Question Number : Yes
Single Line Question Option : No Option Orientation : Vertical

Correct Marks : 1 Wrong Marks : 0.25

Which approach is suitable to encourage students to conserve and protect the natural environment?

Options :

1. ✖ Environmental education for child's development

2. ✖ Natural science education learning development

3. ✓ Environmental education for sustainable development

4. ✗ Environmental education for country's development

Question Number : 164 Question Id : 16794318739 Question Type : MCQ Option Shuffling : Yes Display Question Number : Yes
Single Line Question Option : No Option Orientation : Vertical

Correct Marks : 1 Wrong Marks : 0.25

प्राकृतिक पर्यावरण को संरक्षित और संरक्षित करने के लिए छात्रों को प्रोत्साहित करने के लिए कौन सा दृष्टिकोण उपयुक्त है?

Options :

1. ✗ बच्चे के विकास के लिए पर्यावरण शिक्षा

2. ✗ प्राकृतिक विज्ञान शिक्षा सीखने के विकास

3. ✓ टिकाऊ विकास के लिए पर्यावरण शिक्षा

4. ✗ देश के विकास के लिए पर्यावरण शिक्षा

Question Number : 165 Question Id : 16794318740 Question Type : MCQ Option Shuffling : Yes Display Question Number : Yes
Single Line Question Option : No Option Orientation : Vertical

Correct Marks : 1 Wrong Marks : 0.25

This theory suggests that students learn more effectively by 'doing' than by 'listening':

Options :

1. ✗ Passive learning

2. ✗ Active learning

3. ✓ Experimental learning

4. ✗ Rote learning

Question Number : 165 Question Id : 16794318740 Question Type : MCQ Option Shuffling : Yes Display Question Number : Yes
Single Line Question Option : No Option Orientation : Vertical

Correct Marks : 1 Wrong Marks : 0.25

यह सिद्धांत बताता है कि छात्र 'सुनने' से 'कर' से अधिक प्रभावी ढंग से सीखते हैं:

Options :

1. ✗ निष्क्रिय सीखना

2. ✖ सक्रिय अध्ययन

3. ✔ प्रायोगिक शिक्षा

4. ✖ रटना सीखने

Question Number : 166 Question Id : 16794318741 Question Type : MCQ Option Shuffling : Yes Display Question Number : Yes
Single Line Question Option : No Option Orientation : Vertical

Correct Marks : 1 Wrong Marks : 0.25

“Habitat and Learning” is related with following education:

Options :

1. ✖ Community Education

2. ✖ Social Education

3. ✖ Science Education

4. ✔ Environmental Education

Question Number : 166 Question Id : 16794318741 Question Type : MCQ Option Shuffling : Yes Display Question Number : Yes
Single Line Question Option : No Option Orientation : Vertical

Correct Marks : 1 Wrong Marks : 0.25

"आवास और शिक्षा" निम्नलिखित शिक्षा से संबंधित है:

Options :

1. ✖ सामुदायिक शिक्षा

2. ✖ सामाजिक शिक्षा

3. ✖ विज्ञान की शिक्षा

4. ✔ पर्यावरण शिक्षा

Question Number : 167 Question Id : 16794318742 Question Type : MCQ Option Shuffling : Yes Display Question Number : Yes
Single Line Question Option : No Option Orientation : Vertical

Correct Marks : 1 Wrong Marks : 0.25

What is the name of the course material for environmental education?

Options :

1. ✖ Learn and enjoy

2. ✓ Look around
3. ✗ Environmental science
4. ✗ Nature education

Question Number : 167 Question Id : 16794318742 Question Type : MCQ Option Shuffling : Yes Display Question Number : Yes
Single Line Question Option : No Option Orientation : Vertical
Correct Marks : 1 Wrong Marks : 0.25

पर्यावरण शिक्षा के लिए पाठ्यक्रम सामग्री का नाम क्या है?

Options :

1. ✗ जानें और आनंद लें
2. ✓ चारों ओर देखो
3. ✗ पर्यावरण विज्ञान
4. ✗ प्रकृति शिक्षा

Question Number : 168 Question Id : 16794318743 Question Type : MCQ Option Shuffling : Yes Display Question Number : Yes
Single Line Question Option : No Option Orientation : Vertical
Correct Marks : 1 Wrong Marks : 0.25

Mug and jug model of learning process means:

Options :

1. ✗ Preparing mug and Jug
2. ✗ Using mug and jug
3. ✓ Knowledge pouring like jug and receiving like mug
4. ✗ Drawing mug and jug

Question Number : 168 Question Id : 16794318743 Question Type : MCQ Option Shuffling : Yes Display Question Number : Yes
Single Line Question Option : No Option Orientation : Vertical
Correct Marks : 1 Wrong Marks : 0.25

सीखने की प्रक्रिया का मग और जग मॉडल का क्या मतलब है?

Options :

1. ✗ मग और जग की तैयारी

2. ✖ मग और जग का उपयोग करना
3. ✔ जग की तरह ज्ञान देना/डालना और मग की तरह प्राप्त करना
4. ✖ मग और जग निकालना

Question Number : 169 Question Id : 16794318744 Question Type : MCQ Option Shuffling : Yes Display Question Number : Yes
Single Line Question Option : No Option Orientation : Vertical
Correct Marks : 1 Wrong Marks : 0.25

The main objective of 'HPPI' is:

Options :

1. ✖ Development of secondary education
2. ✖ Development of primary education
3. ✖ Development of vocational education
4. ✔ Development of education in children

Question Number : 169 Question Id : 16794318744 Question Type : MCQ Option Shuffling : Yes Display Question Number : Yes
Single Line Question Option : No Option Orientation : Vertical
Correct Marks : 1 Wrong Marks : 0.25

'एचपीपीआई' (HPPI) का मुख्य उद्देश्य क्या है?

Options :

1. ✖ माध्यमिक शिक्षा का विकास
2. ✖ प्राथमिक शिक्षा का विकास
3. ✖ व्यावसायिक शिक्षा का विकास
4. ✔ बच्चों में शिक्षा का विकास

Question Number : 170 Question Id : 16794318745 Question Type : MCQ Option Shuffling : Yes Display Question Number : Yes
Single Line Question Option : No Option Orientation : Vertical
Correct Marks : 1 Wrong Marks : 0.25

“Constitution under the 83rd Amendment, 2000” is stated that:

Options :

1. ✖ Right higher education

- 2. ✖ Right live
- 3. ✖ Right to study in any school of India
- 4. ✔ Right to Education

Question Number : 170 Question Id : 16794318745 Question Type : MCQ Option Shuffling : Yes Display Question Number : Yes
Single Line Question Option : No Option Orientation : Vertical
Correct Marks : 1 Wrong Marks : 0.25

“83वें संशोधन, 2000 के तहत संविधान” कहा गया है कि:

Options :

- 1. ✖ सही उच्च शिक्षा
- 2. ✖ सही रहो
- 3. ✖ भारत के किसी भी स्कूल में अध्ययन करने का अधिकार
- 4. ✔ शिक्षा का अधिकार

Question Number : 171 Question Id : 16794318746 Question Type : MCQ Option Shuffling : Yes Display Question Number : Yes
Single Line Question Option : No Option Orientation : Vertical
Correct Marks : 1 Wrong Marks : 0.25

Communication, language and creative expression can be developed in children by including which of these in the curriculum?

Options :

- 1. ✖ Mathematics
- 2. ✖ Social sciences
- 3. ✔ Dramatics
- 4. ✖ English

Question Number : 171 Question Id : 16794318746 Question Type : MCQ Option Shuffling : Yes Display Question Number : Yes
Single Line Question Option : No Option Orientation : Vertical
Correct Marks : 1 Wrong Marks : 0.25

पाठ्यक्रम में इनमें से कौन सा शामिल करके संचार, भाषा और रचनात्मक अभिव्यक्ति बच्चों में विकसित की जा सकती है?

Options :

- 1. ✖ अंक शास्त्र

2. ✖ सामाजिक विज्ञान

3. ✔ नाटक

4. ✖ अंग्रेज़ी

Question Number : 172 Question Id : 16794318747 Question Type : MCQ Option Shuffling : Yes Display Question Number : Yes
Single Line Question Option : No Option Orientation : Vertical

Correct Marks : 1 Wrong Marks : 0.25

One of the practical ways of inculcating interest in art in children is by:

Options :

1. ✖ Taking them to concerts

2. ✔ Inviting talented parents as guest visitors

3. ✖ Organising art competitions

4. ✖ Organizing formal art classes

Question Number : 172 Question Id : 16794318747 Question Type : MCQ Option Shuffling : Yes Display Question Number : Yes
Single Line Question Option : No Option Orientation : Vertical

Correct Marks : 1 Wrong Marks : 0.25

बच्चों में कला में रुचि पैदा करने के व्यावहारिक तरीकों में से एक है:

Options :

1. ✖ उन्हें संगीत कार्यक्रम में ले जाना

2. ✔ प्रतिभाशाली माता-पिता को अतिथि आगंतुकों के रूप में आमंत्रित करना

3. ✖ कला प्रतियोगिताओं का आयोजन

4. ✖ औपचारिक कला कक्षाओं का आयोजन

Question Number : 173 Question Id : 16794318748 Question Type : MCQ Option Shuffling : Yes Display Question Number : Yes
Single Line Question Option : No Option Orientation : Vertical

Correct Marks : 1 Wrong Marks : 0.25

Which of these art forms is not an example of non-verbal art forms?

Options :

1. ✖ Drama

2. ✖ Folk songs

3. ✔ Folk dance

4. ✖ Western classical songs

Question Number : 173 Question Id : 16794318748 Question Type : MCQ Option Shuffling : Yes Display Question Number : Yes
Single Line Question Option : No Option Orientation : Vertical

Correct Marks : 1 Wrong Marks : 0.25

इनमें से कौन सा कला रूप गैर-मौखिक कला रूपों का उदाहरण नहीं है?

Options :

1. ✖ नाटक

2. ✖ लोकगीत

3. ✔ लोक नृत्य

4. ✖ पश्चिमी शास्त्रीय गाने

Question Number : 174 Question Id : 16794318749 Question Type : MCQ Option Shuffling : Yes Display Question Number : Yes
Single Line Question Option : No Option Orientation : Vertical

Correct Marks : 1 Wrong Marks : 0.25

Important values about the environment and its conservation through hands on activities can be achieved by including which of these subjects into the curriculum?

Options :

1. ✖ Science

2. ✖ Social sciences

3. ✖ Environmental science

4. ✔ Gardening

Question Number : 174 Question Id : 16794318749 Question Type : MCQ Option Shuffling : Yes Display Question Number : Yes
Single Line Question Option : No Option Orientation : Vertical

Correct Marks : 1 Wrong Marks : 0.25

पर्यावरण के बारे में महत्वपूर्ण मूल्य और गतिविधियों पर हाथों के माध्यम से इसके संरक्षण पाठ्यक्रम में इन विषयों में से कौन सा शामिल किया जा सकता है?

Options :

1. ✖ विज्ञान

2. ✖ सामाजिक विज्ञान

3. ✖ पर्यावरण विज्ञान

4. ✔ बागवानी

Question Number : 175 Question Id : 16794318750 Question Type : MCQ Option Shuffling : Yes Display Question Number : Yes
Single Line Question Option : No Option Orientation : Vertical

Correct Marks : 1 Wrong Marks : 0.25

Gardening has high potential of developing which of these personality aspects other than progress in academics?

Options :

1. ✖ Developing team spirit

2. ✖ Developing individuality

3. ✔ Developing healthy eating habits

4. ✖ Developing social skills

Question Number : 175 Question Id : 16794318750 Question Type : MCQ Option Shuffling : Yes Display Question Number : Yes
Single Line Question Option : No Option Orientation : Vertical

Correct Marks : 1 Wrong Marks : 0.25

बागवानी में शिक्षाविदों में प्रगति के अलावा इन व्यक्तित्व पहलुओं में से कौन सा विकास विकसित करने की उच्च क्षमता है?

Options :

1. ✖ टीम की भावना विकसित करना

2. ✖ व्यक्तित्व विकसित करना

3. ✔ स्वस्थ खाने की आदतें विकसित करना

4. ✖ सामाजिक कौशल का विकास

Question Number : 176 Question Id : 16794318751 Question Type : MCQ Option Shuffling : Yes Display Question Number : Yes
Single Line Question Option : No Option Orientation : Vertical

Correct Marks : 1 Wrong Marks : 0.25

Which of the social skills are developed through gardening activities?

Options :

1. ✔ Collaboration

2. ✖ Self esteem
3. ✖ Work satisfaction
4. ✖ Confidence

Question Number : 176 Question Id : 16794318751 Question Type : MCQ Option Shuffling : Yes Display Question Number : Yes
Single Line Question Option : No Option Orientation : Vertical
Correct Marks : 1 Wrong Marks : 0.25

बागवानी गतिविधियों के माध्यम से कौन से सामाजिक कौशल विकसित किए जाते हैं?

Options :

1. ✔ सहयोग
2. ✖ आत्म सम्मान
3. ✖ कार्य संतुष्टि
4. ✖ आत्मविश्वास

Question Number : 177 Question Id : 16794318752 Question Type : MCQ Option Shuffling : Yes Display Question Number : Yes
Single Line Question Option : No Option Orientation : Vertical
Correct Marks : 1 Wrong Marks : 0.25

What is the general behavior of adolescents?

Options :

1. ✖ Well behaved and confident
2. ✖ Sense of responsibility
3. ✔ Erratic, unstable and unpredictable
4. ✖ Studious and hard working

Question Number : 177 Question Id : 16794318752 Question Type : MCQ Option Shuffling : Yes Display Question Number : Yes
Single Line Question Option : No Option Orientation : Vertical
Correct Marks : 1 Wrong Marks : 0.25

यौवन प्राप्त के सामान्य व्यवहार क्या है?

Options :

1. ✖ अच्छा व्यवहार और आत्मविश्वास

2. ✖ प्रतिकृति की भावना
3. ✔ कौतिज, अस्थिर और अप्रत्याशित
4. ✖ अध्ययन और कड़ी मेहनत

Question Number : 178 Question Id : 16794318753 Question Type : MCQ Option Shuffling : Yes Display Question Number : Yes
Single Line Question Option : No Option Orientation : Vertical

Correct Marks : 1 Wrong Marks : 0.25

What does NACO, UNICEF and NCERT include in sex education?

Options :

1. ✔ Information about conception, contraception and sexually transmitted diseases
2. ✖ Cognitive input about our growth and functions
3. ✖ Emotional changes in youngsters
4. ✖ Discussion about academic performance

Question Number : 178 Question Id : 16794318753 Question Type : MCQ Option Shuffling : Yes Display Question Number : Yes
Single Line Question Option : No Option Orientation : Vertical

Correct Marks : 1 Wrong Marks : 0.25

एनएसीओ, यूनिसेफ और एनसीईआरटी में सेक्स शिक्षा में क्या शामिल है?

Options :

1. ✔ गर्भधारण, गर्भनिरोधक और यौन संचारित रोगों के बारे में जानकारी
2. ✖ हमारे विकास और कार्यों के बारे में रचनात्मक इनपुट
3. ✖ युवाओं में भावनात्मक परिवर्तन
4. ✖ अकादमिक प्रदर्शन के बारे में चर्चा

Question Number : 179 Question Id : 16794318754 Question Type : MCQ Option Shuffling : Yes Display Question Number : Yes
Single Line Question Option : No Option Orientation : Vertical

Correct Marks : 1 Wrong Marks : 0.25

What are the cognitive development of adolescents?

Options :

1. ✖ Body proportion

2. ✓ Problem solving and decision making

3. ✗ Sexual changes

4. ✗ Increase in motor performance

Question Number : 179 Question Id : 16794318754 Question Type : MCQ Option Shuffling : Yes Display Question Number : Yes
Single Line Question Option : No Option Orientation : Vertical

Correct Marks : 1 Wrong Marks : 0.25

यौवनोन्मुख/यौवन प्राप्त के संज्ञानात्मक विकास क्या हैं?

Options :

1. ✗ शारीरिक प्रस्ताव

2. ✓ समस्या को हल करना और निर्णय लेना

3. ✗ यौन परिवर्तन

4. ✗ मोटर प्रदर्शन में वृद्धि

Question Number : 180 Question Id : 16794318755 Question Type : MCQ Option Shuffling : Yes Display Question Number : Yes
Single Line Question Option : No Option Orientation : Vertical

Correct Marks : 1 Wrong Marks : 0.25

What does Panchatantra stories in India depict?

Options :

1. ✗ Has important lesson in academics

2. ✗ Has important lessons in sex education

3. ✗ Has important lessons in gender equality

4. ✓ Has important lessons in life skill enhancement

Question Number : 180 Question Id : 16794318755 Question Type : MCQ Option Shuffling : Yes Display Question Number : Yes
Single Line Question Option : No Option Orientation : Vertical

Correct Marks : 1 Wrong Marks : 0.25

भारत में पंचतंत्र कथाएं क्या दर्शाती हैं?

Options :

1. ✗ शिक्षाविदों में महत्वपूर्ण सबक है

2. ✖ सेक्स शिक्षा में महत्वपूर्ण सबक है
3. ✖ लिंग समानता में महत्वपूर्ण सबक है
4. ✔ जीवन कौशल वृद्धि में महत्वपूर्ण सबक है

Subject Related

Group Number :	10
Group Id :	167943703
Group Maximum Duration :	0
Group Minimum Duration :	120
Revisit allowed for view? :	No
Revisit allowed for edit? :	No
Break time:	0
Group Marks:	20
Revisit allowed for group Instructions? :	Yes
Maximum Instruction Time:	0
Minimum Instruction Time:	0

Subject Related

Section Id :	167943768
Section Number :	1
Section type :	Online
Mandatory or Optional:	Mandatory
Number of Questions:	20
Number of Questions to be attempted:	20
Section Marks:	20
Display Number Panel:	Yes
Group All Questions:	No

Sub-Section Number:	1
Sub-Section Id:	1679431191
Question Shuffling Allowed :	Yes

Question Number : 181 Question Id : 16794318756 Question Type : MCQ Option Shuffling : Yes Display Question Number : Yes
Single Line Question Option : No Option Orientation : Vertical

Correct Marks : 1 Wrong Marks : 0.25

What is the meaning of moral consciousness in adolescents?

Options :

1. ✖ organize their thoughts and activities in conformity with the ideal of the hero

2. ✖ enriches and transforms experience and contributes to artistic appreciation and production

3. ✔ cannot tolerate immoral or illegal activities

4. ✖

develop faith in their own capability of doing things and demand self-respect from the elder members of the society

Question Number : 181 Question Id : 16794318756 Question Type : MCQ Option Shuffling : Yes Display Question Number : Yes
Single Line Question Option : No Option Orientation : Vertical

Correct Marks : 1 Wrong Marks : 0.25

यौवनोन्मुख/यौवन प्राप्त में नैतिक चेतना का अर्थ क्या है?

Options :

1. ✖ नायक के आदर्श के अनुरूप अपने विचारों और गतिविधियों को व्यवस्थित करें

2. ✖ समृद्धता और अनुभव को बदलता है और कलात्मक प्रशंसा और उत्पादन में योगदान देता है

3. ✔ अनैतिक या अवैध गतिविधियों को सहन नहीं कर सकते हैं

4. ✖

चीज़ों को करने की अपनी क्षमता में विश्वास विकसित करें और समाज के बड़े सदस्यों से आत्म सम्मान मांगें

Question Number : 182 Question Id : 16794318757 Question Type : MCQ Option Shuffling : Yes Display Question Number : Yes
Single Line Question Option : No Option Orientation : Vertical

Correct Marks : 1 Wrong Marks : 0.25

What is the major problem in the transition of childhood to adolescent?

Options :

1. ✖ Most of them do not find much change in themselves

2. ✖ Are stressed with academics and result

3. ✖ Have psychological problems

4. ✔

Some react to physical changes with pleasure or excitement and some others experience shame, disgust, confusions, anxiety and guilt

Question Number : 182 Question Id : 16794318757 Question Type : MCQ Option Shuffling : Yes Display Question Number : Yes
Single Line Question Option : No Option Orientation : Vertical

Correct Marks : 1 Wrong Marks : 0.25

बचपन के संक्रमण में असंगत होने में बड़ी समस्या क्या है?

Options :

1. ✖ उनमें से ज्यादातर अपने आप में ज्यादा क्रोध नहीं पाते हैं

2. ✖ अकादमिक और निकाल के साथ तनावग्रस्त हैं

3. ✖ मनोवैज्ञानिक समस्याएं हैं

4. ✔

कुछ खुशी या उत्तेजना के साथ शारीरिक परिवर्तनों पर प्रतिक्रिया करते हैं और कुछ अन्य को शर्म, घृणा, भ्रम, चिंता और अपराध का अनुभव होता है

Question Number : 183 Question Id : 16794318758 Question Type : MCQ Option Shuffling : Yes Display Question Number : Yes
Single Line Question Option : No Option Orientation : Vertical

Correct Marks : 1 Wrong Marks : 0.25

From which age Health education should be given?

Options :

1. ✔ From preprimary level

2. ✖ From primary level

3. ✖ From upper primary age

4. ✖ From lower primary age

Question Number : 183 Question Id : 16794318758 Question Type : MCQ Option Shuffling : Yes Display Question Number : Yes
Single Line Question Option : No Option Orientation : Vertical

Correct Marks : 1 Wrong Marks : 0.25

किस उम्र से स्वास्थ्य शिक्षा दी जानी चाहिए?

Options :

1. ✔ पूर्व प्राथमिक स्तर से

2. ✖ प्राथमिक स्तर से

3. ✖ ऊपरी प्राथमिक आयु से

4. ✖ कम प्राथमिक आयु से

Question Number : 184 Question Id : 16794318759 Question Type : MCQ Option Shuffling : Yes Display Question Number : Yes
Single Line Question Option : No Option Orientation : Vertical

Correct Marks : 1 Wrong Marks : 0.25

What is the aim of physical training for students?

Options :

1. ✖ To follow the time table
2. ✖ To make them strong
3. ✔ To make them physically and mentally healthy
4. ✖ To develop a habit of exercise among them

Question Number : 184 Question Id : 16794318759 Question Type : MCQ Option Shuffling : Yes Display Question Number : Yes
Single Line Question Option : No Option Orientation : Vertical

Correct Marks : 1 Wrong Marks : 0.25

छात्रों के लिए शारीरिक प्रशिक्षण का उद्देश्य क्या है?

Options :

1. ✖ समय सारणी का पालन करने के लिए
2. ✖ उन्हें मज़बूत बनाने के लिए
3. ✔ उन्हें शारीरिक और मानसिक रूप से स्वस्थ बनाने के लिए
4. ✖ उनके बीच अभ्यास की आदत विकसित करने के लिए

Question Number : 185 Question Id : 16794318760 Question Type : MCQ Option Shuffling : Yes Display Question Number : Yes
Single Line Question Option : No Option Orientation : Vertical

Correct Marks : 1 Wrong Marks : 0.25

How will you help to remove technology addiction among students?

Options :

1. ✔ Plan ground activities and games for students
2. ✖ Take discussion on disadvantages of technology addiction
3. ✖ Conduct workshop on smart use of technology
4. ✖ Discussion in PTA

Question Number : 185 Question Id : 16794318760 Question Type : MCQ Option Shuffling : Yes Display Question Number : Yes
Single Line Question Option : No Option Orientation : Vertical

Correct Marks : 1 Wrong Marks : 0.25

छात्रों के बीच प्रौद्योगिकी व्यसन को दूर करने में आप कैसे मदद करेंगे?

Options :

1. ☒ छात्रों के लिए ज़मीन की गतिविधियों और खेल योजना
2. ☐ प्रौद्योगिकी व्यसन के नुकसान पर चर्चा करें
3. ☐ प्रौद्योगिकी के स्मार्ट उपयोग पर कार्यशाला आयोजित करें
4. ☐ पीटीए में चर्चा

Question Number : 186 Question Id : 16794318761 Question Type : MCQ Option Shuffling : Yes Display Question Number : Yes
Single Line Question Option : No Option Orientation : Vertical

Correct Marks : 1 Wrong Marks : 0.25

What medical facilities are required for School?

Options :

1. ☐ School counsellor and a doctor
2. ☒ First aid kit
3. ☐ Fire protection equipment's
4. ☐ Disaster management equipment's

Question Number : 186 Question Id : 16794318761 Question Type : MCQ Option Shuffling : Yes Display Question Number : Yes
Single Line Question Option : No Option Orientation : Vertical

Correct Marks : 1 Wrong Marks : 0.25

स्कूल के लिए चिकित्सा सुविधाओं की क्या आवश्यकता है?

Options :

1. ☐ स्कूल परामर्शदाता और एक डॉक्टर
2. ☒ प्राथमिक चिकित्सा किट
3. ☐ अग्नि सुरक्षा उपकरण
4. ☐ आपदा प्रबंधन उपकरण

Question Number : 187 Question Id : 16794318762 Question Type : MCQ Option Shuffling : Yes Display Question Number : Yes
Single Line Question Option : No Option Orientation : Vertical

Correct Marks : 1 Wrong Marks : 0.25

If a student has cut his finger while work culture class as a class teacher what will you do?

Options :

1. ✖ Scold the work culture teacher for not paying attention
2. ✖ Scolding the student for not being careful
3. ✔ Do a first aid and contact the parents immediately
4. ✖ Taking the student to the doctor

Question Number : 187 Question Id : 16794318762 Question Type : MCQ Option Shuffling : Yes Display Question Number : Yes
Single Line Question Option : No Option Orientation : Vertical

Correct Marks : 1 Wrong Marks : 0.25

यदि एक छात्र ने कक्षा की शिक्षक के रूप में काम संस्कृति वर्ग के दौरान अपनी उंगली काट दिया है, तो आप क्या करेंगे?

Options :

1. ✖ ध्यान देने के लिए काम संस्कृति शिक्षक को डांट दिया
2. ✖ सावधान नहीं होने के लिए छात्र को डांटना
3. ✔ प्राथमिक चिकित्सा करें और तुरंत माता-पिता से संपर्क करें
4. ✖ छात्र को डॉक्टर के पास ले जाना

Question Number : 188 Question Id : 16794318763 Question Type : MCQ Option Shuffling : Yes Display Question Number : Yes
Single Line Question Option : No Option Orientation : Vertical

Correct Marks : 1 Wrong Marks : 0.25

What is required for good health of students in classroom?

Options :

1. ✔ Good Infrastructure facilities and healthy school environment
2. ✖ Trained staff and counselors
3. ✖ Doctor's clinic in the campus
4. ✖ Workshops on health education

Question Number : 188 Question Id : 16794318763 Question Type : MCQ Option Shuffling : Yes Display Question Number : Yes
Single Line Question Option : No Option Orientation : Vertical

Correct Marks : 1 Wrong Marks : 0.25

कक्षा में छात्रों के अच्छे स्वास्थ्य के लिए क्या आवश्यक है?

Options :

1. ☒ अच्छी बुनियादी सुविधाओं और स्वस्थ स्कूल पर्यावरण
2. ☐ प्रशिक्षित स्टाफ और सलाहकार
3. ☐ परिसर में डॉक्टर का क्लिनिक
4. ☐ स्वास्थ्य शिक्षा पर कार्यशालाएं

Question Number : 189 Question Id : 16794318764 Question Type : MCQ Option Shuffling : Yes Display Question Number : Yes
Single Line Question Option : No Option Orientation : Vertical

Correct Marks : 1 Wrong Marks : 0.25

Decorating at the time of festivals and events- This community work is considered as a part of this education.

Options :

1. ☐ School education
2. ☒ Work education
3. ☐ Vocational education
4. ☐ College education

Question Number : 189 Question Id : 16794318764 Question Type : MCQ Option Shuffling : Yes Display Question Number : Yes
Single Line Question Option : No Option Orientation : Vertical

Correct Marks : 1 Wrong Marks : 0.25

त्यौहारों और घटनाओं के समय सजावट - इस समुदाय के काम को इस शिक्षा का हिस्सा माना जाता है।

Options :

1. ☐ विद्यालय शिक्षा
2. ☒ कार्य शिक्षा
3. ☐ व्यावसायिक शिक्षा
4. ☐ कॉलेज की शिक्षा

Question Number : 190 Question Id : 16794318765 Question Type : MCQ Option Shuffling : Yes Display Question Number : Yes
Single Line Question Option : No Option Orientation : Vertical

Correct Marks : 1 Wrong Marks : 0.25

What is the use of project method?

Options :

1. ✖ Gives good experience
2. ✖ Gives Life experience
3. ✔ Gives Work experience
4. ✖ Gives life long experience

Question Number : 190 Question Id : 16794318765 Question Type : MCQ Option Shuffling : Yes Display Question Number : Yes
Single Line Question Option : No Option Orientation : Vertical

Correct Marks : 1 Wrong Marks : 0.25

परियोजना विधि का उपयोग क्या है?

Options :

1. ✖ अच्छा अनुभव देता है
2. ✖ जीवन अनुभव देता है
3. ✔ कार्य अनुभव देता है
4. ✖ जीवन लंबा अनुभव देता है

Question Number : 191 Question Id : 16794318766 Question Type : MCQ Option Shuffling : Yes Display Question Number : Yes
Single Line Question Option : No Option Orientation : Vertical

Correct Marks : 1 Wrong Marks : 0.25

Doll with match box head is related to the following work:

Options :

1. ✖ Commercial work
2. ✖ Financial work
3. ✖ Physical work
4. ✔ Activity in work education

Question Number : 191 Question Id : 16794318766 Question Type : MCQ Option Shuffling : Yes Display Question Number : Yes
Single Line Question Option : No Option Orientation : Vertical

Correct Marks : 1 Wrong Marks : 0.25

मैच बॉक्स हेड के साथ गुड़िया निम्नलिखित काम से संबंधित है:

Options :

1. ✖ वाणिज्यिक कार्य
2. ✖ वित्तीय कार्य
3. ✖ शारीरिक कार्य
4. ✔ कार्य शिक्षा में गतिविधि

Question Number : 192 Question Id : 16794318767 Question Type : MCQ Option Shuffling : Yes Display Question Number : Yes
Single Line Question Option : No Option Orientation : Vertical

Correct Marks : 1 Wrong Marks : 0.25

Developing professional thinking and discourse, based on situated pedagogic issues and experiences is called as the following way:

Options :

1. ✖ Experience of the teachers
2. ✔ Reflexivity of the teachers
3. ✖ Capability of the teachers
4. ✖ Professionalism of the teachers

Question Number : 192 Question Id : 16794318767 Question Type : MCQ Option Shuffling : Yes Display Question Number : Yes
Single Line Question Option : No Option Orientation : Vertical

Correct Marks : 1 Wrong Marks : 0.25

स्थित शैक्षिक मुद्दों और अनुभवों के आधार पर पेशेवर सोच और प्रवचन का विकास निम्नलिखित तरीके से किया जाता है।

Options :

1. ✖ शिक्षकों का अनुभव
2. ✔ शिक्षकों की रिफ्लेक्सिविटी
3. ✖ शिक्षकों की क्षमता
4. ✖ शिक्षकों की व्यावसायिकता

Question Number : 193 Question Id : 16794318768 Question Type : MCQ Option Shuffling : Yes Display Question Number : Yes
Single Line Question Option : No Option Orientation : Vertical

Correct Marks : 1 Wrong Marks : 0.25

“Activities to enhance professional career growth.” Is called like this:

Options :

1. ✖ Professionalism
2. ✖ Professional growth
3. ✔ Professional development
4. ✖ Profession

Question Number : 193 Question Id : 16794318768 Question Type : MCQ Option Shuffling : Yes Display Question Number : Yes
Single Line Question Option : No Option Orientation : Vertical

Correct Marks : 1 Wrong Marks : 0.25

"पेशेवर करियर विकास को बढ़ाने के लिए गतिविधियां।" इस तरह कहा जाता है:

Options :

1. ✖ व्यावसायिकता
2. ✖ कार्य क्षेत्र में तरक्की
3. ✔ व्यावसायिक विकास
4. ✖ व्यवसाय

Question Number : 194 Question Id : 16794318769 Question Type : MCQ Option Shuffling : Yes Display Question Number : Yes
Single Line Question Option : No Option Orientation : Vertical

Correct Marks : 1 Wrong Marks : 0.25

‘School is a miniature of a society’- What it means?

Options :

1. ✔ School should follow the culture of the society
2. ✖ School is for community
3. ✖ Community is for school
4. ✖ School is for education of the community

Question Number : 194 Question Id : 16794318769 Question Type : MCQ Option Shuffling : Yes Display Question Number : Yes
Single Line Question Option : No Option Orientation : Vertical

Correct Marks : 1 Wrong Marks : 0.25

'स्कूल समाज का एक लघु है' - इसका क्या अर्थ है?

Options :

1. ☒ स्कूल को समाज की संस्कृति का पालन करना चाहिए
2. ☐ स्कूल समुदाय के लिए है
3. ☐ समुदाय स्कूल के लिए है
4. ☐ स्कूल समुदाय की शिक्षा के लिए है

Question Number : 195 Question Id : 16794318770 Question Type : MCQ Option Shuffling : Yes Display Question Number : Yes
Single Line Question Option : No Option Orientation : Vertical

Correct Marks : 1 Wrong Marks : 0.25

'Chaduvula Panduga'- This programme is launched by the following government.

Options :

1. ☐ Karnataka
2. ☐ Andhra Pradesh
3. ☒ Telangana
4. ☐ Tamilnadu

Question Number : 195 Question Id : 16794318770 Question Type : MCQ Option Shuffling : Yes Display Question Number : Yes
Single Line Question Option : No Option Orientation : Vertical

Correct Marks : 1 Wrong Marks : 0.25

'चादुवुला पांडुगा'- यह कार्यक्रम निम्नलिखित सरकार द्वारा शुरू किया गया है।

Options :

1. ☐ कर्नाटक
2. ☐ आंध्र प्रदेश
3. ☒ तेलंगाना
4. ☐ तमिलनाडु

Question Number : 196 Question Id : 16794318771 Question Type : MCQ Option Shuffling : Yes Display Question Number : Yes
Single Line Question Option : No Option Orientation : Vertical

Correct Marks : 1 Wrong Marks : 0.25

Which of the following started by Rajasthan government to tackle the problem of teachers absenteeism?

Options :

1. ✖ SSA
2. ✖ DPEP
3. ✔ Karmi Project
4. ✖ In service project

Question Number : 196 Question Id : 16794318771 Question Type : MCQ Option Shuffling : Yes Display Question Number : Yes
Single Line Question Option : No Option Orientation : Vertical

Correct Marks : 1 Wrong Marks : 0.25

शिक्षकों की अनुपस्थिति से निपटने के लिए राजस्थान सरकार द्वारा निम्नलिखित में से कौन सा शुरू हुआ?

Options :

1. ✖ सर्व शिक्षा अभियान
2. ✖ डीपीईपी
3. ✔ कर्मी परियोजना
4. ✖ सेवा परियोजना में

Question Number : 197 Question Id : 16794318772 Question Type : MCQ Option Shuffling : Yes Display Question Number : Yes
Single Line Question Option : No Option Orientation : Vertical

Correct Marks : 1 Wrong Marks : 0.25

Peer teaching technique is used for the following:

Options :

1. ✖ To School drop outs
2. ✖ To School toppers
3. ✔ To the slow learners
4. ✖ To school friends

Question Number : 197 Question Id : 16794318772 Question Type : MCQ Option Shuffling : Yes Display Question Number : Yes
Single Line Question Option : No Option Orientation : Vertical

Correct Marks : 1 Wrong Marks : 0.25

पीयर शिक्षण तकनीक का उपयोग निम्नलिखित के लिए किया जाता है:

Options :

1. ✖ स्कूल छोड़ने के लिए बाहर
2. ✖ स्कूल टॉपर्स के लिए
3. ✔ धीमी शिक्षार्थियों के लिए
4. ✖ स्कूल दोस्तों के लिए

Question Number : 198 Question Id : 16794318773 Question Type : MCQ Option Shuffling : Yes Display Question Number : Yes
Single Line Question Option : No Option Orientation : Vertical

Correct Marks : 1 Wrong Marks : 0.25

The aim of 'Saarthi' programme in child education is meant for this cause:

Options :

1. ✖ For parents development
2. ✔ Transforming Parents' Involvement in their Child's Development
3. ✖ Educating the parents
4. ✖ Providing literacy for the parents in Rural areas

Question Number : 198 Question Id : 16794318773 Question Type : MCQ Option Shuffling : Yes Display Question Number : Yes
Single Line Question Option : No Option Orientation : Vertical

Correct Marks : 1 Wrong Marks : 0.25

बाल शिक्षा में 'सार्थी' कार्यक्रम का उद्देश्य इस कारण से है:

Options :

1. ✖ माता-पिता के विकास के लिए
2. ✔ अपने बच्चे के विकास में माता-पिता की भागीदारी को बदलना
3. ✖ माता-पिता को शिक्षित करना
4. ✖ ग्रामीण क्षेत्रों में माता-पिता के लिए साक्षरता प्रदान करना

Question Number : 199 Question Id : 16794318774 Question Type : MCQ Option Shuffling : Yes Display Question Number : Yes
Single Line Question Option : No Option Orientation : Vertical

Correct Marks : 1 Wrong Marks : 0.25

This was launched to enhance access to secondary Education and to improve its quality in 2009.

Options :

1. ✖ SSA
2. ✔ RMSA
3. ✖ Mid-day meals
4. ✖ NCTE

Question Number : 199 Question Id : 16794318774 Question Type : MCQ Option Shuffling : Yes Display Question Number : Yes
Single Line Question Option : No Option Orientation : Vertical
Correct Marks : 1 Wrong Marks : 0.25

यह माध्यमिक शिक्षा तक पहुंच बढ़ाने और 2009 में अपनी गुणवत्ता में सुधार के लिए लॉन्च किया गया था।

Options :

1. ✖ सर्व शिक्षा अभियान
2. ✔ आरएमएसए (RMSA)
3. ✖ मिड-डे मील
4. ✖ एनसीटीई (NCTE)

Question Number : 200 Question Id : 16794318775 Question Type : MCQ Option Shuffling : Yes Display Question Number : Yes
Single Line Question Option : No Option Orientation : Vertical
Correct Marks : 1 Wrong Marks : 0.25

LPG stands for:

Options :

1. ✔ Liberalisation, Privatization and Globalisation model
2. ✖ Liquid Petroleum Gas model
3. ✖ Liberation, Progression and Globalization
4. ✖ Liberal views, Global wars and Privatization

Question Number : 200 Question Id : 16794318775 Question Type : MCQ Option Shuffling : Yes Display Question Number : Yes
Single Line Question Option : No Option Orientation : Vertical
Correct Marks : 1 Wrong Marks : 0.25

एलपीजी (LPG) का पूर्ण रूप क्या है?

Options :

1. ✓ लिब्रेलाइज़ेशन, प्राइवेटाइज़ेशन एंड ग्लोबलाइज़ेशन मॉडल
2. ✗ लिक्विड पेट्रोलियम गैस मॉडल
3. ✗ लिबरेशन, प्रोग्रेशन एंड ग्लोबलाइज़ेशन
4. ✗ लिबरल व्यूज, ग्लोबल वॉर्स एंड प्राइवेटाइज़ेशन